



1. Carmen ha leído 7 libros de misterio y 5 libros de aventuras. ¿Cuántos libros ha leído en total?

Datos:	Operación:
--------	------------

Solución: _____

2. En la clase de Miguel hay 12 mesas cuadradas y 4 redondas. ¿Cuántas mesas hay en la clase?



Datos:	Operación:
--------	------------

Solución: _____

3. Hay 12 niños en un salón y 9 se van. ¿Cuántos niños quedan?

Datos:	Operación:
--------	------------

Solución: _____



Nombre: _____

Completa la serie

	+2		+3		+2		+4		+2	
1										14

Escribe el signo mayor > o menor < según corresponda


7		9		8		10
12		5		21		15
5		3		13		20

Sumas

12 + 5	6 + 10	8 + 4	15 + 5

$$5 - 2 =$$

$$8 - 1 =$$



FICHA 15

Nombre y apellidos: _____

◆ Completa.

25

Treinta y cuatro

Veintitrés

14

39

Cuarenta y cinco

Cincuenta y siete

40

◆ Ordena de menor a mayor.

23

38

26

19

47

54

 < < < < <

◆ Ordena de mayor a menor.

27

50

21

35

58

42

 > > > > >

◆ Escribe el anterior y el siguiente de cada número.

 ← 30 → ← 49 →

VAMOS A SUMAR

Resuelve las siguientes operaciones

$$\begin{array}{r} 26 \\ + 32 \\ \hline \end{array}$$

$$\begin{array}{r} 84 \\ + 15 \\ \hline \end{array}$$

$$\begin{array}{r} 34 \\ + 24 \\ \hline \end{array}$$

$$\begin{array}{r} 65 \\ + 23 \\ \hline \end{array}$$

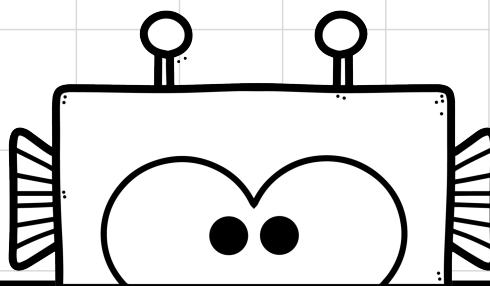
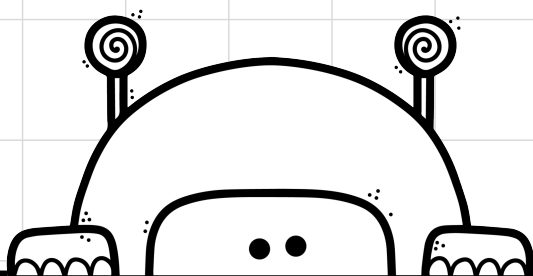
$$\begin{array}{r} 73 \\ + 16 \\ \hline \end{array}$$

$$\begin{array}{r} 52 \\ + 26 \\ \hline \end{array}$$

$$\begin{array}{r} 36 \\ + 40 \\ \hline \end{array}$$

$$\begin{array}{r} 56 \\ + 23 \\ \hline \end{array}$$

$$\begin{array}{r} 66 \\ + 13 \\ \hline \end{array}$$



Nombre: _____

Hoja de restas (sin llevar)



$$\begin{array}{r} 16 \\ - 4 \\ \hline \end{array}$$

$$\begin{array}{r} 21 \\ - 10 \\ \hline \end{array}$$

$$\begin{array}{r} 35 \\ - 14 \\ \hline \end{array}$$

$$\begin{array}{r} 19 \\ - 9 \\ \hline \end{array}$$

$$\begin{array}{r} 47 \\ - 33 \\ \hline \end{array}$$

$$\begin{array}{r} 15 \\ - 4 \\ \hline \end{array}$$

$$\begin{array}{r} 37 \\ - 17 \\ \hline \end{array}$$

$$\begin{array}{r} 67 \\ - 45 \\ \hline \end{array}$$

$$\begin{array}{r} 37 \\ - 4 \\ \hline \end{array}$$

$$\begin{array}{r} 66 \\ - 30 \\ \hline \end{array}$$

$$\begin{array}{r} 78 \\ - 7 \\ \hline \end{array}$$

$$\begin{array}{r} 12 \\ - 11 \\ \hline \end{array}$$

$$\begin{array}{r} 41 \\ - 20 \\ \hline \end{array}$$

$$\begin{array}{r} 39 \\ - 8 \\ \hline \end{array}$$

$$\begin{array}{r} 86 \\ - 5 \\ \hline \end{array}$$

$$\begin{array}{r} 99 \\ - 1 \\ \hline \end{array}$$