







NOME:

DATA:

MULTIPO5.

NA FROITERÍA

 Fíxate nos prezos de cada cousa e contesta logo ás preguntas.

<p>uvas : 4 € / Kg</p> 	<p>plátanos : 3 € / Kg</p> 	<p>limóns : 2 € / Kg</p> 
 <p>peras : 5 € / Kg</p>	 <p>amorodos : 6 € / Kg</p>	 <p>cebolas : 1€ / Kg</p>

¿Cuánto costarán tres kilogramos de amorodos?

Susana mercou 7 Kg de peras e pagou cun billete de 50 euros.

¿ Canto lle cobraron ? ¿ Canto lle devolveron ?

¿Que custa máis caro: 4 Kg de limóns ou 3 Kg de uvas?

Óscar quiere mercar 5 Kg de plátanos e 4 Kg de cebolas.

¿Poderá facer esa compra cun billete de 20 euros?