


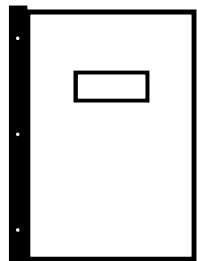
NOMBRE:

LONGITO1.

FECHA: - -

## LA LONGITUD


 Observa estos objetos:




¿Cuál tiene mayor longitud? .....

¿Cuál tiene menor longitud? .....

¿Cuáles tienen más o menos igual longitud?  
..... y .....

 Dibuja 3 líneas, una roja, otra azul más corta y otra verde más corta aún. Contesta:

DIBÚJALAS AQUÍ DENTRO




La línea azul tiene ..... longitud que la verde.

La línea azul tiene ..... longitud que la roja.

La línea verde tiene ..... longitud que la roja.

La línea roja tiene ..... longitud que la verde.

 De los tres caminos pintados en las figuras, colorea el más corto de rojo y el más largo de azul.

