



#EUQUEDONACASA

# ACTIVIDADES COA TÁBOA DO 100

#CEIPFOGAR



1	2	3	4	5	6	7	8	9	10
11	12	13	14	15	16	17	18	19	20
21	22	23	24	25	26	27	28	29	30
31	32	33	34	35	36	37	38	39	40
41	42	43	44	45	46	47	48	49	50
51	52	53	54	55	56	57	58	59	60
61	62	63	64	65	66	67	68	69	70
71	72	73	74	75	76	77	78	79	80
81	82	83	84	85	86	87	88	89	90
91	92	93	94	95	96	97	98	99	100




# TAREFA 1

FAGO A MIÑA PROPIA TÁBOA.

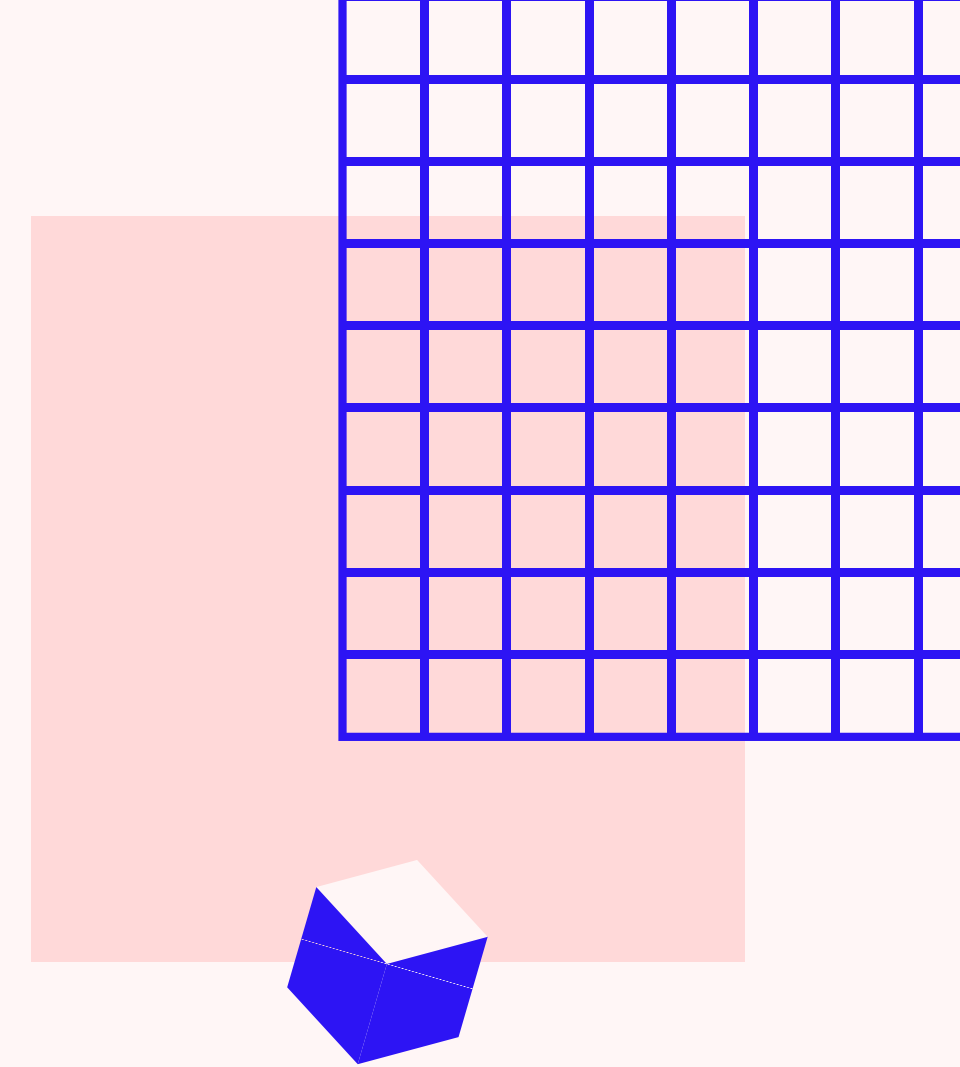
CADA NEN@ FAI A SÚA TÁBOA CON AXUDA DA FAMILIA, QUE LLE FARÁ A CUADRÍCULA, PARA QUE O NENO@ A COMPLETE POUCO A POUCO COS NÚMEROS.

PARA QUE SEXA MÁIS VISUAL RECOMENDÁMOSVOS, IGUAL QUE NO MODELO, FACER AS DECENAS NUNHA COR (VERMELLA) E AS UNIDADES NOUTRA (AZUL).




## ACTIVIDADES SINXELAS

- XOGAR A BUSCAR UN NÚMERO CONCRETO.
- BUSCAR O NÚMERO ANTERIOR E O POSTERIOR.
- FACER PREGUNTAS COMO:
  - QUE NÚMERO ESTÁ ENTRE O.... E O ....?
  - QUE NÚMERO ESTÁ ENRIBA DO...?
  - QUE NÚMERO ESTÁ DEBAIXO DO...?
- CONTAR DE 2 EN 2 (PODEMOS EMPEZAR CONTANDO DE UN EN UN PERO DICINDO UN EN ALTO E OUTRO EN BAIXIÑO).
- CONTAR DE 10 EN 10 MOVÉNDONOS HACIA ABAIXO NA TÁBOA.

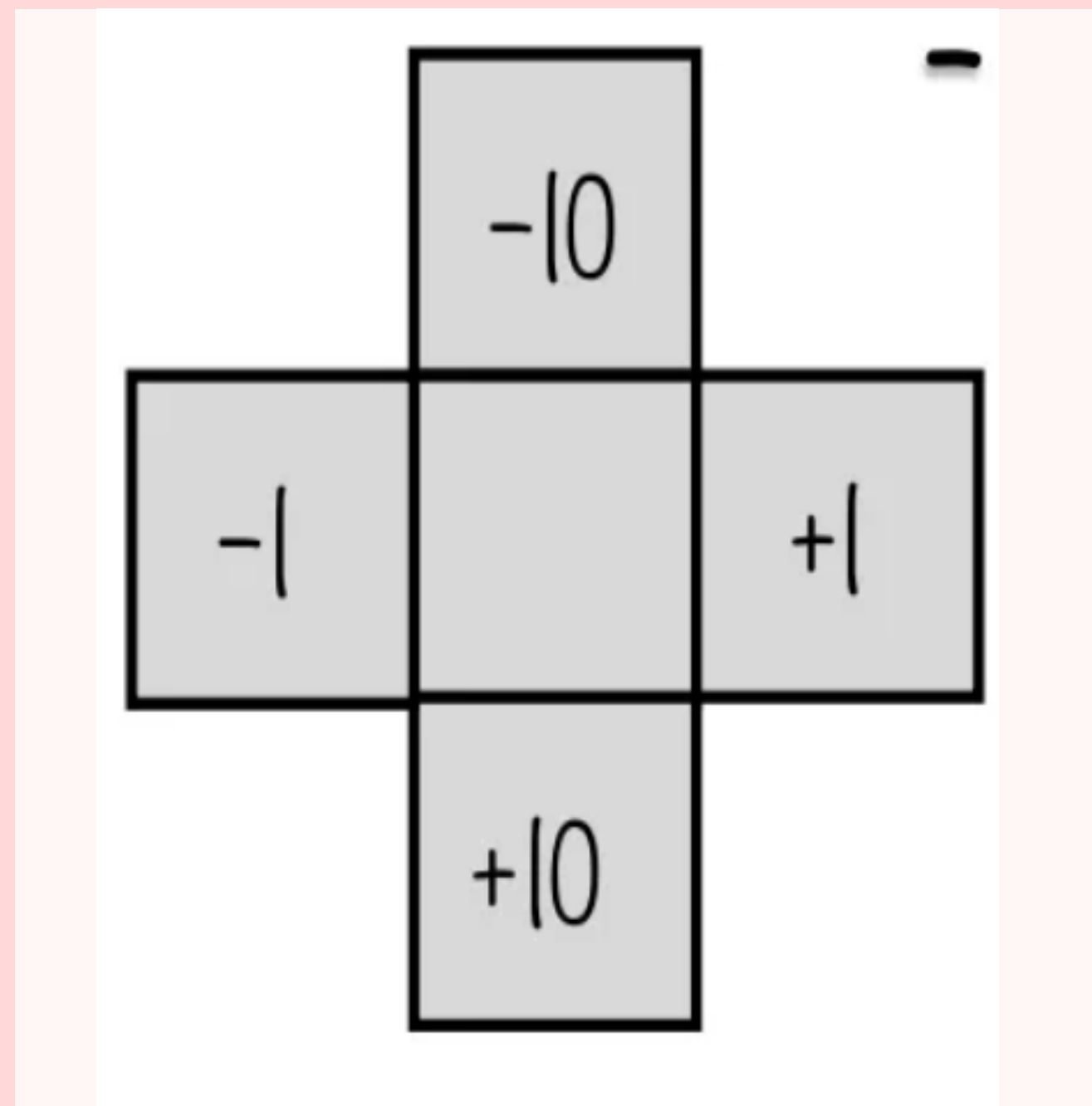


# TAREFA 2




AGORA IMOS FACER ESTA PECIÑA, DO TAMAÑO DA NOSA CUADRÍCULA, DE XEITO QUE NOS COINCIDA.


# TAREFA 3



O CADRADO CENTRAL TEN QUE ESTAR RECORTADO DE XEITO QUE SE VEXA O NÚMERO DA TÁBOA.

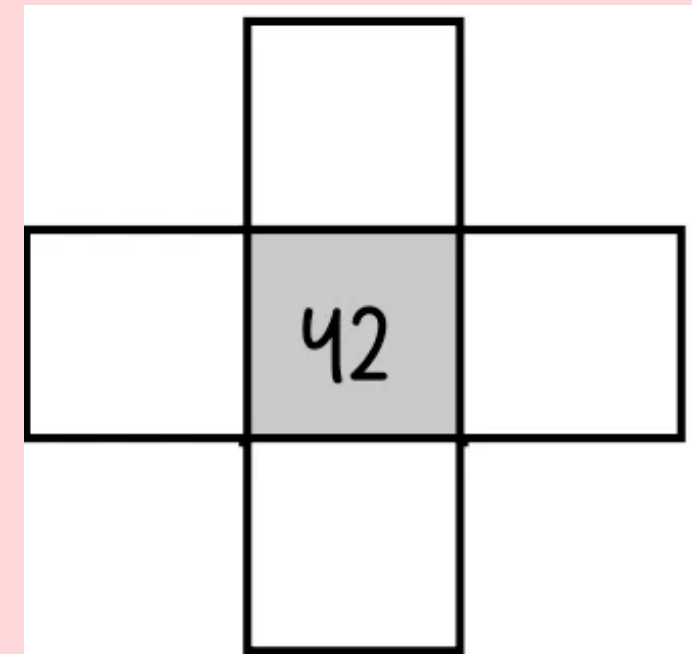
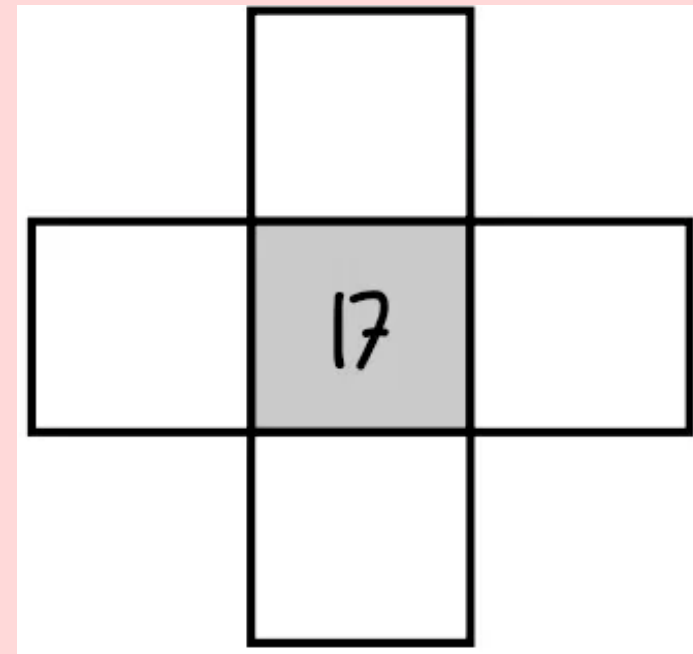
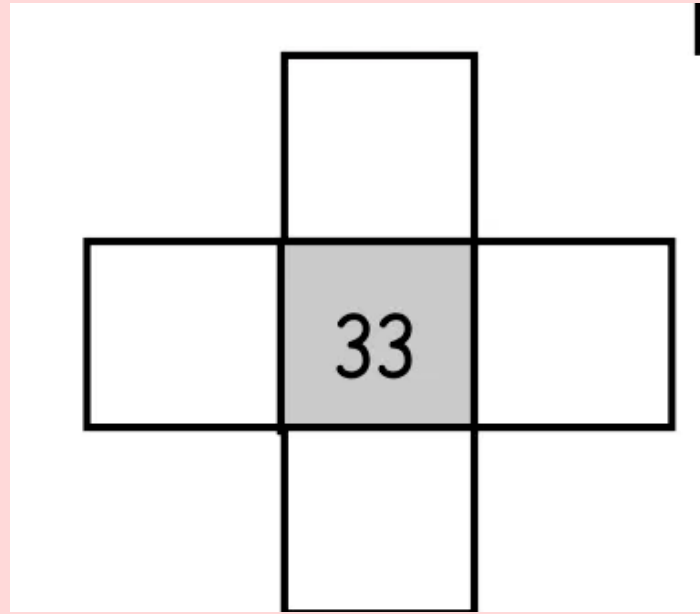



1	2		4	5	6		8	9	10
	12	13	14	15	16	17	18		20
21	22		24		26			29	30
	32	33		35		37	38	39	
41				45	46	47		49	50
	52	53	54		56		58		
61	62		64	65	66	67		69	70
	72	73	74			77	78	79	
81		83	84			87		89	90
91		93		95	96	97	98		




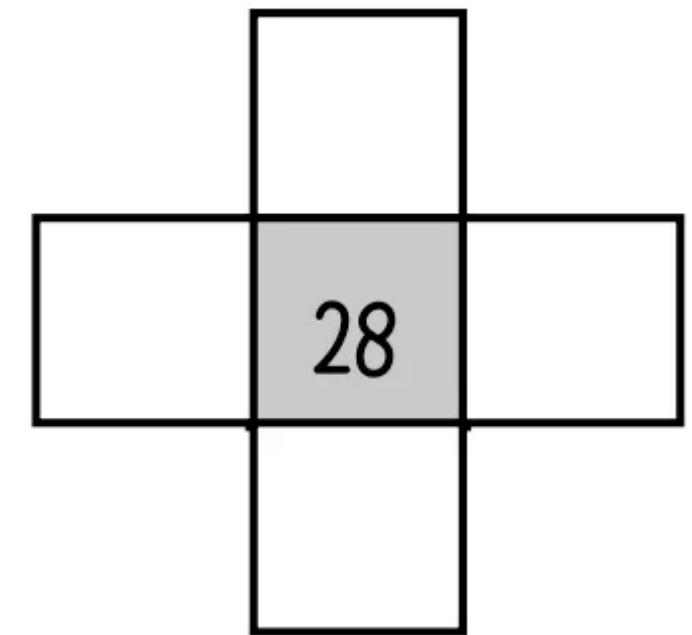
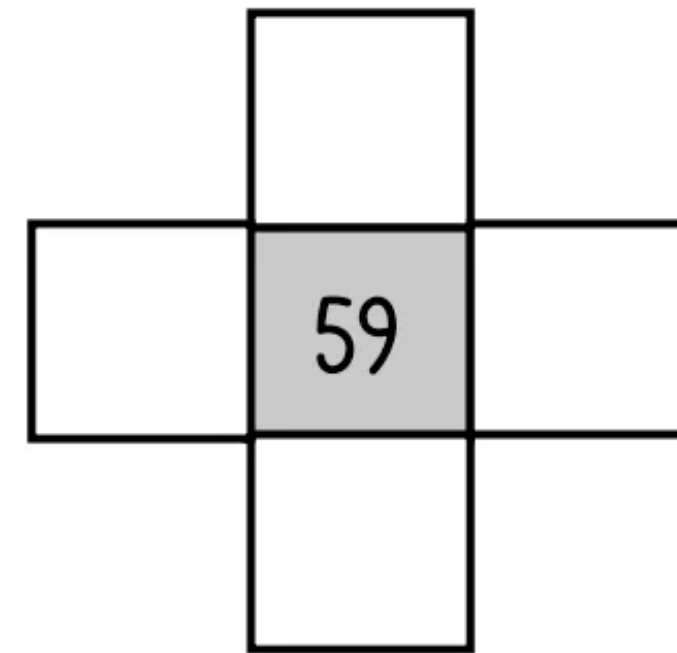
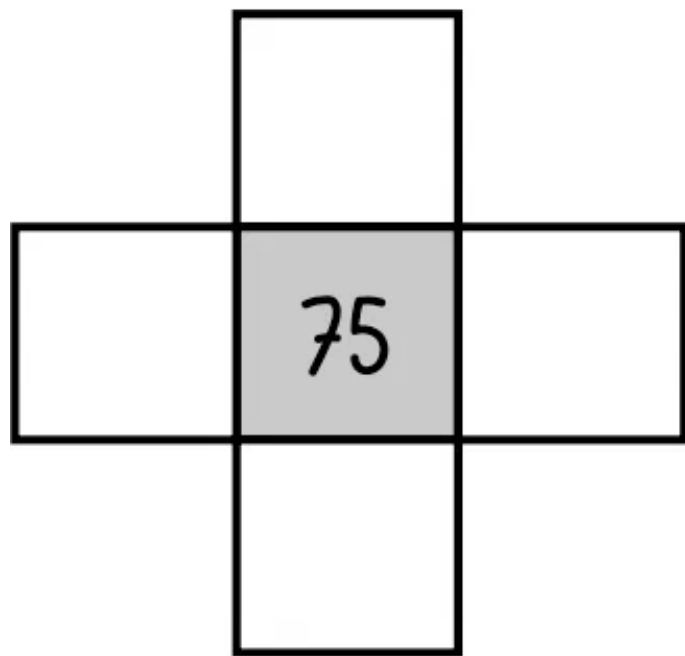
COMPLETO COS  
NÚMEROS QUE  
FALTAN

# TAREFA 4




# TAREFA 5











COMPLETO COS NÚMEROS QUE FALTAN



# TAREFA 6

A QUE NÚMERO CORRESPONDE CADA DINOSAURO?



		3		5	6	7		9	
	12			15		17	18		20

Triceratops —  Tyrannosaurus —  Pterosaur —  Spinosaurus —  Stegosaurus —

Stegosaurus —  Stegosaurus —  Triceratops —  Brachiosaurus —  Pterosaur —