


4 Resuelve.

- Mariano tiene 12 vacas. Después de que pasten les ha echado 4 kilos de pienso a cada una. ¿Cuántos kilos de pienso les ha echado en total?

DATOS

 y

OPERACIÓN



SOLUCIÓN


Les ha echado

- En un merendero hay 31 mesas. Alrededor de cada mesa hay 5 sillas. ¿Cuántas sillas hay en el merendero?

DATOS

 y

OPERACIÓN




SOLUCIÓN

Hay



Observa el dibujo y calcula.

¿Cuántos bombones hay en la caja?



Hay 4 filas y 6 columnas.



$$\square \times \square = \square \times \square = \square$$



PENSAMIENTO