

- Matemáticas páginas 176 e 177
- Lingua página 233

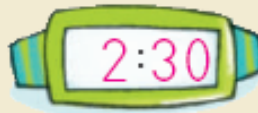
## COMPRUEBO MI PROGRESO

Completa los relojes para que marquen la hora indicada.

Las 10 en punto.



Las 2 y media.



Contesta y colorea.



Salida	5:30	7:00	8:00

- ¿Qué hora es? Las 6 en punto.
- ¿Qué autobús ha salido ya? rojo  
¿A qué hora salió? A las 5 y media.
- ¿Cuál es el próximo que va a salir? verde  
¿A qué hora saldrá? A las 7.

Lee y resuelve.

Miguel tiene 38 cuentos y Clara tiene 6 menos que Miguel. ¿Cuántos cuentos tiene Clara?

DATOS

38 y 6

OPERACIÓN





$$\begin{array}{r} 38 \\ - 6 \\ \hline 32 \end{array}$$


SOLUCIÓN

Clara tiene 32 cuentos.


nto setenta y seis

- 4 Busca en la tabla y calcula cuántas camisetas de cada tipo hay en total. Después, completa.


		
	21	13
	15	9
	23	17




$$\begin{array}{r} 21 \\ 15 \\ + 23 \\ \hline 59 \end{array}$$




$$\begin{array}{r} 13 \\ 9 \\ + 17 \\ \hline 39 \end{array}$$



$$\begin{array}{r} 21 \\ + 13 \\ \hline 34 \end{array}$$







$$\begin{array}{r} 15 \\ + 9 \\ \hline 24 \end{array}$$



$$\begin{array}{r} 23 \\ + 17 \\ \hline 40 \end{array}$$

- Hay **59** camisetas de manga corta y **39** de manga larga.
- Hay **34** camisetas rojas, **24** verdes y **40** azules.



¿CÓMO LO HE HECHO? Colorea ,  o .

- ▶ Leo la hora en distintos relojes.
- ▶ Calculo cuánto tiempo ha pasado.
- ▶ Sé sumar tres números llevando.



**TRABALLEI EN GRUPO:**



REGULAR

BEN

SUPERBÉN

**TRABALLEI SÓ OU SOA:**



REGULAR

BEN

SUPERBÉN

**Un conto que  
me gustou**

**Un poema que  
memoricei**

**O QUE APRENDÍN VAIME SERVIR PARA...**

**SINATURA:**