

- Matemáticas páxinas 158 e 159
- Lingua páxinas 216, 217 (tendes as páxinas correxidas no día de onte)

## Preparo varios ramos de flores

IAS

la lo

RAMO 1  
35 18

RAMO 2  
22 24

RAMO 3  
19 36

Hay que hacer tres ramos.



1 Traslada a la tabla los datos de las tarjetas.





IAS

ir e a ilo les dos.






				
RAMO 1			35	18
RAMO 2	22	24		
RAMO 3		19		36

2 ¿Cuántas flores de cada tipo se necesitan en total?

 →  $22$   
 →  $35$   
 → 
$$\begin{array}{r} 24 \\ + 19 \\ \hline 43 \end{array}$$
  
 → 
$$\begin{array}{r} 18 \\ + 36 \\ \hline 54 \end{array}$$

3 ¿Cuántas flores tendrá cada ramo? Calcula.

	RAMO 1		RAMO 2		RAMO 3
	$\begin{array}{r} 35 \\ + 18 \\ \hline 53 \end{array}$		$\begin{array}{r} 22 \\ + 24 \\ \hline 46 \end{array}$		$\begin{array}{r} 19 \\ + 36 \\ \hline 55 \end{array}$

► ¿Qué ramo tendrá más flores? El ramo 3.

4 ¿Qué operaciones has tenido que realizar para calcular el total de flores de cada ramo? Marca.

- |   |  |
|---|--|
| <input type="checkbox"/> Tres sumas sin llevar.               | <input type="checkbox"/> Tres restas.                                    |
| <input type="checkbox"/> Dos sumas sin llevar y una llevando. | <input checked="" type="checkbox"/> Dos sumas llevando y una sin llevar. |

5 **VALORES.** ¿Crees que las plantas son importantes? **R. L.**

- ¿Piensas que cuidamos bien los bosques y jardines?
- Comenta con tu compañero o compañera algunas medidas para cuidar mejor las plantas de vuestro entorno.



¿A quién te gustaría regalarle un ramo de flores?  
Dibuja un bonito ramo en una cartulina y dáselo  
a la persona que hayas elegido. **R. G.**



►  
**SU**  
Ha  
las  
tod