

- Matemáticas página 154, 155
- Lingua página 196

Cuerpos geométricos

Material de aula
Lámina: Figuras geométricas.

1 Observa y colorea cada cuerpo geométrico de su color.



prisma



esfera



pirámide



cilindro

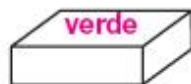


cono

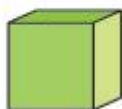


ATENCIÓN

Las figuras geométricas se encuentran en las bases de cada figura.



2 Rodea los cubos.



Este prisma se llama **cubo**. Todas sus caras son iguales.

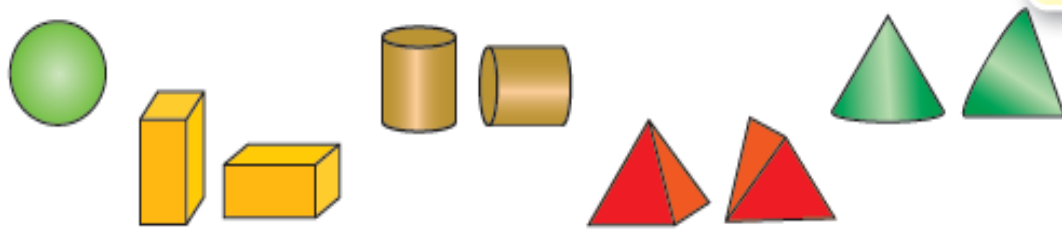


Media
ad
iva:
s
tricos.

3 Une y escribe el nombre de estos cuerpos geométricos.

pirámide
 cilindro
 prisma
 esfera
 cono

4 **CON LAS MANOS.** ¿Qué cuerpos geométricos ruedan?
 Busca objetos parecidos e intenta hacerlos rodar.
 Después, completa.



Pueden rodar ► Esfera, cilindro y cono.

No pueden rodar ► Prisma y pirámide.

DICTADO DE NÚMEROS

Números hasta el 99.



COMPROBO O MEU PROGRESO

Atopa dúas palabras con **mb** e dúas con **mp** escríbeas.

C A M P Á T A B X

E X A I N Q G X U

B O M B Ó N S M S

N R U N L U N B A

U C O M P Á S X P

S O M B R E I R O

campá



sombreiro

bombóns



compás

Que animais son? Completa cos adhesivos axeitados.



Corrícela xa?

É a ra .



Se o sabes, dío.

É o esquío .