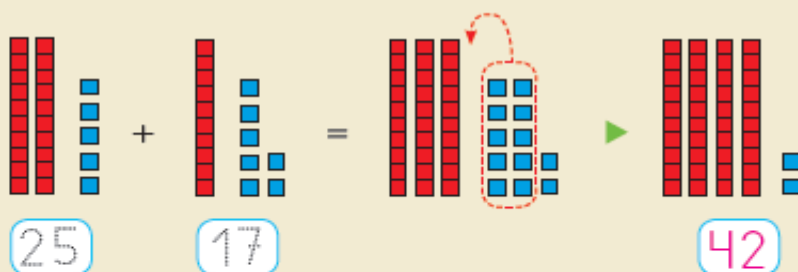


Aprendo a sumar llevando

Observa y completa.

Calcula $25 + 17$.

Cambio 10 unidades por 1 decena.



1.º Coloco los números.

	D	U
25		
+ 17		

2.º Sumo las unidades. Como son más de 9, llevo 1 decena a su columna.

	D	U		D	U
25				25	
+ 17			➤	+ 17	
12				2	

3.º Sumo las decenas.

	D	U
25		
+ 17		
42		

25 + 17 = 42

CON LAS MANOS. Utiliza decenas y unidades y calcula.

$38 + 15 = 53$

$47 + 8 = 55$

$59 + 26 = 85$

$65 + 9 = 74$

10 U ➤ 1 D



3 Suma.

$$\begin{array}{r} \text{D U} \\ \textcircled{1} \\ 45 \\ + 25 \\ \hline 70 \end{array}$$

$$\begin{array}{r} \text{D U} \\ \textcircled{1} \\ 57 \\ + 36 \\ \hline 93 \end{array}$$

$$\begin{array}{r} \text{D U} \\ \textcircled{1} \\ 52 \\ + 9 \\ \hline 61 \end{array}$$

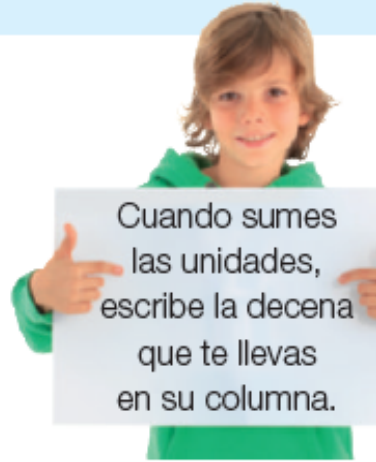
$$\begin{array}{r} \textcircled{1} \\ 35 \\ + 46 \\ \hline 81 \end{array}$$

$$\begin{array}{r} \textcircled{1} \\ 47 \\ + 23 \\ \hline 70 \end{array}$$

$$\begin{array}{r} \textcircled{1} \\ 58 \\ + 14 \\ \hline 72 \end{array}$$

$$\begin{array}{r} \textcircled{1} \\ 64 \\ + 7 \\ \hline 71 \end{array}$$

$$\begin{array}{r} \textcircled{1} \\ 73 \\ + 9 \\ \hline 82 \end{array}$$



4 ¿Es una suma llevando? Comentad y rodead la respuesta.



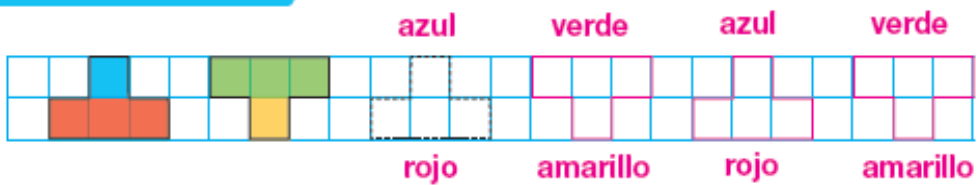
Después, calculad el resultado.

$$\begin{array}{r} \textcircled{1} \\ 36 \\ + 26 \\ \hline 62 \end{array} \quad \begin{array}{l} \textcircled{\text{Sí}} \\ \text{No} \end{array}$$

$$\begin{array}{r} \textcircled{} \\ 62 \\ + 17 \\ \hline 79 \end{array} \quad \begin{array}{l} \text{Sí} \\ \textcircled{\text{No}} \end{array}$$

$$\begin{array}{r} \textcircled{1} \\ 49 \\ + 33 \\ \hline 82 \end{array} \quad \begin{array}{l} \textcircled{\text{Sí}} \\ \text{No} \end{array}$$

SERIE GEOMÉTRICA



ciento cincuenta y u



A horta dos avós

Na horta dos meus avós medran patacas, cebolas, tomates, pementos, porros allos, leitugas, cenorias...

Coas hortalizas fresquiñas cociñan pratos moi ricos que comparten coa familia case todos os domingos.



SUXESTIÓNS

Para marcar as diferenzas, comente que as árbores dunha horta nos dan alimentos e, ademais, adoitan dispoñerse en fileiras.

1 Onde hai unha horta? Marca.



2 Que son? Une as pezas da mesma cor e escribe palabras.

pe

tu

cas



▶ patacas

lei

men

gas



▶ pementos

pa

ta

tos



▶ leitugas

3 Que é o que non medra na horta dos avós? Risca.

cenorias

cebolas

~~kiwis~~

~~amoredos~~

leitugas

~~mazás~~

allos

pementos

4 A quen lle ofrecen os avós os seus pratos? Arrodea a verdadei

Aos amigos.

Á familia.

5 Elixe e completa coas dúas palabras que acaban igual.

verdura

cabaza

segura

Comendo froita e verdura.

a saúde está máis segura.



CREATIVIDADE

Anota os ingredientes que poñerías nunha boa ensalada e débúxaa. RL

RG

S
S
s
it
c
u
n