

SEMANA 8 A 12 DE XUÑO

LUNS CASTELÁ- Pág 154 y 155. Leer el cuadro y hacer los ejercicios de las dos páginas.

Dictado en la libreta.

Puedes repasar con esta ficha interactiva:

<https://es.liveworksheets.com/ra27551tu>

Pág 165 - Leer detenidamente el cuadro. Hacer los ejercicios de la página. Recordar que el verbo nombra acciones que puede realizar una persona o un animal.

Puedes abrir este enlace, escuchar el vídeo y luego hacer los ejercicios:

<https://es.liveworksheets.com/yp527455ed>

LIBRETA- Dictado de la página 155 y el dibujo

Copia las adivinanzas y resuélvelas con el dibujo. La solución de cada una es una palabra con bl o br.

Una s que por el suelo se arrastra,	Más pequeño que una ciudad
cuando la ves te asustas y	con menos gente y
corriendo te apartas	más tranquilidad.

Nube blanca y espesa

que no deja ver ni un elefante

aunque lo tengas delante

MARTES MATEMÁTICAS- Pág 156 y 168 Repaso de números.

Pág 184 y 185 Tabla del 9 y del 10. Lees las tablas y haces los ejercicios de las dos páginas.

Para practicar la tabla del 9

<https://es.liveworksheets.com/xx269718tx>

Para practicar las tablas puedes hacer:

<https://es.liveworksheets.com/fi80413zo>

MÉRCORES SOCIAIS- Páx 96 e 97 -Le a páxina 96 e fai os

exercicios da páxina 97.

NATUREZA Páx 94 e 95. Le a páxina 94 e fai os exercicios da páxina 95.

Podes facer esta ficha sobre o uso das máquinas.

<https://es.liveworksheets.com/xk689751kk>

XOVES LINGUA - Páx 162 - 163 e 164. Le a lectura do conto

detenidamente e fai a comprensión.

Páx 178 e 179 - Recoñece o son ll e escribe palabras.

Ditado na libreta con debuxo

Para traballar un pouco o vocabulario da primavera podedes facer

esta ficha: <https://es.liveworksheets.com/sj176422ef>

VENRES MATEMÁTICAS- Pág 186- En el ejercicio 2 recuerda:

$M - S = D$ Para calcular el minuendo que es el término que falta hay que sumar $S + D = M$.

Pág 173- Realiza esta página y practica la multiplicación en vertical.

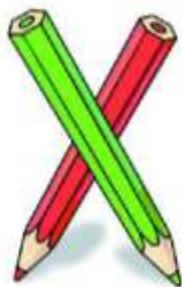
Recordade mandar a titora o traballo para correxir.

Multiplicaciones sin llevar

1 Calcula.

$$\begin{array}{r} 41 \\ \times 2 \\ \hline \end{array}$$

$$\begin{array}{r} 23 \\ \times 3 \\ \hline \end{array}$$



$$\begin{array}{r} 132 \\ \times 2 \\ \hline \end{array}$$

$$\begin{array}{r} 102 \\ \times 3 \\ \hline \end{array}$$

$$\begin{array}{r} 83 \\ \times 2 \\ \hline \end{array}$$

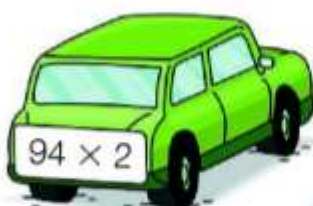
$$\begin{array}{r} 71 \\ \times 3 \\ \hline \end{array}$$

$$\begin{array}{r} 52 \\ \times 4 \\ \hline \end{array}$$

$$\begin{array}{r} 90 \\ \times 5 \\ \hline \end{array}$$



2 ¿A qué garaje va cada coche? Coloca los números y multiplica. Después, relaciona y colorea igual.



Calcula aquí las multiplicaciones.



Problemas

Lee y resuelve.


- Andrea ha vendido hoy 250 bocadillos. De ellos, 165 eran de jamón y los demás de tortilla. ¿Cuántos bocadillos de tortilla ha vendido?



DATOS


y

OPERACIÓN



SOLUCIÓN


- Raúl tiene 124 ovejas y Pepa tiene 96 ovejas más que Raúl. ¿Cuántas ovejas tiene Pepa?



DATOS

y

OPERACIÓN



SOLUCIÓN

- En una cajonera hay 6 cajones con 8 camisetas en cada uno. ¿Cuántas camisetas hay en la cajonera?

DATOS

y

OPERACIÓN

\times =

SOLUCIÓN



1 Completa esta rima:



Po_____ecita la _____:
tiene mucha fie____e.

2 Completa los nombres de estos meses:

• septiem_____e • noviem_____e • fe_____ero • a_____il

► Ahora, escribe cada nombre donde corresponda y completa las rimas.

En _____, me pongo el som_____ero.

En _____, es muy agrada_____e salir.

En _____, _____illa el Sol casi siempre.

En _____, se ru_____a el ambiente.

3 Completa el cartel.

• obras • obligatorio • cables • cubrirse

En la zona de _____, es _____

_____ la cabeza con el casco.

¡Ojo con pisar los _____!



4 Copia las palabras que sean de la misma familia.

ablandar

blando

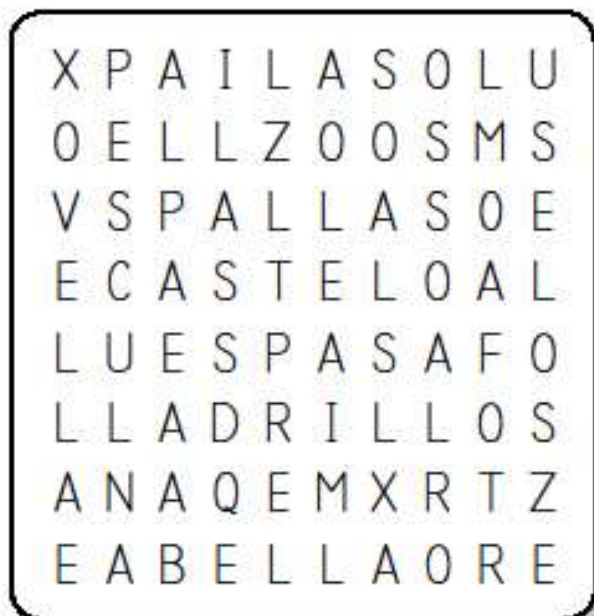
bramar

reblandecer

blancura

Nome _____ Data _____

- 1** Busca na sopa de letras catro palabras co dígrafo ll e dúas coa letra l.
Despois, escribe cada palabra debaixo do debuxo correspondente.













- 2** Risca en cada columna a palabra que non é correcta con x e escribea na forma correcta con ll.

faixa
burbuxa
engraxar
pelexar

vantaxe
bandexa
gorxa
parexa

espexo
ameixa
estoxo
laranxa

VOCABULARIO PRIMAVERA

BUSCA O NOME DESTES ANIMAIS NO CRUCIGRAMA



F	A	H	Q	A	J	V	I	N	G	B	H
G	Ñ	Y	Ñ	N	U	H	U	E	G	N	W
O	L	L	E	O	C	P	V	E	R	M	E
X	A	E	A	V	I	Ñ	V	Z	I	Ñ	T
B	T	Ñ	G	X	D	X	X	Y	L	Y	F
J	E	V	E	C	B	O	D	I	O	G	I
B	R	D	O	X	B	A	I	B	K	E	X
J	O	X	J	Q	V	N	A	U	F	V	G
R	B	S	N	V	H	I	B	Z	D	R	C
B	L	A	K	A	T	Ñ	M	X	J	A	B
R	O	Q	V	C	A	a	O	C	J	A	I
O	B	Y	A	W	X	A	P	W	M	R	Y



Cálculo mental: A bolboreta.

1 Restar los números.

$7 - 2 = \underline{\quad}$ $9 - 3 = \underline{\quad}$ $8 - 5 = \underline{\quad}$

$5 - 3 = \underline{\quad}$ $6 - 5 = \underline{\quad}$ $9 - 7 = \underline{\quad}$

$4 - 3 = \underline{\quad}$ $7 - 2 = \underline{\quad}$ $5 - 4 = \underline{\quad}$

2 Colorea según los resultados.

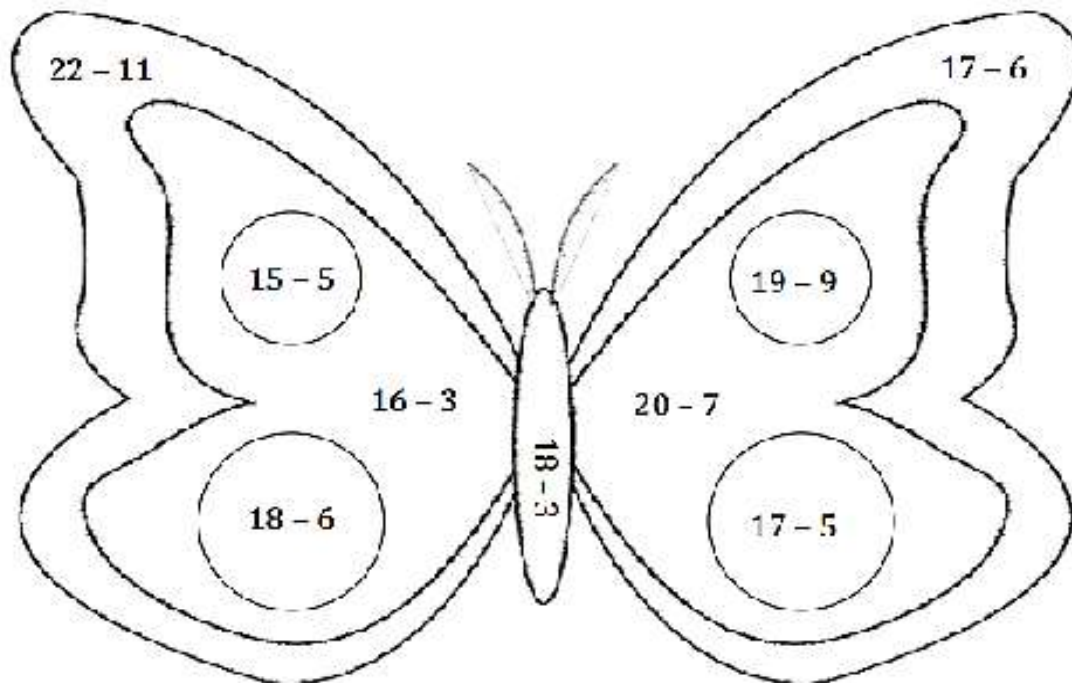
Azul = 12

Rojo = 13

Amarillo = 10

Verde = 11

Gris = 1



3 Restar los números.

$6 - 1 = \underline{\quad}$

$9 - 2 = \underline{\quad}$

$5 - 1 = \underline{\quad}$

$4 - 1 = \underline{\quad}$

$7 - 5 = \underline{\quad}$

$10 - 9 = \underline{\quad}$

$10 - 1 = \underline{\quad}$

$10 - 2 = \underline{\quad}$

$10 - 7 = \underline{\quad}$

$10 - 4 = \underline{\quad}$

$6 - 4 = \underline{\quad}$

$7 - 1 = \underline{\quad}$

$9 - 3 = \underline{\quad}$

$8 - 2 = \underline{\quad}$

$5 - 0 = \underline{\quad}$

Pinta todo o que usamos para medir o tempo

