

## SEMANA 25 A 29 MAIO

**LUNS - LENGUA - LIBRO** Página 144 lee la página y responde a las preguntas.

Página 145 a partir del modelo proporcionado en la página anterior redactarás una carta : Piensa en la persona a la que se la vas a enviar, selecciona la información que le quieres transmitir y redacta la carta de forma clara y correcta.

Página 146- Lee el poema en voz alta con la entonación y pronunciación adecuada. Haz el ejercicio 1 y 2.

Página 147- Repaso. Si tienes dificultad puedes consultar las páginas hechas del libro. Recuerda que a la hora de escribir una oración no te olvides de la mayúscula inicial ni del punto final.

Para repasar puedes hacer este ejercicio:

<https://es.liveworksheets.com/bn190861mq> sustantivo o adjetivo

**MARTES - NATURZA - LIBRO.-** Le a páxina 86 e 87(Só lectura e as dúbidas que vos poidan suxir preguntádeme. Á páxina 87 é moi interesante. Sabedes que compás é brújula en castelá. Vamos comezar a facer o coche de carreiras da páxina 91. Esta semana vamos a decorar un rolo de papel hixiénico. Pode ser con tempera, rotuladores, ceras ou envolvelo cun papel de regalo ou un folio decorado por vós. Como vexades.

**MÉRCORES- MATEMÁTICAS- LIBRO** Página 145. Realiza las operaciones repasando los resultados.

Página 149. Realiza los problemas buscando primero el dato que falta y comprueba que la solución tiene sentido.

Lee la página 150 y 151 y haz los ejercicios. En la página 150 en el cuadro está cambiado cono y cilindro.

Para más información <https://www.youtube.com/watch?v=5GLduNQ5kA4>

Página 158 tabla del 7. Seguimos con las tablas. Haz los ejercicios del libro para practicar. Podeis practicar las tablas con este juego: <https://www.tablasdemultiplicar.com/happy-burger.html>

O hacer este puzzle <https://es.liveworksheets.com/aj28294lg>

**XOVES - LINGUA - LIBRO** - Páxina 153. Repasamos o adxectivo que traballache en castelá a semana pasada. Le o cadriño e contesta as preguntas desta páxina.

Paxina 154 e 155 . Palabras con br e bl. Fai os exercicios das dúas páxinas e o ditado na libreta.

**VENRES - SOCIAIS- LIBRO** Páxina 86 Le o exercicio e fai os pasos 1 , 2 e 3. Pensa nun produto que se pode comprar na tenda e escríbeo na páxina 86 do libro, non pode ser tomate frito nin leite..

Páx 88 - É un repaso do tema O Exer 2

Copiades na libreta o seguinte esquema:

**Medios de Comunicación**

Informan ou entreteñen

serven para comunicarnos

televisión

teléfono

periódico

internet

radio

# Tabla del 7

Nombre: \_\_\_\_\_

$7 \times 10 = \underline{\quad}$

$7 \times 6 = \underline{\quad}$

$7 \times 3 = \underline{\quad}$

$7 \times 1 = \underline{\quad}$

$7 \times 5 = \underline{\quad}$

$7 \times 5 = \underline{\quad}$

$7 \times 2 = \underline{\quad}$

$7 \times 10 = \underline{\quad}$

$7 \times 10 = \underline{\quad}$

$7 \times 3 = \underline{\quad}$

$7 \times 4 = \underline{\quad}$

$7 \times 4 = \underline{\quad}$

$7 \times 4 = \underline{\quad}$

$7 \times 1 = \underline{\quad}$

$7 \times 1 = \underline{\quad}$

$7 \times 8 = \underline{\quad}$

$7 \times 9 = \underline{\quad}$

$7 \times 7 = \underline{\quad}$

$7 \times 7 = \underline{\quad}$

$7 \times 2 = \underline{\quad}$

$7 \times 8 = \underline{\quad}$

$7 \times 5 = \underline{\quad}$

$7 \times 7 = \underline{\quad}$

$7 \times 6 = \underline{\quad}$

$7 \times 6 = \underline{\quad}$

$7 \times 8 = \underline{\quad}$

$7 \times 2 = \underline{\quad}$

$7 \times 9 = \underline{\quad}$

$7 \times 3 = \underline{\quad}$

$7 \times 9 = \underline{\quad}$

$7 \times 5 = \underline{\quad}$

$7 \times 8 = \underline{\quad}$

$7 \times 4 = \underline{\quad}$

$7 \times 8 = \underline{\quad}$

$7 \times 7 = \underline{\quad}$

$7 \times 9 = \underline{\quad}$

$7 \times 7 = \underline{\quad}$

$7 \times 9 = \underline{\quad}$

$7 \times 8 = \underline{\quad}$

$7 \times 6 = \underline{\quad}$

$7 \times 2 = \underline{\quad}$

$7 \times 1 = \underline{\quad}$

$7 \times 1 = \underline{\quad}$

$7 \times 5 = \underline{\quad}$

$7 \times 3 = \underline{\quad}$

$7 \times 2 = \underline{\quad}$

$7 \times 10 = \underline{\quad}$

$7 \times 5 = \underline{\quad}$

$7 \times 10 = \underline{\quad}$

$7 \times 3 = \underline{\quad}$

$7 \times 10 = \underline{\quad}$

$7 \times 3 = \underline{\quad}$

$7 \times 6 = \underline{\quad}$

$7 \times 2 = \underline{\quad}$

$7 \times 4 = \underline{\quad}$

$7 \times 1 = \underline{\quad}$

$7 \times 6 = \underline{\quad}$

$7 \times 9 = \underline{\quad}$

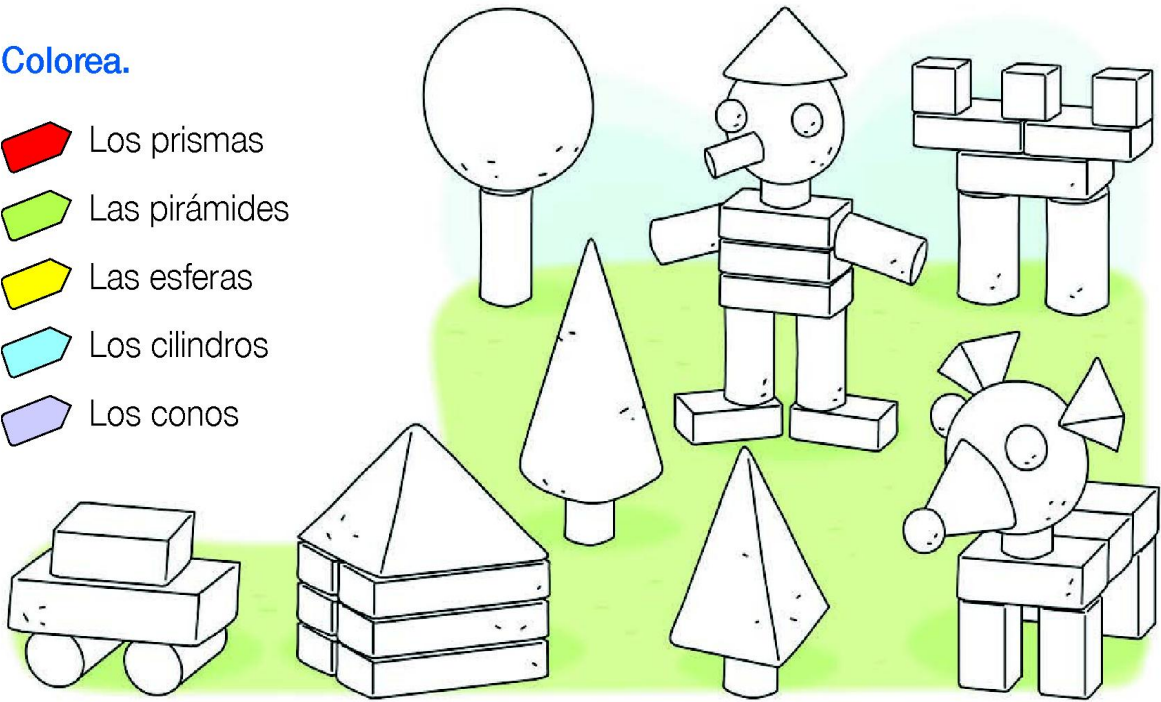
$7 \times 4 = \underline{\quad}$

$7 \times 7 = \underline{\quad}$


# Cuerpos geométricos

1 Colorea.

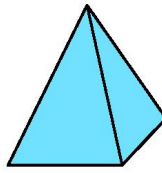
-  Los prismas
-  Las pirámides
-  Las esferas
-  Los cilindros
-  Los conos




2 Escribe el nombre de cada cuerpo geométrico.




\_\_\_\_\_




\_\_\_\_\_



\_\_\_\_\_



\_\_\_\_\_

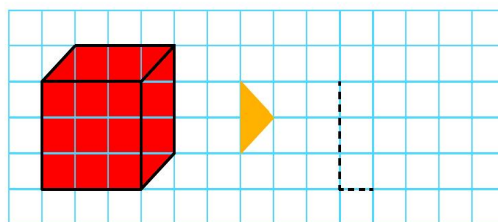


\_\_\_\_\_

3 Copia este prisma.

¿Cómo se llama?

\_\_\_\_\_





## Cantos traballos!

Hoje a miña nai preparoume unha excursión sorpresa. Descubrimos como chega ata a casa o meu tomate frito favorito.



Primeiro fomos a unha horta chea de tomates. O agricultor díxonos que a planta do tomate necesita moito sol para crecer.

Despois visitamos un almacén, onde varios condutores esperaban nos seus camións para transportar os tomates a outros lugares.



Seguimos un camión que se dirixía a unha fábrica de tomate frito. Alí, os obreiros e obreiras envasaban tomate sen parar.



Ao final, chegamos ata o supermercado, onde un repoiñedor colocou os botes nos andeis. Collemos un par deles, pagámosllos a unha caixaeira e...



Á casa! Xa podemos facer macarróns!

## Que curioso!

### Que lonxe!

Mirando as etiquetas dos produtos, vin que algúns chegan desde países moi afastados. Virán en camións?



## En serie

Nas fábricas, os coches constrúense por etapas. Cada obreiro é un especialista na tarefa que debe realizar. Todos son necesarios para terminar o vehículo.



## Incrible!

Nalgúns lugares xa se pode pagar co teléfono móbil ou a impresión dos dedos.




## O teu diario

- Que che gustaría ser de maior?
- Debuxa algunhas materias primas que se obteñan en Galicia.

- Que farías? Marca.

- Obter materias primas.
- Transformar produtos.
- Ofrecer servizos.

- Que traballos son os máis comúns no lugar onde vives?



Decora, recorta y pega.

