



Nombre \_\_\_\_\_ Fecha \_\_\_\_\_

### RECUERDA

- Un segmento es la parte de recta comprendida entre dos puntos.
- Las rectas paralelas no se cortan.
- Las rectas secantes se cortan en un punto.


Segmento



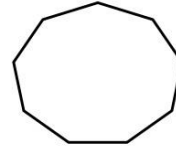
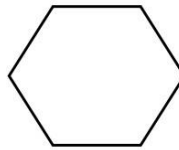
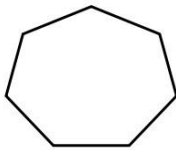
Rectas paralelas



Rectas secantes



**1** Cuenta y escribe cuántos segmentos forman cada figura.



**2** Dibuja una figura formada por los segmentos que se indican.

- 4 segmentos

- 5 segmentos



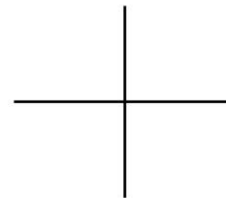
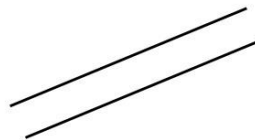

**3** Repasa.

ROJO

Las rectas paralelas.

AZUL

Las rectas secantes.



En matemáticas vamos a afianzar lo aprendido de rectas paralelas y secantes completando esta ficha y resolviendo las actividades de las páginas 212-213 siguientes: 1,2,3 y 8.

Podéis hacerlas en la libreta.