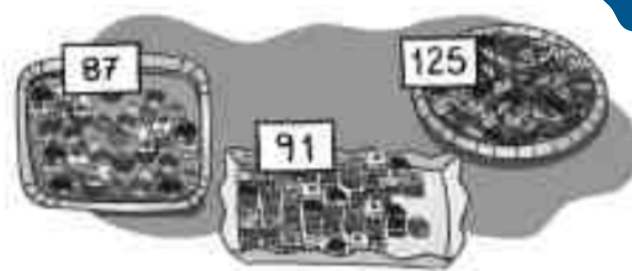


En la pastelería *La palmera* hoy han hecho estas 3 bandejas de pasteles. ¿Cuántos pasteles han hecho en total?



### 1. Comprende.

Pregunta: \_\_\_\_\_

\_\_\_\_\_


Datos: \_\_\_\_\_

\_\_\_\_\_

### 2. Piensa qué hay que hacer.

- una resta.
- una multiplicación.
- una suma.

### 3. Calcula.



Respuesta:

\_\_\_\_\_

En la tienda de muebles han puesto las rebajas. ¿Cuántos euros menos cuesta el sofá ahora?



### 1. Comprende.

Pregunta: \_\_\_\_\_

\_\_\_\_\_


Datos: \_\_\_\_\_

\_\_\_\_\_

### 2. Piensa qué hay que hacer.

- una resta.
- una suma y una resta.
- una suma.

### 3. Calcula.



Respuesta:

\_\_\_\_\_