

TAREFAS DE PRIMEIRO DE EP PARA A SEMANA DO 5 AO 8 DE MAIO

INDICACIÓNS E RECOMENDACIÓNS XERAIS

As tarefas que propoño a continuación pódense entregar cun prazo máximo de ata o luns, 11 de maio ao correo villarnovo@edu.xunta.gal o mesmo que calquera dúbida sobre estas actividades ou o que consideredes oportuno.

O listado de tarefas para entregar é o seguinte:

- **Lingua galega:** Unidade 5. Ficha 3. “O ch”
- **Lingua castelá:** Páxina 8
- **Matemáticas:** Páxina 19
- **Ciencias sociais:** Os meses do ano

MATEMÁTICAS

Nos anexos tedes as fotocopias para o traballo de matemáticas. Para elaborar as tarefas, podedes imprimir ou facelas nun caderno, folla en branco ou no recurso que mellor vos resulte ou dispoñades.

LINGUA CASTELÁ

Nos anexos tedes as fotocopias para o traballo de lingua castelá. Para elaborar as tarefas, podedes imprimir ou facelas nun caderno, folla en branco ou no recurso que mellor vos resulte ou dispoñades.

LINGUA GALEGA

Nos anexos tedes as fotocopias para o traballo de lingua galega. Para elaborar as tarefas, podedes imprimir ou facelas nun caderno, folla en branco ou no recurso que mellor vos resulte ou dispoñades.

CIENCIAS DA NATUREZA

Imaxina que imos saír a rúa e está chovendo. Debuxa como irías vestido.

CIENCIAS SOCIAIS

Escribe, por orde:

- Días da semana
- Estacións do ano
- Meses do ano

EDUCACIÓN PLÁSTICA

Nun mapa que atopache se indica onde está un tesouro. Debuxa ese mapa e pon os puntos cardinais nel, para que saiba cara onde hai que ir.

VALORES SOCIAIS E CÍVICOS

Debuxa as seguintes expresións na cara dunha persoa: felicidade, tristeza, sorpresa e enfado.

ANEXO

FICHA 3



ch ch ch ch Ch Ch


chi cha chu che cho




Chema marcha á China.

1 Copia e relaciona.

Chocolate con churros.




Chourizo con alcachofas.



Salchichas con chicharos.





pr pr pr Pr Pr Pr

pre pro pri pru pra Pre Pri

pre pro pri pru pra Pre Pri



Priscila vive preto do prado.

A princesa perdoa ao preso.



1 Completa seguindo o código de cores.


primeiro

premio

sempre

Quem chega _____

_____ ten _____.





pl pl pl Pl Pl Pl

pla plu ple pli plo Pla Plo

O prato repleto de sopa.



1 Pinta a palabra correcta e cópiala.



plafón planta plana ▶



plica pleno pluma ▶



plano plasma amplo ▶

 **Lee** en voz alta este trabalenguas

Un *tigre*, dos *tigres*,
tres *tigres*
comían trigo
en un trigal.



 **Escribe** cada nombre en su dibujo y **cópialo** después



a g r o




r



u

g



t

i

g

r

e



a

r

i


a

f

r

o

a

 **Completa** estas frases y **cópialas** después

Sale agua del _____



El _____ entra en la _____

 **Rodea** en rojo las sílabas *gra, gre, gri, gro, gru* de estas palabras:

grado

grada

lágrima

grito


grupo

gramo

gruñido

alegre

grosero

 **Haz** una frase con cada palabra

tigre

alegre

 **Forma** palabras

_____ illo

_____ ía

_____ ipe

gr

_____ acias


_____ osero

 **Adivinanza.** ¿Qué es?

Soy verde, verde,
 ando despacio,
 entro en mi concha
 cuando me enfado

(La tortuga)



 **Lee** en voz alta estas palabras después de tu maestra o maestro. Luego **copia** cada una dos veces.



atropellar




trepar



atravesar

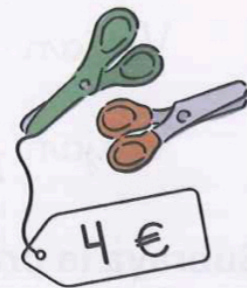




trigo

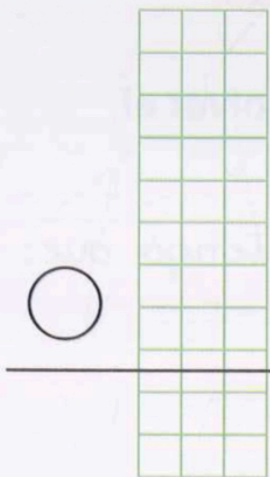


trucha

La "seño" nos ha encargado que compremos una caja de lápices de colores, una barra de pegamento y unas tijeras para hacer un trabajo manual en clase.



¿Cuánto dinero he gastado?



¿Qué debo hacer?

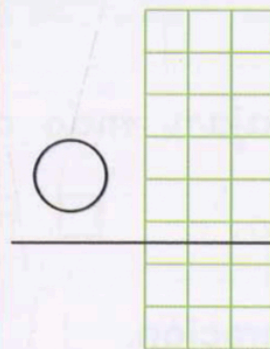
Junto lo que valen las tres cosas que he comprado.

Si junto tengo que:

- Sumar
 Restar

Solución: He gastado _____ €

Si mamá me da 15 €, ¿cuánto dinero me sobra?



¿Qué debo hacer?

Al dinero que me ha dado mamá le quito lo que he gastado.

Si quito tengo que:

- Sumar
 Restar

Solución: Me sobran _____ €

● Marca la respuesta correcta.

- Lo más caro son los lápices de colores.
 Lo más barato son las tijeras.

Marca la respuesta correcta.

Tengo cuatro canicas más que Javier.

- Javier tiene más canicas que yo.
- Javier tiene menos canicas que yo.



En una obra de teatro participan 18 niñas y 12 niños.



- Hay más chicas que chicos.
- Hay más chicos que chicas.

Ana tiene 15 años y su hermano es 4 años menor que Ana.

- Ana es mayor que su hermano.
- Ana es menor que su hermano.



Rodea con un círculo la respuesta correcta.

Mi hermana ha leído 5 páginas y yo 3 más.

¿Cuántas páginas he leído? 3 5 8

Si tengo seis años, ¿cuántos años tendré cuando pasen 5 años? 5 6 11

Si tengo 15 cromos, ¿cuántos me faltan para tener 20? 5 10 20

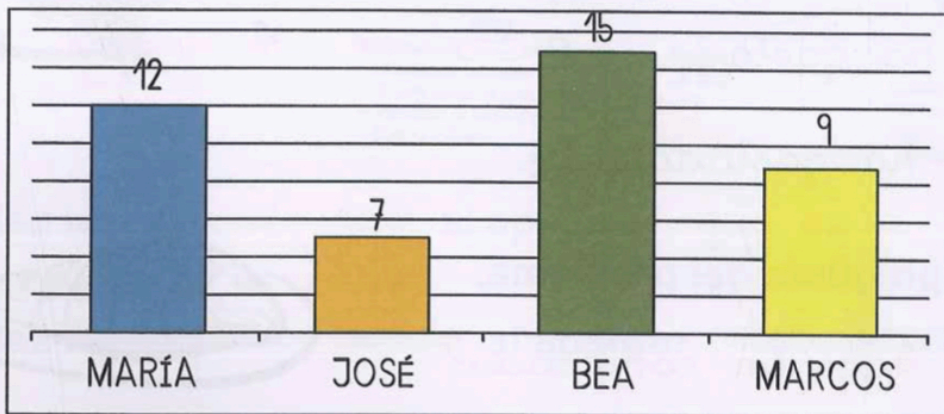
Observa el dinero que tiene cada niño y completa con más o menos.

Pepe tiene..... 5 €
Javier tiene..... 9 €
Laura tiene..... 7 €

Pepe tiene _____ que Javier.
Javier tiene _____ que Laura.



En el cole hemos organizado un campeonato de fútbol. Con los goles que hemos marcado ha hecho nuestra "señal" una gráfica. ¿Me puedes ayudar con algunas dudas que tengo?



Completa la tabla.

	María	José	Bea	Marcos
Goles				

Haz una cruz a la respuesta correcta.

¿Cuántos goles ha marcado Jose?

12 7 9

¿Quién ha marcado nueve goles?

María. Bea. Marcos.

¿Quién ha marcado más goles?

María. Bea. Marcos.

Completa con más o menos.

María ha marcado _____ que José.

Marcos ha marcado _____ que Bea.