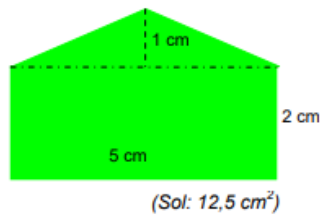


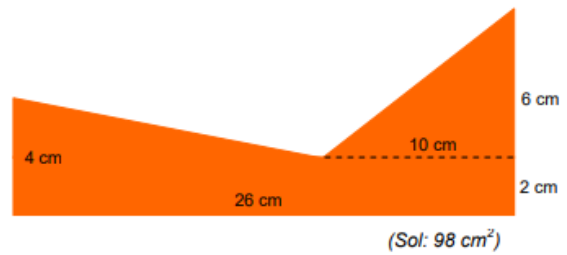
Tarea Viernes 27

1.- Calcula el área de las siguientes figuras:

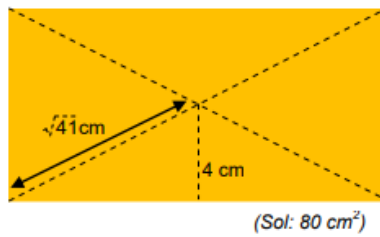
a)



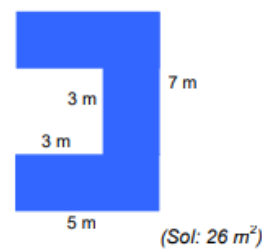
b)



c)



d)



2.- Extra: Calcula el área de la parte pintada de azul (lo que mide 10 cm es el diámetro del círculo grande)

