

ACTIVIDADES DE REFUERZO

1. Localiza en el mapa las siguientes ciudades y elementos geográficos donde se desarrolló la civilización griega y escribe sus nombres:



Asia Menor

Atenas

Mar Egeo

Mar Jónico

Macedonia

Peloponeso

Troya

Esparta

Foclea

2. Explica las diferencias del tipo de gobierno en las polis de Esparta y de Atenas. Utiliza las palabras de los recuadros:

gobierno oligárquico

aristócratas

ciudadanos

instituciones democráticas

.....

.....

.....

.....

3. Escribe los nombres de los conceptos relacionados con la colonización griega del Mediterráneo donde corresponda:

Liga de Delos

G. Médicas

Alejandro

Filipo IV

G. del Peloponeso

- Rey que derrotó a los atenienses y inició la conquista de Grecia. →
- Guerras donde se enfrentaron Esparta y Atenas. →
- Asociación de ciudades dirigida por Atenas. →
- Rey macedonio que unificó la Hélade bajo su monarquía.. →
- Guerras donde se enfrentaron los ejércitos de Atenas y Persia. →

1. Visita esta página web y, a continuación, responde a las preguntas planteadas sobre la democracia en Atenas:

<http://www.tiching.com/21929>

– ¿La democracia ateniense era para todos? Justifica tu respuesta.

.....
.....
.....
.....

– ¿De qué derechos estaban privadas las mujeres en la democracia ateniense?

.....
.....

2. Entra en la siguiente página web, identifica tres templos de la acrópolis de Atenas y descríbelos:

<http://www.tiching.com/735554>

1.

2.

3.

.....
-------------------------------------------------------------	-------------------------------------------------------------	-------------------------------------------------------------

3. Describe las consecuencias sociales y culturales de las conquistas de Alejandro Magno y define brevemente el concepto de "helenismo".

.....
.....
.....
.....
.....

XEOGRAFÍA

1. Consulta el libro y esta página web para completar la tabla:

<http://www.tiching.com/16078>

	Caudal	Ejemplos
Ríos de tipo continental		
Ríos de tipo oceánico		
Ríos mediterráneos		
Ríos de vertiente ártica		

3. Escribe los ríos más importantes con ayuda del mapa de la página 51 del libro. Completa la leyenda sobre las vertientes peninsulares y coloréalas en el mapa:



The map shows the Iberian Peninsula with a network of rivers and their drainage basins. The legend on the right provides a template for labeling and coloring these basins.

Legend:

- Vertiente
-
- Vertiente
-
- Vertiente
-

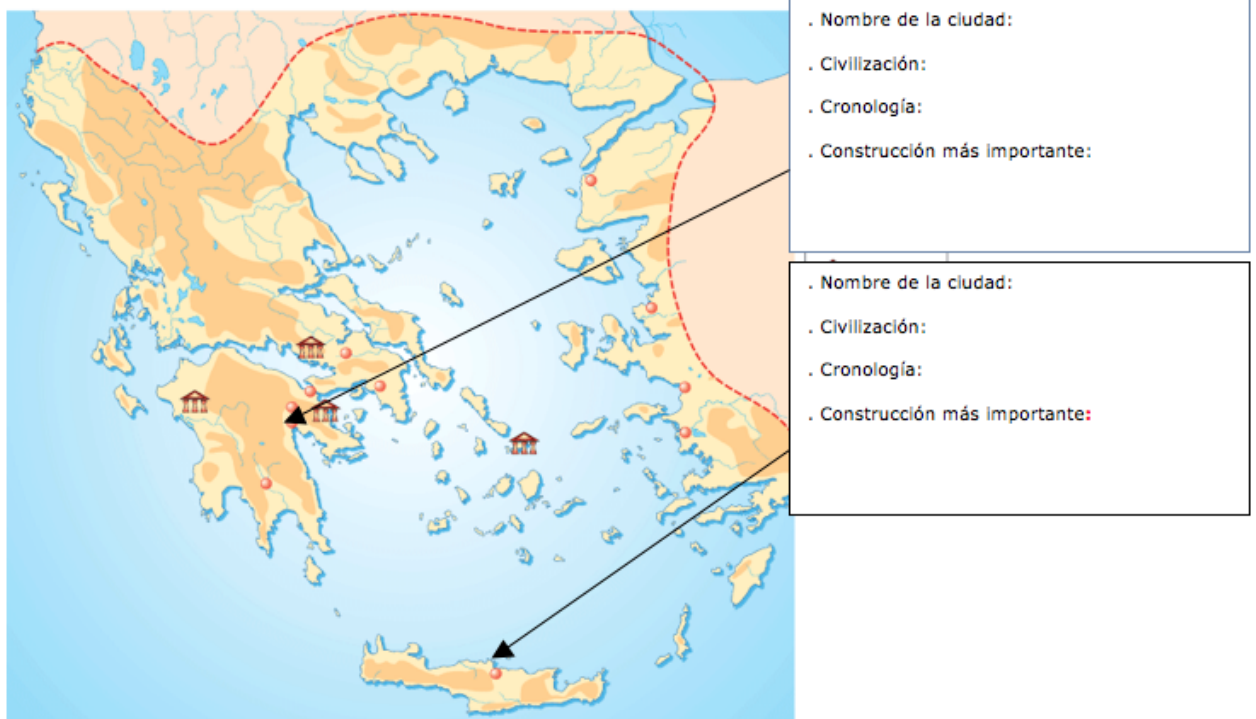
2. Define brevemente las siguientes formas de relieve:

- Península:.....
- Delta:
- Meseta:
- Depresión:
- Ría:

La Grecia antigua.

Ejercicios de repaso.

1. Observa este mapa del Mediterráneo Oriental, completa los cuadros y responde.



a) ¿Cómo se llama el mar que baña todas estas islas?

b) Explica por qué la situación geográfica de Grecia facilitó la aparición de pequeñas ciudades estado y potenció que los griegos fuesen excelentes navegantes y comerciantes.

2. Completa con los términos adecuados las siguientes frases relacionadas con la civilización griega.

- a) *El conjunto de una ciudad-estado griega y el conjunto del territorio circundante se llamaba*
- b) *Durante la época las polis griegas experimentarán un gran desarrollo económico y comercial.*
- c) *Los acontecimientos más importantes que marcan el inicio de la época Arcaica son: el desarrollo de y la utilización de*
- d) *Las guerras del Peloponeso enfrentaron a*
- e) *Las guerras Médicas acabaron con la derrota de, convirtiendo a en la ciudad más poderosa.*
- f) *Durante la época ,II de Macedonia dominó todas las ciudades-estado griegas.*
- g) *Los griegos extendieron, y por todos los países que conquistaron y por las nuevas ciudades que crearon.*
- h) *La religión griega era y sus dioses tenían forma Las historias de gran contenido religioso que explicaban sus vidas se llaman como las recogidas por en la *Ilíada* y la *Odisea*.*


3. Indica durante qué etapa de la historia de Grecia se inició la colonización comercial griega del Mediterráneo y explica sus causas y sus consecuencias.

4. Marca con una X en la etapa en la que se produjeron cada uno de los acontecimientos.

	Época arcaica	Época clásica	Época helenística
Guerra del Peloponeso			
Gobierno de Pericles			
Filipo II conquista las polis			
División del imperio de Alejandro Magno			
Primera Guerra Médica			
Colonización griega			

5. Explica las diferencias entre los grupos sociales de Atenas y de Esparta.

6. Completa el siguiente cuadro sobre el arte y la cultura griega.

Época	Duración	Características	Obras
Clásica			


GRECIA

Lee el texto, observa la imagen y responde a las preguntas.

LA ACRÓPOLIS DE ATENAS

La Acrópolis de Atenas adquirió su aspecto definitivo en el siglo V a.C. En esta época se construyeron los propileos (puerta monumental), varios templos (Atenea Niké, Partenón, Erecteion) y se erigió la estatua de Atenea Promacos. En 1987, la Unesco declaró la Acrópolis Patrimonio de la Humanidad, por constituir un conjunto arquitectónico único, compuesto por diversas obras maestras, por ejercer una enorme influencia en la historia del arte, por ser un testimonio de las creencias de los antiguos griegos y haber sido escenario de diversos acontecimientos de la historia griega, como algunos episodios de las guerras médicas.

<http://whc.unesco.org/en/list/404/documents/> (Adaptación)



Preguntas:

A. ¿Dónde se localizaba la Acrópolis de Atenas?

B. Identifica tres elementos característicos de la arquitectura griega en el Partenón.

C. Explica las razones artísticas e históricas por las que la Acrópolis de Atenas fue declarada Patrimonio de la Humanidad.

GRECIA

Observa el cuadro y contesta las preguntas.

LA HISTORIA DE GRECIA

	Época arcaica	Época clásica	Época helenística
Cronología	Siglos VIII-VI a. C.	Siglos V-IV a. C.	Siglos IV-I a. C.
Organización territorial	<i>Polis</i> .	<i>Polis</i> .	<i>Polis</i> .
Gobierno	Monarquía. Aristocracia. Tiranías.	Democracia (gobierno del pueblo) en Atenas y oligarquía (gobierno de unos pocos) en Esparta.	Monarquía.
Hechos destacados	Fundación de colonias en las costas del mar Mediterráneo.	Guerras médicas entre griegos y persas por el control de Asia Menor. Guerras del Peloponeso entre las <i>polis</i> griegas, lideradas, unas por Atenas y otras, por Esparta.	Los macedonios conquistan las <i>polis</i> griegas. Creación del mayor imperio del mundo antiguo antes del romano. Conquista romana de Grecia.

Preguntas:

A. Estos hechos históricos no tuvieron lugar en Grecia. Indica con qué etapa de la historia griega coincidieron.

- Fundación de Roma (753 a. C.):
- Invasión asiria de Egipto (671 a. C.):
- Primera guerra entre cartagineses y romanos (264 a. C-241 a. C.):
- Ley de las XII tablas en Roma (451 a. C.):

B. ¿Cuáles son los conflictos bélicos más importantes que vivió la Grecia clásica y quiénes se enfrentaron en ellos?

C. Relaciona con flechas.

Monarquía

Época arcaica

Democracia

Época clásica

Tiranías

Época helenística