



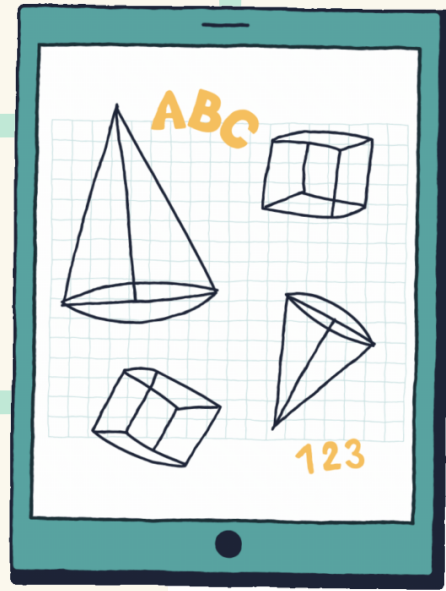
QUE MATEMÁTICAS ESCOLLO?

*Matemáticas A*

*Matemáticas B*




# Matemáticas A

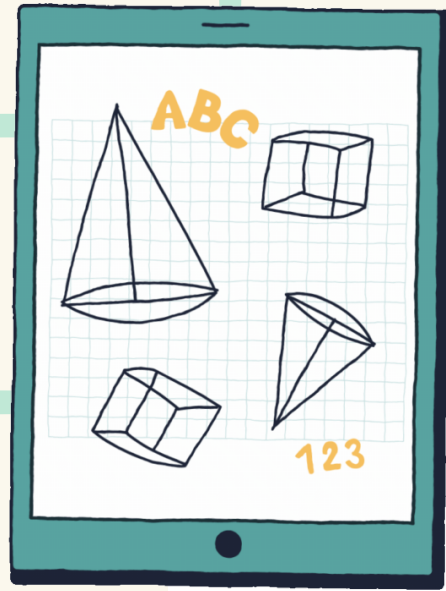


- Rapazada que non pensa seguir estudando.
- Quen vaia cursar un Ciclo Formativo sen relación coas matemáticas.
- Rapazada que vaia cursar un bacharelato artístico **SEN NINGUNHA MATERIA DE MATEMÁTICAS** nin relacionada.

$$X = \frac{-b \pm \sqrt{b^2 - 4ac}}{2a}$$



# Matemáticas B



Para quen siga estudando bachareato ou Ciclo formativo técnico

- Quen vaia cursar un Ciclo Formativo de tipo técnico
- Rapazada que vaia cursar un bacharelato
- Se non o tes claro tamén se recomenda esta opción.

$$X = \frac{-b \pm \sqrt{b^2 - 4ac}}{2a}$$

