

LUNES, 23

MATEMÁTICAS

1° Coloca realiza las siguientes operaciones.

$$45 + 56 =$$

$$98 + 48 =$$

$$49 - 26 =$$

$$78 - 25 =$$

Voluntario restas con llevadas.

$$35 - 19 =$$

$$72 - 45 =$$

2º Escribe los siguientes números:

20:

35:.....

78:

PROBLEMAS

1º Juan tiene 69 euros y Luís 35 Euros ¿Cuánto dinero tiene más Juan que Luís? (piensa: quien tiene más dinero y si el resultado te puede dar más o menos dinero que el que tiene Juan)



2º Mi hermano tiene 34€ y su madrina le da 20€ cuánto dinero tiene en total?



LENGUA CASTELLANA

Escribe en las imágenes las letras que faltan y forma palabras.



ta_____



_____re_____



_____lo




ma_____ta



_____pato



_____ro



_____mo

Elige tres palabras del ejercicio anterior y escribe una frase con cada una de ellas.

.....

.....

.....

.....

.....

.....

MARTES, 24

MATEMÁTICAS

1º Escribe el número anterior y posterior.

— (30) —

— (50) —

— (50) —

2º Escribe las decenas que hay en los siguientes números

73:.....

98:.....

57:.....

23:.....

3º Ordena los números de mayor a menor

76-23-98-45-19-62

-----, -----, -----, -----, -----, -----
LENGUA CASTELLANA

Comprensión lectora

Ramón y Raquel son los papás de una linda ratita.

Los ratones tienen una radio y ponen música cuando comen queso rico.

En la casa de la ratita Raquelita hay ramas y bonitas rosas.

1 ¿Cómo se llaman los papás de la linda ratita?

- A. Ramón y Rocío
- B. Ramón y Raquel
- C. Roque y Raca

2 ¿Qué hacen los ratoncitos cuando comen queso rico?

- A. escuchan música
- B. cantan
- C. bailan

3 ¿Cuál es el nombre de la ratita ?

- A. Rosita
- B. Raquelita
- C. Ramita

4 En la casa de la ratita encontramos...

- A. árboles
- B. flores

C. plantas

5° Haz un dibujo del personaje del cuento.

MIÉRCOLES, 25

MATEMÁTICAS.

1º Opera:

$$20 + 30 = \dots\dots\dots$$

$$50 + 30 = \dots\dots\dots$$

$$40 + 40 = \dots\dots\dots$$

$$20 + 40 = \dots\dots\dots$$

$$30 + 30 = \dots\dots\dots$$

$$70 - 40 = \dots\dots\dots$$

$$20 - 10 = \dots\dots\dots$$

$$90 - 60 = \dots\dots\dots$$

$$40 - 20 = \dots\dots\dots$$

$$70 - 60 = \dots\dots\dots$$

PROBLEMAS


2° Ana necesita 38 cromos para acabar la colección. Tiene 25 ¿Cuántos cromos le faltan?



3° Luís tiene 15 manzanas y 5 repollos. Necesita 9 manzanas para hacer un pastel ¿Cuántas frutas le sobran?



4° Lola pescó 13 peces y Marta 5 peces más que Lola ¿Cuántos peces pescó Marta?



LENGUA CASTELLANA

COMPRENSIÓN LECTORA

EL CIERVO

Los ciervos tienen unas patas muy largas; por eso, corren mucho.

Los ciervos machos tienen unos cuernos muy grandes que parecen ramas de árbol. Cada año, al ciervo le sale una punta más en su cornamenta y puede llegar a tener hasta diez puntas en cada uno de sus cuernos.

CONTESTA:

- Por qué corren mucho los ciervos.

.....
.....

- Cada cuanto tiempo le sale una punta en su cornamenta

.....
.....

- Cuántas puntas puede llegar a tener un ciervo?

.....
.....

- A qué se parecen los cuernos de los ciervos?

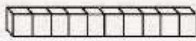
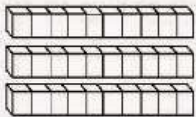
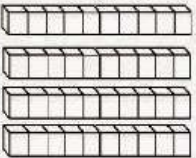
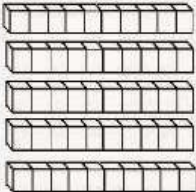

.....
.....

- ¿De qué habla la lectura?

.....
.....

JUEVES, 26
MATEMÁTICAS

1º Representa y escribe los números.

	<table border="1"><tr><td>D</td><td>U</td></tr><tr><td></td><td></td></tr></table>	D	U			<table border="1"><tr><td></td><td></td></tr><tr><td>D</td><td>U</td></tr></table>			D	U	$\square + \square = \square$ _____
D	U										
D	U										
	<table border="1"><tr><td>D</td><td>U</td></tr><tr><td></td><td></td></tr></table>	D	U			<table border="1"><tr><td></td><td></td></tr><tr><td>D</td><td>U</td></tr></table>			D	U	$\square + \square = \square$ _____
D	U										
D	U										
	<table border="1"><tr><td>D</td><td>U</td></tr><tr><td></td><td></td></tr></table>	D	U			<table border="1"><tr><td></td><td></td></tr><tr><td>D</td><td>U</td></tr></table>			D	U	$\square + \square = \square$ _____
D	U										
D	U										
	<table border="1"><tr><td>D</td><td>U</td></tr><tr><td></td><td></td></tr></table>	D	U			<table border="1"><tr><td></td><td></td></tr><tr><td>D</td><td>U</td></tr></table>			D	U	$\square + \square = \square$ _____
D	U										
D	U										
	<table border="1"><tr><td>D</td><td>U</td></tr><tr><td></td><td></td></tr></table>	D	U			<table border="1"><tr><td></td><td></td></tr><tr><td>D</td><td>U</td></tr></table>			D	U	$\square + \square = \square$ _____
D	U										
D	U										

2° Escribe en decenas y unidades los números que representan las imágenes.

	DECENAS	UNIDADES
	<input type="text"/>	<input type="text"/>
	<input type="text"/>	<input type="text"/>
	DECENAS	UNIDADES
	<input type="text"/>	<input type="text"/>
	<input type="text"/>	<input type="text"/>
	DECENAS	UNIDADES
	<input type="text"/>	<input type="text"/>
	<input type="text"/>	<input type="text"/>
	DECENAS	UNIDADES
	<input type="text"/>	<input type="text"/>
	<input type="text"/>	<input type="text"/>
	DECENAS	UNIDADES
	<input type="text"/>	<input type="text"/>
	<input type="text"/>	<input type="text"/>
	DECENAS	UNIDADES
	<input type="text"/>	<input type="text"/>
	<input type="text"/>	<input type="text"/>

3º Escribe los siguientes números:

90:

83:

69:

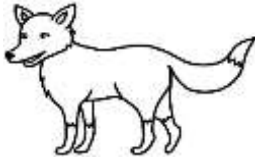
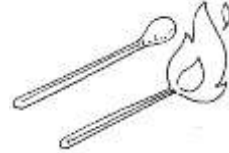
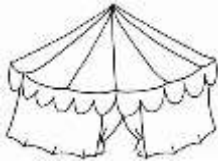
77:

4º Escribe los números del 50 al 99

.....
.....
.....
.....
.....
.....
.....
.....
.....
.....

LENGUA CASTELLANA

5º Escribe el nombre de las siguientes imágenes (las palabras llevan c o z):



6º Elige cuatro palabras del ejercicio anterior y escribe una frase con cada una de ellas.

.....

.....

.....

.....

.....

.....

.....

.....

VIERNES, 27
MATEMÁTICAS

1° Suma de tres en tres.

15,,,,,,,,, 42

2° Coloca y opera.

$$54 + 79 =$$

$$82 + 5 =$$

$$39 + 42 =$$

$$89 - 25 =$$

$$79 - 45 =$$

Voluntario, restas con llevadas


$$34 - 27 =$$

$$81 - 29 =$$

$$65 - 48 =$$

PROBLEMAS

3° Don José cosechó 17 Kilos de maíz, 23 Kilos de trigo, 32 kilos de avena y 20 kilos de centeno ¿ Cuántos kilos de avena, maíz y centeno cosechó?



LENGUA CASTELLANA

4º Ordena las siguientes palabras y forma frases.

- lluvia es beneficiosa La para todos.

.....
.....

- días Los festivos hay colegio no.

.....
.....

- barbero afeitó papá a el Por la mañana.

.....
.....

5º Escribe una frase con cada palabra.

- Altavoz:.....
.....

- Ceniza:.....
.....

- Cazo:.....
.....

- Cine:.....
.....