

Luns, 30

1º Segue a seguinte seriación.

23, 26, 29, -----, -----, -----, -----, -----, -----,
-----, -----, -----, -----, -----, -----, -----, -----,
74.

2º Escribe cantas decenas hai nas seguintes unidades.

- 10: -----
- 20: -----
- 30: -----
- 40: -----
- 50: -----
- 60: -----
- 70: -----
- 80: -----
- 90: -----

3º Escribe o número.

50: -----

20: -----

51: -----

67: -----

72: -----


24: -----

59: -----

83: -----

99: -----

3° Le os números e colorea do mesmo color as prendas que corresponda.



1 decena y 3 unidades

17

10 + 4

1 decena y 1 unidad

10 + 2

1

14

9

1 unidad

13

10 + 6

1 decena y 5 unidades

12

9 unidades

11

10 + 7

16

15

11

Martes, 31

4º Resolves os seguintes problemas

- Hoxe meu pai doume 57 € e regaleille a miña irmá un balón que costou 17 €. Canto diñeiro me queda?



- A miña tía doume 25€ e ao meu curmán doulle 45€. Canto diñeiro doulle máis ao meu curmán que a min?



5º Escribe o número anterior.

----- 31,

----- 40,

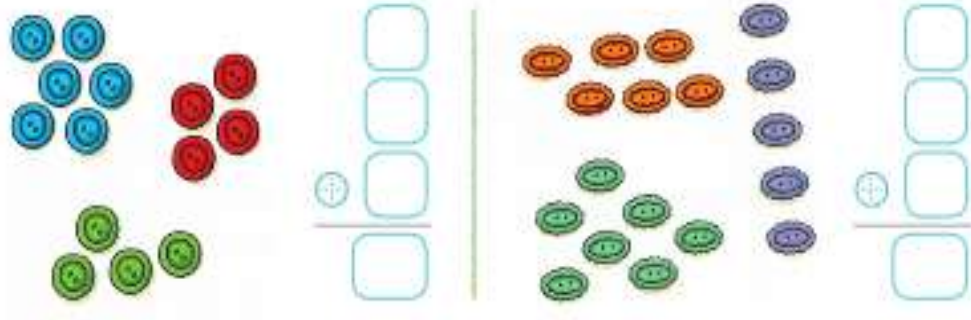
70 -----

----- 80,

----- 90,

20 -----

6º Cantos botóns hai en cada caso, conta e completa.



Suma.

$$\begin{array}{r} 5 \\ 3 \\ +6 \\ \hline \square \end{array}$$

$$\begin{array}{r} 4 \\ 2 \\ +5 \\ \hline \square \end{array}$$

$$\begin{array}{r} 5 \\ 4 \\ +7 \\ \hline \square \end{array}$$

$$\begin{array}{r} 8 \\ 5 \\ +3 \\ \hline \square \end{array}$$

$$\begin{array}{r} 9 \\ 6 \\ +2 \\ \hline \square \end{array}$$

Resolve.

Celia tiene 4 caramelos de fresa,
3 de naranja y 5 de limón.
¿Cuántos caramelos tiene en total?

Tiene caramelos.



Mércorés, 1

7º Completa a serie



Conta e depois completa



decenas y unidades

$$\square + \square = \square$$



decenas y unidades

$$\square + \square = \square$$

Une e depois completa.

24

2 decenas y 7 unidades

D	U

27

2 decenas y 9 unidades

D	U

29

2 decenas y 4 unidades

D	U

8° Coloca e opera.

$$32 + 45 =$$

$$76 + 98 =$$

$$68 + 53 =$$

$$89 + 42 =$$

$$32 + 12 =$$

$$45 + 20 =$$

$$68 - 6 =$$

$$97 - 45 =$$

$$89 - 47 =$$

$$91 - 60 =$$

Voluntario: restas con levadas.

$$21 - 9 =$$

$$80 - 43 =$$

$$83 - 29 =$$

$$51 - 49 =$$

9º Nunha horta hai os seguintes árbores: 38 limoeiros, 23 leitugas, 34 laranxeiros e 12 melocotoeiros. Cantos árbores frutais hai?



XOVES, 2

10º Opera y completa las series.

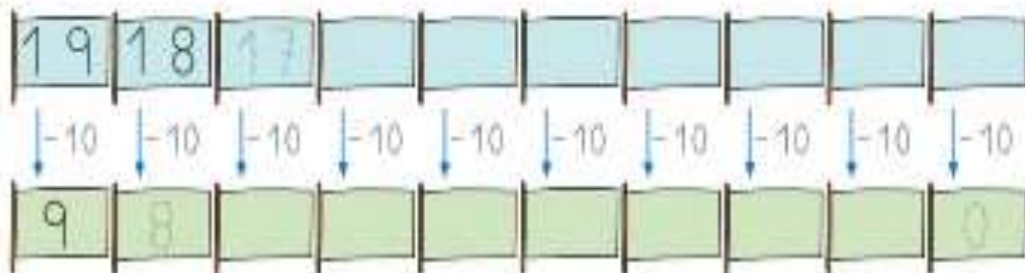
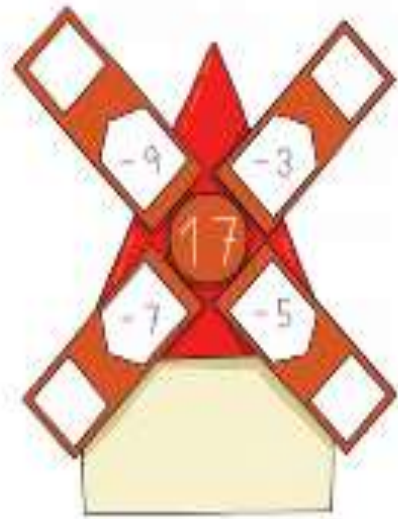
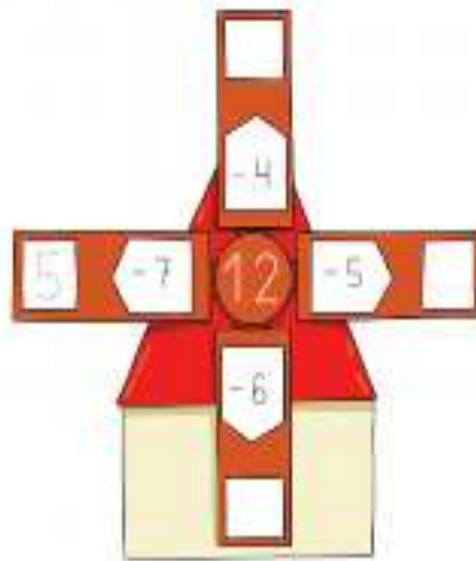
$$\begin{array}{r} 18 \\ -4 \\ \hline \square \end{array}$$

$$\begin{array}{r} 19 \\ -3 \\ \hline \square \end{array}$$

$$\begin{array}{r} 15 \\ -5 \\ \hline \square \end{array}$$

$$\begin{array}{r} 13 \\ -6 \\ \hline \square \end{array}$$

$$\begin{array}{r} 14 \\ -8 \\ \hline \square \end{array}$$



11° Resuelve os seguintes problemas

- Natalia tenia 16 pelotas de tenis.
Lanza 8 pelotas.
¿Cuántas pelotas le quedan?



tenía lanza le quedan

▼ ▼ ▼

$$\square \ominus \square = \square$$

Le quedan pelotas.

- Luis tiene que dar 12 vueltas a la pista.
Lleva ya 6 vueltas.
¿Cuántas vueltas le faltan?



tiene que dar ▶

lleva ▶

le faltan ▶

Le faltan vueltas.

- Amaya tiene 15 euros. Gasta 9 euros.
¿Cuántos euros le sobran?

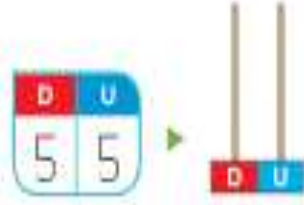
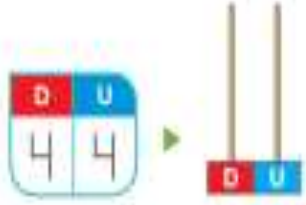
$$\square \ominus \square = \square$$

Le sobran euros.




12°

Debuxa e completa.



decenas y unidades
 + =

Escribe os números que faltan en cada serie.



Escribe como se le cada número.

40 ►

46 ►

55 ►

58 ►


VENRES, 3

13° PROBLEMAS


a) Pablo mercou 36 cromos. Seu tío regaloulle 53 cromos máis.
Cantos cromos ten en total?



b) Lois recolleu onte 72 cogomelos e hoxe 45 cogomelos máis.
Cantos cogomelos recolleu nos dous días?



c) Xian ten 81€ e Manuel 60€. Quen ten máis diñeiro?-----
Canto diñeiro mais?



14° Escribe as decenas que hai nos seguintes números (primeiro rodealas)

45: ten decenas.

82: ten decenas.

59: ten decenas.

74: ten decenas.

15: ten decenas.

91: ten decenas.

15° Coloca e opera. (lembra: unidades debaixo das unidades e decenas debaixo das decenas)

- $45 + 9 + 71 =$

- $4 + 91 + 23 =$