

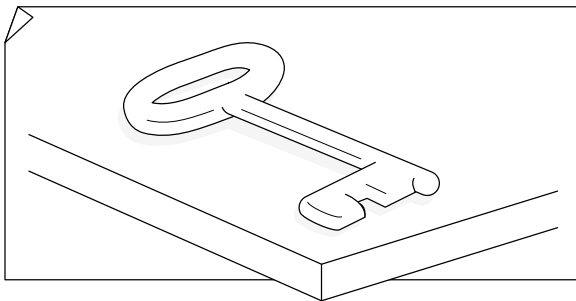
SEGUNDO TRIMESTRE
Unidad 1. Lengua

AA

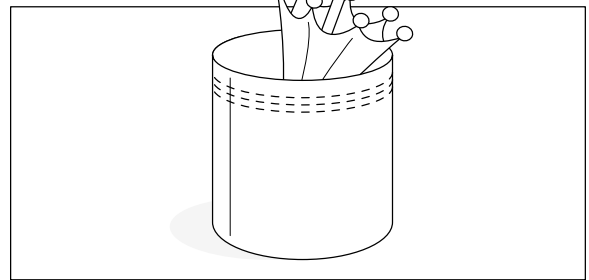
Nombre y apellidos:

Curso: Fecha:

🌀 Escribe los nombres de los dibujos y completa las frases.




.....
.....
.....



.....
.....
.....



.....
.....
.....



.....
.....
.....

Los paraguas están en el

La hizo un hoyo.


El hace kárate.

Cierra con cuando te vayas.

Nombre y apellidos:

Curso: Fecha:

 Problema.



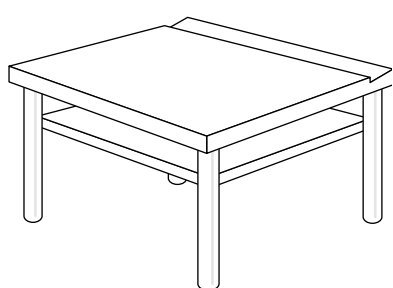
En la tómbola, papá consigue 9 puntos, y el abuelo, 7 puntos. ¿Qué animal pueden escoger?

$$\square \bigcirc \square = \square$$

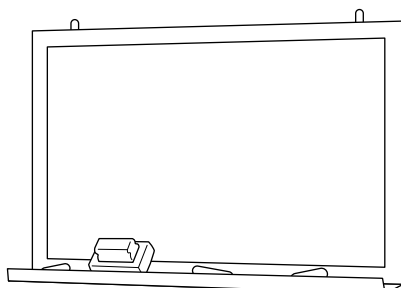
Pueden escoger .

 Rodea.

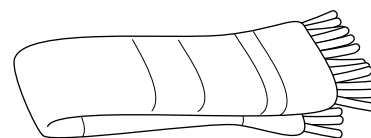
¿Cuántos palmos puede medir de ancho?



$$10 - 4$$



$$20 - 5$$



$$2 - 9$$


SEGUNDO TRIMESTRE


Unidad 1. Conocimiento del Medio

AA

Nombre y apellidos:

Curso: Fecha:

 Dibuja a los familiares con los que te gustaría vivir y escribe quiénes son.



 Haz una lista de invitados para tu cumpleaños.

Familiares

Amigos y amigas


SEGUNDO TRIMESTRE

Unidad 2. Lengua


AA

Nombre y apellidos:

Curso: Fecha:

 Escribe, sustituyendo las palabras destacadas por otras que signifiquen lo mismo.

En un **precioso** día de primavera, un perro **flaco** perseguía a un **veloz** conejo. No lo alcanzó.

 Dibuja el texto anterior.



SEGUNDO TRIMESTRE

Unidad 2. Matemáticas

AA

Nombre y apellidos:

Curso: Fecha:

📶 Completa las tablas.

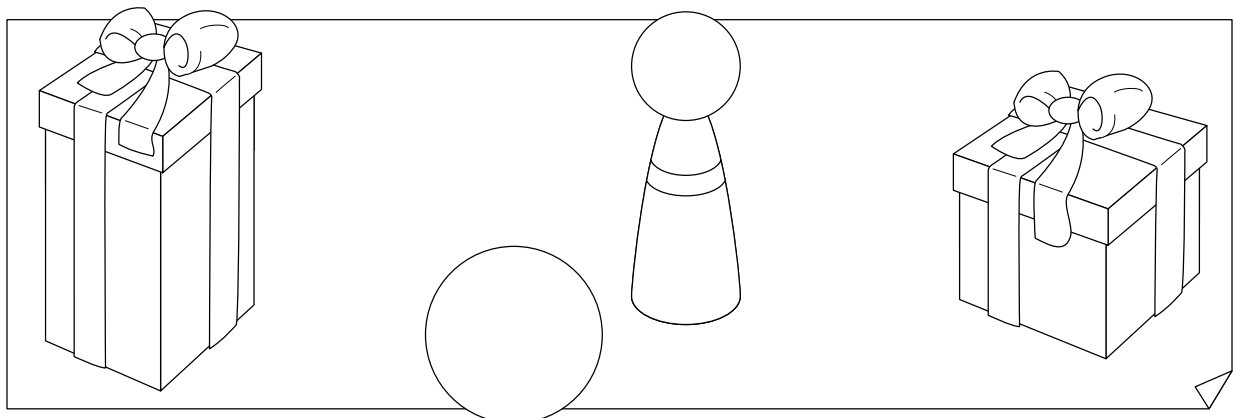
	+	5	6	7	8	9		-	13	12	11	10
6							8					

📶 Piensa y señala la respuesta correcta.

Roberto tiene en su cartera 5 cuentos, y Marta en su cartera tiene 3 cuentos y 2 cuadernos.

- Roberto tiene menos cuentos que Marta.
- Marta tiene menos cuentos que Roberto.
- Tienen los dos el mismo número de cuentos.

📶 Une cada objeto con la caja en la que cabe.




SEGUNDO TRIMESTRE
Unidad 2. Conocimiento del Medio

AA

Nombre y apellidos:

Curso: Fecha:

 Une según corresponda.

Polideportivo

curarse

Museo

jugar al baloncesto

Parque

ver pinturas

Hospital

aprender

Colegio

subir al tobogán

 Tacha lo que no debes hacer y escribe la frase.

calzada - acera

Camino por la

Saludo - No saludo

a los vecinos.

fuera de - en

Echo los papeles la papelera.

Piso - Respeto

las plantas y los jardines.

Nombre y apellidos:

Curso: Fecha:

📶 Completa con *br* o *bl*.


___ uno lee un so___ e ___ anco.

___ anca lleva un som___ ero.

La ___ uja se pierde por la nie___ a.

Una lie___ e se asomó al esta___ o.

📶 Observa los dibujos y completa las frases con palabras que signifiquen lo contrario.



El libro está de la mesa.

La papelera está de la mesa.

El duende está del árbol.


El hada está del árbol.

Nombre y apellidos:

Curso: Fecha:

 Resuelve.

En el prado hay 15 vacas blancas y 5 vacas marrones. ¿Cuántas vacas blancas hay más que marrones?



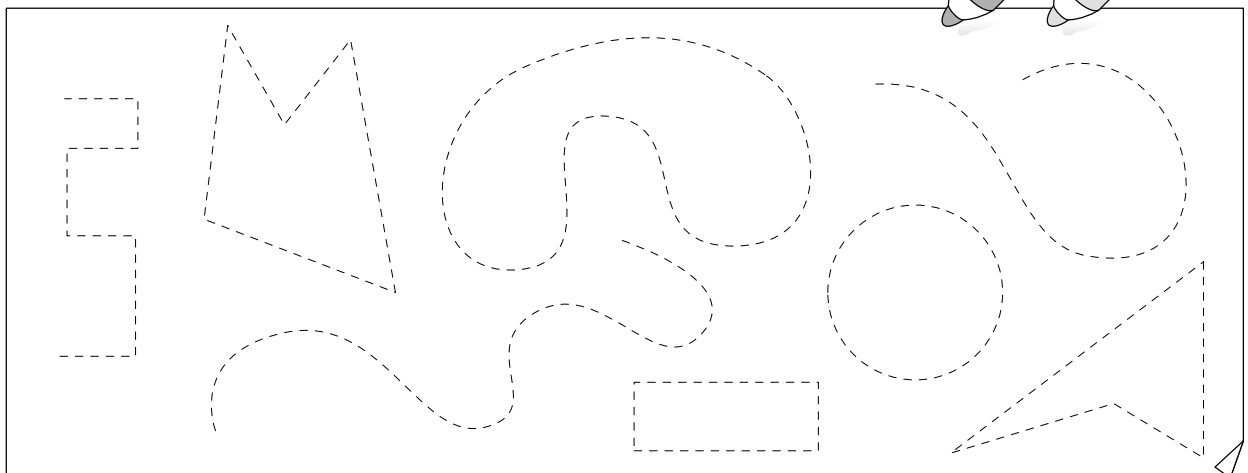
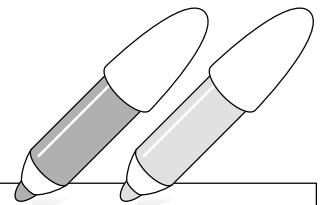
	<input type="text"/>
<input type="text"/>	<input type="text"/>
<input type="text"/>	<input type="text"/>

Hay vacas blancas más que marrones.

 Repasa así:

líneas abiertas → rojo

líneas cerradas → verde



SEGUNDO TRIMESTRE






Unidad 3. Conocimiento del Medio

AA





Nombre y apellidos:

Curso: Fecha:

📶 Escribe sí o no.

					
Mamífero doméstico					
Mamífero salvaje					

📶 Colorea lo que debes hacer y tacha lo que no.



SEGUNDO TRIMESTRE
Unidad 4. Lengua

AA

Nombre y apellidos:

Curso: Fecha:

📡 Completa con: *el, la, los, las, un, una, unos, unas.*

ogro Gregorio vive en cueva.

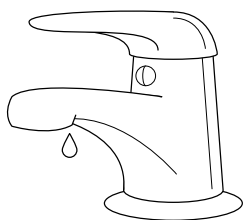
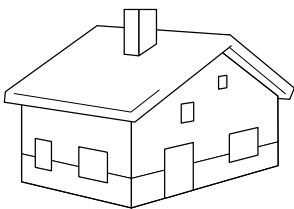
Tiene en cabeza ojo que todo

lo ve, manos enormes para coger

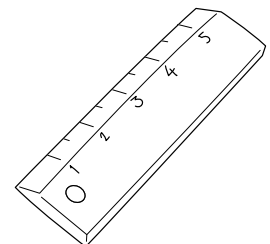
frutas del bosque y pies

grandes para recorrer montes.

📡 Busca cuatro palabras que indiquen menor tamaño.



L	I	N	U	G	B	U	S	R
O	M	A	Ñ	R	I	G	D	N
R	E	G	L	I	T	A	C	U
T	P	O	S	F	W	I	R	S
I	L	U	R	I	N	T	U	P
C	A	S	I	T	A	O	P	I
E	T	W	E	O	D	L	A	D
S	E	C	R	E	T	I	T	O




SEGUNDO TRIMESTRE

Unidad 4. Matemáticas

AA

Nombre y apellidos:

Curso: Fecha:

 Piensa y completa.

Soy 2 decenas mayor que 28 \longrightarrow


Soy 1 decena mayor que 42 \longrightarrow

Soy 4 unidades mayor que 36 \longrightarrow

Soy 6 unidades menor que 47 \longrightarrow

Soy el anterior a 40 \longrightarrow

Soy el posterior a 19 \longrightarrow

 Suma y resta.

28	+	20		36	+	12		42	+	6	
58	-	21		27	-	20		39	-	7	

SEGUNDO TRIMESTRE
Unidad 4. Conocimiento del Medio

AA

Nombre y apellidos:

Curso: Fecha:

 Une cada ave con el lugar en el que vive.

cigüeña

corral

buitre

árbol

golondrina


buitrera

gallina

en torres y altos

gorrión

en los aleros de la casa

 Completa con las siguientes palabras:

nidos - animales - silvestres - plantas - personas

Las aves que viven en libertad se llaman

Ponen sus huevos en los .

Se alimentan de y de

pequeños .

Las aves silvestres viven lejos de las

.

SEGUNDO TRIMESTRE
Unidad 5. Lengua

AA

Nombre y apellidos:

Curso: Fecha:

📶 Escribe una palabra que contenga cada una de las siguientes sílabas:

ga

que

qui

go

qu

📶 Completa con palabras que indiquen cómo son los nombres.

Está pasando un tren muy .

Esta paella está muy .

Ese árbol es bastante .

Ese presentador es muy .

📶 Ordena las palabras para formar una frase y tacha la palabra que sobra.

ciclista El iba bicicleta rápido.


SEGUNDO TRIMESTRE

Unidad 5. Matemáticas

AA

Nombre y apellidos:

Curso: Fecha:

 Lee y completa.

sesenta y siete \longrightarrow \longrightarrow D y U

cuarenta y cinco \longrightarrow \longrightarrow D y U

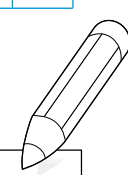
sesenta y dos \longrightarrow \longrightarrow D y U

 Coloca y opera.

28	+	36		54	+	7		48	+	20	
28	-	7		45	-	32		19	-	17	

 Completa.

<input type="text" value="38"/>	$\xrightarrow{+2}$	<input type="text"/>	$\xrightarrow{+4}$	<input type="text"/>	$\xrightarrow{+2}$	<input type="text"/>	$\xrightarrow{+4}$	<input type="text" value="50"/>
---------------------------------	--------------------	----------------------	--------------------	----------------------	--------------------	----------------------	--------------------	---------------------------------




SEGUNDO TRIMESTRE
Unidad 5. Conocimiento del Medio

AA


Nombre y apellidos:

Curso: Fecha:

Colorea estas flores y escribe sus nombres:



.....
.....




.....
.....

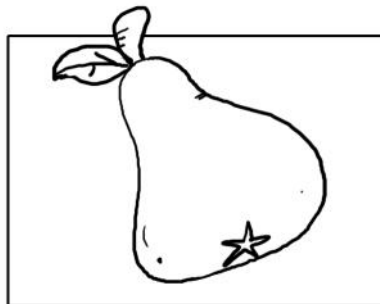


.....
.....


Escribe el nombre del árbol.



.....
.....



.....
.....



.....
.....

Une según corresponda.

hierba

olivo

árbol

lilo

arbusto

trébol