










RETOS EN FAMILIA

- RETO 4: (luns)


Estes tres símbolos representan tres números entre o 1 e o 9.

Se sumas as filas horizontal ou verticalmente, obterás os resultados que se indican fóra da taboa. ¿Que valor ten cada símbolo?

			17
			11
			9
11	9	17	

E se o complicamos?

Desta vez só sumamos horizontalmente


$$\begin{array}{l} \text{shoes} + \text{shoes} + \text{shoes} = 30 \\ \text{boy} + \text{boy} + \text{shoes} = 20 \\ \text{cone} + \text{cone} + \text{boy} = 13 \\ \text{shoe} + \text{boy} \times \text{cone} = ? \end{array}$$

A cabeza non para!

Mandádeme as solucións por privado