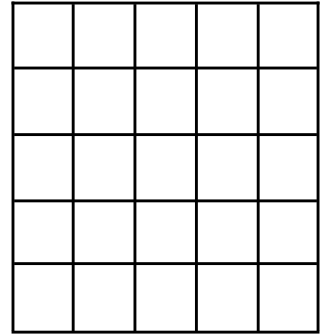


Ana tiene 5 fotos de animales. Juan tiene 4 fotos más que Ana. ¿Cuántas fotos tiene Juan?


DATOS



RESPUESTA

Fabián tiene 7 cromos de fútbol y Emilio 2 cromos menos que Fabián. ¿Cuántos cromos tiene Emilio?


DATOS



RESPUESTA


Cristina quiere conseguir 9 monedas en total. Si tiene 4 en su cartera. ¿Cuántas monedas le faltan?

DATOS




RESPUESTA

1. Escribe X debajo de la primera, tercera, quinta y séptima persona. Luego, escribe el lugar que ocupa cada persona en la fila.



2 Indica el piso (número ordinal) en el que vive cada uno .



_____ →

_____ →

_____ →

_____ →

_____ →

_____ →

tercero