

SOLUCIONES MATEMÁTICAS 3º_Tema 8-9_semana del 25 al 29 de mayo

Corregid todas las actividades como hacíais en clase: lo que está mal, con rojo. Lo que está bien, le ponemos un B/V

Enviar foto al correo 3a.igrexavaladares@gmail.com de:

*Pág 140:Tanteo, ensayo, prueba
*Ficha_problemas

Pág. 124, 125

9 a) 1935 b) 9531 c) 1593

10

$\begin{array}{r} 320 \\ 563 \\ + 79 \\ \hline 962 \end{array}$	$\begin{array}{r} 4293 \\ 686 \\ + 2549 \\ \hline 7528 \end{array}$	$\begin{array}{r} 3507 \\ 425 \\ + 237 \\ \hline 4169 \end{array}$
$\begin{array}{r} 721 \\ - 486 \\ \hline 235 \end{array}$	$\begin{array}{r} 5026 \\ - 947 \\ \hline 4079 \end{array}$	$\begin{array}{r} 1000 \\ - 835 \\ \hline 165 \end{array}$

12

$234 \times 23 = 5382$	$313 \times 34 = 10642$	$421 \times 45 = 18945$
$623 \times 14 = 8722$	$525 \times 33 = 17325$	$446 \times 27 = 12042$

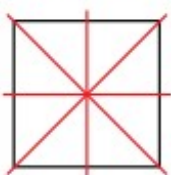
13

x	10	100	1000
36	360	3600	36000
19	190	1900	19000
43	430	4300	43000
50	500	5000	50000


- 16 a) 4 y resto 3 (inexacta) d) 106 y resto 6 (inexacta)
b) 6 y resto 0 (exacta) e) 8 y resto 0 (exacta)
c) 9 y resto 0 (exacta) f) 147 y resto 3 (inexacta)


Pág 141- El desafío

- 1 Están todas. Hay polígonos, círculos, circunferencias y figuras con eje de simetría.
- 2 El depósito de agua es un hexágono. Tiene 6 lados y 6 ángulos iguales. Los lados son iguales y paralelos dos a dos.
- 3 La parcela de los pimientos tiene todos los bordes rectos, es un polígono. La de los tomates no es un polígono porque tiene lados curvos.
- 4 Se pueden trazar en la caseta, en el depósito y en el pozo.



5 Respuesta abierta.

6  Respuesta abierta.

7  Respuesta abierta.

*Ficha de problemas

- María tiene 88 margaritas para hacer 7 ramos iguales. ¿Cuántas margaritas tendrá cada ramo? ¿Cuántas le sobrarán?

$$88 : 7 = 12$$

$$r = 4$$

Solución: **Cada ramo tendrá 12 margaritas. Sobrarán 4.**

- En el estadio de fútbol caben 12 780 personas. Se han vendido 8 990 entradas para el partido de hoy. ¿Cuántas entradas faltan por vender?

$$12\ 780 - 8\ 990 = 3\ 790$$

Solución: **Faltan por vender 3 790 entradas.**

- El frutero ha comprado hoy 2 caja de manzanas, 1 caja de plátanos y 3 cajas de peras. ¿Cuántos kilos de fruta ha comprado, si cada caja pesa 12 kg?

$$2 + 1 + 3 = 6 \text{ cajas}$$

$$12 \times 6 = 72 \text{ kg}$$

Solución: **Ha comprado 72 kg de fruta.**

- Carlos quiere saber cuánto cuestan las zapatillas de deporte. El dependiente le ha dicho que cuestan el triple que los zapatos. ¿Cuánto cuestan las zapatillas de deporte?

Dato: **Zapatos cuestan 32€**

$$32 \times 3 = 96$$



Solución: **Las zapatillas cuestan 96 €**

- Mariana tiene en su armario 24 camisetas repartidas en partes iguales en 4 cajones. ¿Cuántas camisetas hay en cada cajón?

$$24 : 4 = 6$$

Solución: **En cada cajón hay 6 camisetas.**

- En una bodega hay 87 litros de zumo de limón y 51 litros de agua. Para hacer limonada mezclan el zumo de limón y el agua en botellas de dos litros. ¿Cuántas botellas se llenarán?

$$87 + 51 = 138 \text{ l}$$

$$138 : 2 = 69 \text{ botellas}$$

Solución: **Se llenarán 69 botellas.**