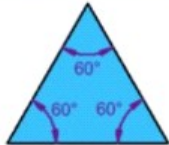
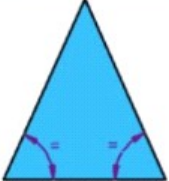



TAREFAS PARA 3ºA e 3º B

DÍAS 10 e 11 DE XUÑO

MATEMÁTICAS : CLASIFICACIÓN DE LOS TRIÁNGULOS SEGÚN SUS LADOS

1. Visualiza este vídeo : <https://www.youtube.com/watch?v=RGeOmrVrMfc>
2. Copia o recorta este cuadro y pégalo en tu cuaderno. También puedes hacerlo mirando por la página 220 de tu libro. Estudia y memoriza .

Triángulo	Nombre	Características
	Equilátero	Polígono de tres lados de igual medida
	Isósceles	Tiene dos lados de igual medida
	Escaleno	Tiene sus tres lados de diferente medida

3. Cuadernillo página 34 y 35.

LENGUA CASTELLANA : DICTADO Y COMPRENSIÓN

1. Lee detenidamente el dictado de la página 157. Pide a alguien que te lo dicte y si no tienes, cópialo con buena letra y sin faltas.
2. Rodea los nombres en el dictado y subraya los determinantes artículos que los acompañan.
3. Lee el cuadro azul de la página 163, realiza el ejercicio 1 contestando a los globos de la derecha.

LINGUA GALEGA : POEMAS

1. Le a poesía da páxina 153 do exercicio 1, fíxate que ten 4 estrofas de 4 versos cada unha , en total , 16 versos
2. Copia e aprende o recadro azul desa páxina.
3. Escribe o poema do exercicio 2 e fai un debuxo do que che suxire. Que palabras riman en cada estrofa?

CIENCIAS SOCIAIS : O SECTOR PRIMARIO

1. Mira este vídeo.: <https://www.youtube.com/watch?v=INy7f3T3v1w>
2. Le a páxina 98 do teu libro e fai o exercicio 1 da páxina 99.
3. Le a páxina 100 do teu libro e fai a actividade 2 da páxina 101.
4. Realiza un esquema cos tipos de gando indicando nel os animais que o forman.
5. Practica o aprendido.
https://es.liveworksheets.com/worksheets/es/Ciencias_Sociales/El_sector_primario/Sector_Primario_ge423093xn

ESPERAMOS QUE NON SE VOS FIXESEN MOI CANSADAS ESTAS TAREFAS!

UNHA APERTA BEN GRANDE!

SOLUCIÓN DAS TAREFAS PARA 3ºA e 3º B

DÍAS 8 e 9 DE XUÑO

NOTA : Podedes enviarnos ou non as actividades interactivas.

MATEMÁTICAS: FIGURAS PLANAS

1. Mira este vídeo: <https://www.youtube.com/watch?v=AwdOockKn6m0>

2. Copia y recuerda .

Un polígono está formado por una línea poligonal cerrada y su interior.
Los elementos de un polígono son : Lados, vértices y ángulos.

3. Vete al tema 15, página 218. Observa el cuadro gris . Calca la figura naranja (pentágono) y pon sus elementos. Calca los polígonos amarillos y ponles nombres.

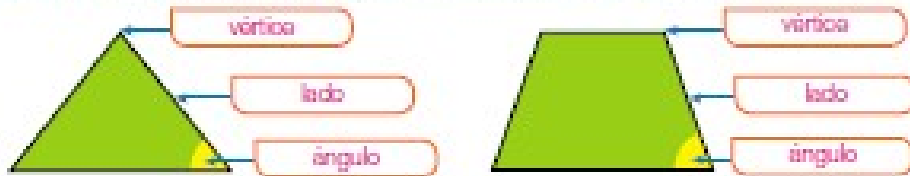
COPIAR

4. Cuadernillo página 32 y 33.





Página 32 cuadernillo

Polígonos: elementos y clasificación

1 Escribe cómo se llaman los elementos señalados en cada polígono.



2 Completa la tabla.

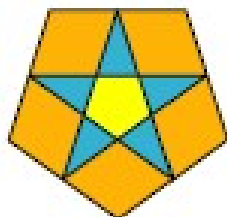
				
Clase de polígono	triángulo	cuadrilátero	pentágono	hexágono
Número de lados	3	4	5	6
Número de vértices	3	4	5	6
Número de ángulos	3	4	5	6

3 Observa la forma de las cometas y contesta.

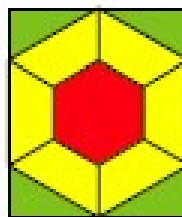


- ¿Qué clase de polígono son las cometas rojas? Son triángulos.
- ¿De qué color son las cometas con forma de cuadrilátero? Verdes.
- ¿Qué clase de polígono son las cometas azules? ¿Y las cometas amarillas? Las cometas azules son pentágonos y las amarillas hexágonos.

4 Observa los mosaicos y contesta.



- ¿Cuántos triángulos forman este mosaico? ¿De qué color son?
5 triángulos azules.
- ¿Cuántos cuadriláteros forman este mosaico? ¿De qué color son?
5 cuadriláteros naranjas.
- ¿Cuántos pentágonos forman este mosaico? ¿De qué color son?
1 pentágono amarillo.



- ¿Cuántos triángulos forman este mosaico? ¿De qué color son?
4 triángulos verdes.
- ¿Cuántos cuadriláteros forman este mosaico? ¿De qué color son?
6 cuadriláteros amarillos.
- ¿Cuántos pentágonos forman este mosaico? ¿De qué color son?
No hay pentágonos, hay un hexágono rojo.

5 Resuelve.

Marta ha comprado listón para poner un marco a cada uno de estos cuadros.

¿Cuántos centímetros de listón necesita para cada cuadro?

¿Qué tipo de polígonos son?



$$25 \times 2 + 20 \times 2 = 90 \text{ cm}$$

Es un rectángulo.



$$45 \times 2 + 15 \times 2 = 120 \text{ cm}$$

Es un rectángulo.



- https://es.liveworksheets.com/worksheets/es/Matemáticas/Polígonos/Clasificación_de_los_polígonos_bm307606my
- <https://es.liveworksheets.com/er55088ed>

LENGUA CASTELLANA : FICHA DE LA LECTURA Y PALABRAS COMPUESTAS

1. Ejercicio 13 de la página 155.

Página 155

ACTIVIDAD 13:

Nombre del autor: Gianni Rodari.

Título del libro: *Juegos de fantasía*.

Resumen: Respuesta libre. Sugerencia:

Una familia de ciempiés compuesta por el padre y los dos hijos va al zapatero a arreglar los zapatos de los hijos. Sería muy caro hacérselos nuevos porque tienen muchos pies, así que les ponen suelas nuevas y algunas tapas. Salen de allí deslizándose como si fueran sobre ruedas, salvo el padre, que está cojo de unos cuantos pies.

Lo que más me ha gustado: Respuesta libre.

2. Copia el cuadro azul de la página 160 y haz los ejercicios 1,2,3 y 4 .

Página 160

ACTIVIDAD 1: Fotocopia, lavavajillas, marcapasos, matasuegras, paracaídas, pasatiempos, quitanieves.

ACTIVIDAD 2: Sacacorchos, limpiacristales, cuentagotas, quitamanchas, limpiabotas.

ACTIVIDAD 3: Sacapuntas, tirachinas, girasol, hierbabuena, pararrayos, cascanueces.

ACTIVIDAD 4: Verde + negro, romper + ola, pelo + rojo, cascar + rabia, lavar + plato, cortar + fuego.

- https://es.liveworksheets.com/worksheets/es/Lengua_Castellana/Palabras_compuestas/Palabras_compuestas_nz159209pe

LINGUA GALEGA : PAREADOS

1. Le os pareados da páxina 152

2. Copia o recadro azul e fai o exercicio 2 desa páxina. Subliña as palabras que riman.

ACTIVIDADE 2:

Eu dareiche un tulipán

se ti te chamas Iván.

Eu dareiche un caravel

se ti te chamas Raquel.

Eu dareiche unha camelia

se ti te chamas Noelia.

Eu dareiche un xasmín

se ti te chamas Fermín.

Eu dareiche flor de azar

se ti te chamas Omar.

E a ti douche unha papoula

para que vaias de troula!

3. Inventa ti un pareado para cada membro das persoas cas que convivas. Por exemplo:

Ola , chámome Xoan

e gústame subir ao tobogán

Preséntovos á miña nai María

que cociña todo o día.

RESPOSTA LIBRE

CIENCIAS SOCIAIS : O TRABALLO E OS SECTORES

1. Tema 7 do libro de texto. Mira este pequeno vídeo para introducirte no tema.

<https://www.youtube.com/watch?v=5ns5zI7nL5I>

2. Vai á páxina 96, lea detidamente , entendendo o que les e contesta a estas preguntas :

- Que é o traballo? O traballo é calquera actividade que realizan os seres humanos para obter un diñeiro a cambio, é dicir, un soldo.
- Por quen está formada a poboación activa? Está formada por todas as persoas que traballan e reciben un soldo a cambio, máis as persoas que non teñen un emprego pero que o buscan. Por iso neste grupo inclúense os parados. E a pasiva? Está formada polas persoas que non poden traballar ou que non cobran un soldo polas súas actividades. Neste grupo inclúense os nenos/as , os xubilados/as, os estudantes e as amas de casa.
- Le a páxina 97 e fai un esquema da clasificación do traballo nos tres sectores. (podes mirar por este)



RESPOSTA ABERTA

QUE TEÑADES UNHA BOA SEMANA! ÁNIMO QUE XA É A PENÚLTIMA!