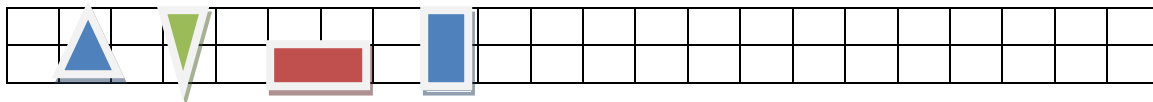
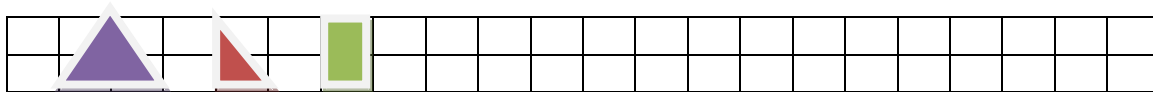
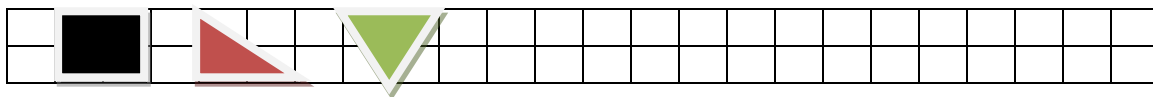


Continúa las series geométricas.



Continúa las series numéricas.

34	36								
----	----	--	--	--	--	--	--	--	--

92	90								
----	----	--	--	--	--	--	--	--	--

40	44								
----	----	--	--	--	--	--	--	--	--

70	65								
----	----	--	--	--	--	--	--	--	--

Realiza dibujos usando círculos, cuadrados, rectángulos y triángulos.