

Buenos días alumnos y alumna*j*

Como habéis visto en las noticias, ya nos queda poco para poder salir.

¡Lo estáis haciendo genial, a seguir así!

A partir de esta semana, quedaremos un día (o dos) con hora fijada para conectarnos, y hacer una videollamada, y poder vernos, hablar, compartir experiencias y alguna duda. No será obligatorio.

Lo haremos con la aplicación oficial de la Xunta, que se llama cisco webex. Descargadla y el martes poco antes de las 12 subiré el enlace a Clasdojo, pincháis en el enlace y ya nos podremos ver*j*

Quedaremos martes de 12 a 12 y30. Podéis entrar cuando queráis.

Conseguí los cuadernos que íbamos a empezar en el cole, quien lo tenga en casa puede usarlo, y quien no, aquí se lo envío. Además, a partir de esta semana haremos un día cálculo mental, unos días en fichas, y otros en la videollamada.

Ya es lunes 20.

Hacemos la primera de las fichas (página 4)

Buenos días, **hoy martes 21**

Hoy toca cálculo mental. Quien quiera, puede hacer el cálculo mental en esta página <https://www.cokitos.com/calculo-mental-rapido/play/>, y quien no, la ficha que he puesto más abajo.

Buenos días, **hoy miércoles 22 de abril**

Hacemos la segunda de las fichas (página 5)

Buenos días, **hoy viernes 24 de abril**

Hacemos la tercera de las fichas (página 6)

Debajo de todo tenéis los ejercicios de la semana pasada corregidos

Multiplicaciones por números de dos cifras





1 Calcula las multiplicaciones y completa la tabla.

$$\begin{array}{r} 435 \\ \times 24 \\ \hline \end{array}$$

$$\begin{array}{r} 617 \\ \times 53 \\ \hline \end{array}$$

$$\begin{array}{r} 816 \\ \times 62 \\ \hline \end{array}$$

$$\begin{array}{r} 920 \\ \times 74 \\ \hline \end{array}$$

| | Factores | Producto |
|--|----------|----------|
|  | | |
|  | | |
|  | | |
|  | | |

2 Coloca los números y calcula.

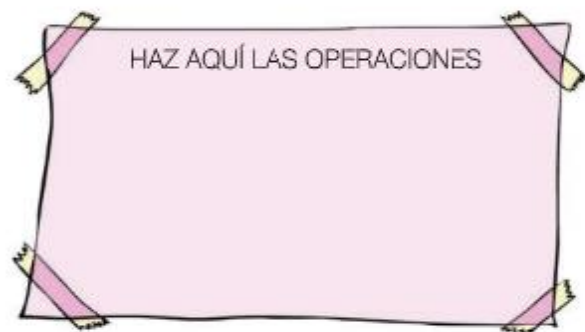
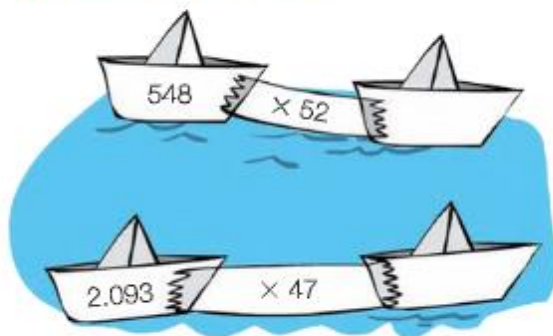
• 2.365×24

• 3.185×67

• 5.628×53


• 7.805×92

3 Calcula y completa.



Nome: _____ data: _____

Cálculo mental



$35 + \underline{\quad} = 43$

$78 + \underline{\quad} = 81$

$64 + \underline{\quad} = 72$

$44 + \underline{\quad} = 51$

$15 + \underline{\quad} = 23$

$64 + \underline{\quad} = 73$

$27 + \underline{\quad} = 36$

$58 + \underline{\quad} = 61$

$55 + \underline{\quad} = 62$

$74 + \underline{\quad} = 81$

$27 + \underline{\quad} = 33$

$65 + \underline{\quad} = 73$

$48 + \underline{\quad} = 54$

$43 + \underline{\quad} = 52$

$26 + \underline{\quad} = 34$

$45 + \underline{\quad} = 54$

$76 + \underline{\quad} = 83$

$67 + \underline{\quad} = 74$

$77 + \underline{\quad} = 83$

$54 + \underline{\quad} = 63$

$37 + \underline{\quad} = 43$

$58 + \underline{\quad} = 61$

$84 + \underline{\quad} = 92$

$64 + \underline{\quad} = 73$

$55 + \underline{\quad} = 64$

$58 + \underline{\quad} = 66$

$85 + \underline{\quad} = 94$

$17 + \underline{\quad} = 23$

$85 + \underline{\quad} = 91$

$82 + \underline{\quad} = 91$

$63 + \underline{\quad} = 72$

$57 + \underline{\quad} = 66$

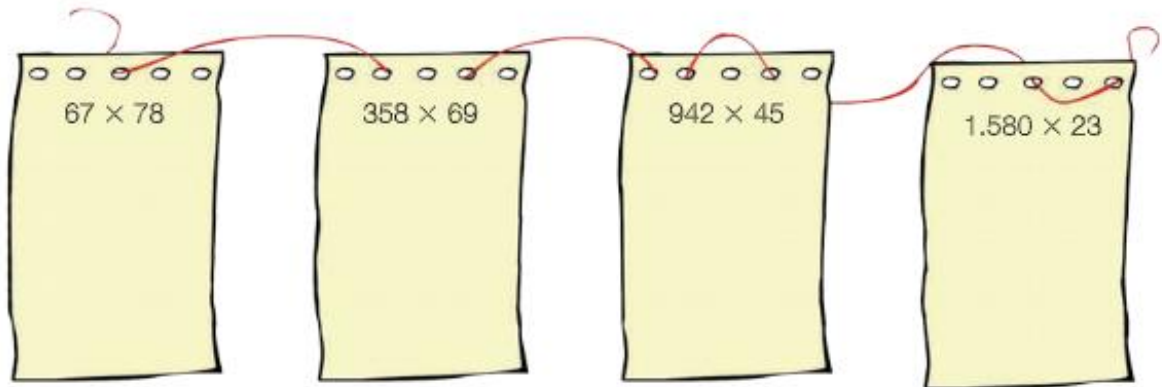
$77 + \underline{\quad} = 81$

$27 + \underline{\quad} = 31$

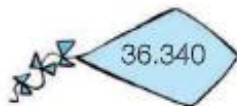
$23 + \underline{\quad} = 32$

$36 + \underline{\quad} = 45$

- 4 **Calcula.** Después, lee y relaciona a cada persona con la cometa que tiene el producto de la multiplicación que ha calculado.



- Marcos ha calculado la multiplicación cuyos factores son 942 y 45.
- Andrea ha calculado la multiplicación cuyos factores son 67 y 78.
- Susana ha calculado la multiplicación cuyos factores son 1.580 y 23.
- Daniel ha calculado la multiplicación cuyos factores son 358 y 69.



- 5 **Resuelve.**

- Un polideportivo tiene 165 socios. Cada socio paga al mes 15 €. ¿Cuánto dinero recauda el polideportivo mensualmente?
- Un circuito para bicicletas mide 1.750 metros. La semana pasada, Laura recorrió el circuito 23 veces. ¿Cuántos metros recorrió?

SOLUCIÓN _____

SOLUCIÓN _____

Estimación de productos

1 Estima los productos.



• 32×4

• 67×6

• 91×7

Aproxima a las centenas.

• 189×3

• 440×5

• 290×8

Aproxima a los millares.

• 2.789×2

• 5.360×9

• 7.670×5

2 Observa el dibujo y calcula.

Elena hace collares con bolas de colores.



78



110



173



- ¿Cuántas bolas azules hay aproximadamente en 3 cajas?

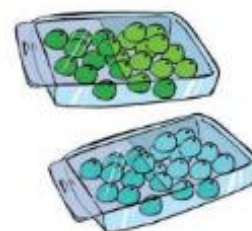
SOLUCIÓN _____

- ¿Cuántas bolas rojas hay aproximadamente en 4 cajas?

SOLUCIÓN _____

- ¿Cuántas bolas hay aproximadamente en total en 2 cajas con bolas azules y 3 cajas con bolas verdes?

SOLUCIÓN _____



La ficha 1 de aproximaciones

Ejercicio 1. • 400 500 400 • 700 700 800

Ejercicio 2. • 5.000 • 6.000 • 6.000 • 5.000 • 9.000 • 8.000 • 9.000 • 8.000

Ejercicio 3. • Televisor 500 € • Coche 6.000 €

La ficha 2, solución de problemas

1. • $175 - 95 - 34 = 46$ periódicos sin vender.
2. • $218 - 23 + 46 = 241$ personas van ahora.
3. • $125 + 68 + 45 = 238$; $238 - 15 = 223$ vasos le quedan