

13 El centímetro. Estimaciones.

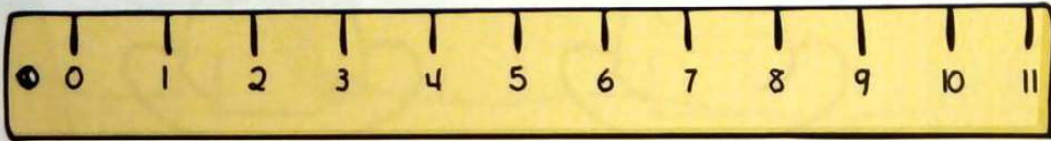


Recuerda

- Para medir longitudes pequeñas se utiliza el centímetro como unidad de medida.
- Coloca el 0 de la regla sobre uno de los extremos del objeto que quieras medir.
- Observa hasta qué número de la regla llega el otro extremo del objeto. Ese número indica su medida.

1 María está midiendo algunas pinturas. Observa cómo lo hace y ayúdala.

Esta pintura mide centímetros.



Mide centímetros.



Mide centímetros.

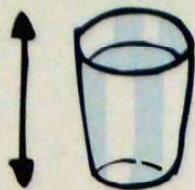


Mide centímetros.

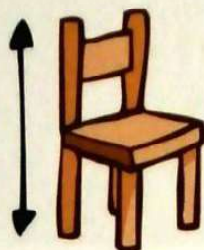


Mide centímetros.

2 Observa los objetos, imagina qué tamaño tienen en la realidad y une cada uno con la medida de su altura.



85 centímetros

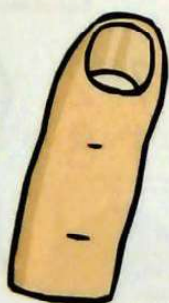


10 centímetros

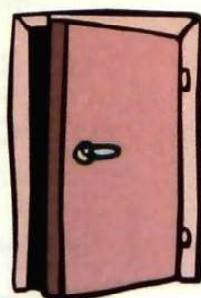


29 centímetros

3 Observa los dibujos, imagina su tamaño real y une cada uno con la medida de su anchura.



72 centímetros



2 centímetros



15 centímetros

4 Dibuja líneas siguiendo las indicaciones.

de rojo, 3 centímetros

de azul, 6 centímetros

de verde, 5 centímetros

de amarillo, 9 centímetros

de naranja, 7 centímetros