








Esta es la última propuesta de matemáticas, y va a ser diferente. Corresponde al bloque de Estadística y Probabilidad. Aquí tenéis el registro del tiempo en el mes de mayo.

LUNS	MARTES	MÉRCORES	XOVES	VENRES	SÁBADO	DOMINGO
<b>MAYO</b>				1  t <sup>a</sup> 18°	2  t <sup>a</sup> 19°	3  t <sup>a</sup> 18
4  t <sup>a</sup> 20°	5  t <sup>a</sup> 19°	6  t <sup>a</sup> 16°	7  t <sup>a</sup> 15°	8  t <sup>a</sup> 14°	9  t <sup>a</sup> 13°	10  t <sup>a</sup> 14°
11  t <sup>a</sup> 19°	12  t <sup>a</sup> 23°	13  t <sup>a</sup> 23°	14  t <sup>a</sup> 23°	15  t <sup>a</sup> 19°	16  t <sup>a</sup> 14°	17  t <sup>a</sup> 14°
18  t <sup>a</sup> 13°	19  t <sup>a</sup> 15°	20  t <sup>a</sup> 14°	21  t <sup>a</sup> 18°	22  t <sup>a</sup> 19°	23  t <sup>a</sup> 17°	24  t <sup>a</sup> 19°
25  t <sup>a</sup> 21°	26  t <sup>a</sup> 21°	27  t <sup>a</sup> 19°	28  t <sup>a</sup> 20°	29  t <sup>a</sup> 24°	30  t <sup>a</sup> 24°	31  t <sup>a</sup> 25°

Analiza el cuadro del tiempo del mes de mayo y cubre el gráfico de datos adjunto:

Cuenta los días de sol, sol con nubes, etc, y colorea en distintos colores las columnas correspondientes hasta la altura que corresponda. Luego contesta:

¿Cuántos días se vio el sol? .....

¿Cuántos días hubo nubes? .....

¿Cuántos días llovió? .....

¿Cuántos días hubo sol más que lluvia?  
.....

¿Cuál fue la temperatura máxima del mes? .....

¿Cuál fue la temperatura mínima del mes? .....

### O TEMPO NOMES DE : MAIO

20					
19					
18					
17					
16					
15					
14					
13					
12					
11					
10					
9					
8					
7					
6					
5					
4					
3					
2					
1					
	