

AS PITAS BAIXO A CHOIVA

Autor: Ricardo Carvalho Calero

Ilustrador: Alberto Tova

Editorial: Edicións Embora



Podes escoitar o conto nos seguintes enlaces:

<https://www.youtube.com/watch?v=8VrdrVwY1rA>

<https://www.youtube.com/watch?v=0alD8R7ciJU>

Agora que xa escoitaches o conto, imos traballar un pouco con el.

1. Responde ás seguintes cuestións:

- Quen escribiu o conto?

- Quen é o ilustrador?

- Cal é a editorial do conto?

2. Pensa e colorea a resposta correcta

- Que tempo facía aquel día?

Sol

Nese

Choiva

- Que animal reinaba no curro?

Galo

Galina

Cabuxa

- Que facía o pai cando chegada á aldea?

Bicábao

Durmía

Rifáballe

- Que día ía o pai á aldea?

Mércores

Sábado

Luns

- As pitas comen...

Vermes e miñocas

Froitas e verduras

Otros animais

- Que levaba a avoa na man?

Bastón

Toalla

Paraugas

- Quen atrapou ao galo?

Ricardo

A avoa

O pai

3. Completa as seguintes frases sobre o conto coas palabras dos recadros:

aldea

galo

verán


cabuxa

mollados




galináas

- No curro había un _____, _____ e unha _____.
- Ricardo pasaba o _____ nunha casa da _____.
- Cando entraron na casa todos estaban _____.

4. Agora debuxa as pitas do conto!



5. Ricardo compró 3 gallinas: una amarilla, una verde y una roja, y recogió en una tabla el número de huevos que puso cada una la primera semana:

	1	2	3	4	5	6	7	8	9	10	11	12	13	14	15	16
	■	■	■	■	■	■	■	■	■	■	■	■	■			
	■	■	■	■	■	■	■	■	■	■						
	■	■	■	■	■	■	■	■	■	■	■	■	■	■	■	■

- ¿Cuántos huevos puso cada gallina?

La gallina roja puso _____ huevos.

La gallina amarilla puso _____ huevos.

La gallina verde puso _____ huevos.

- ¿Qué gallina puso más huevos? ¿Y menos?

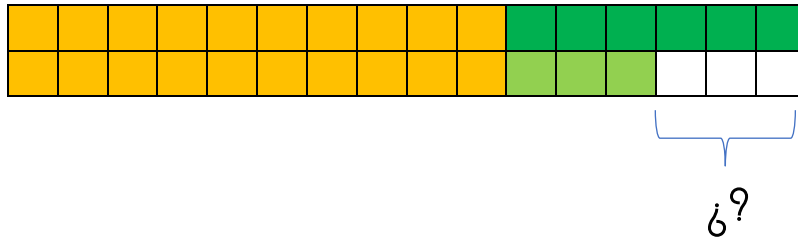
Puso más huevos la gallina _____

Puso menos huevos la gallina _____

- La gallina verde puso 10 huevos y la roja puso 13 huevos, ¿cuántos pusieron entre las 2? Utiliza las regletas para hacer la suma.

$$\square + \square = \square$$

- La gallina amarilla puso 16 huevos y la roja puso 13. ¿Cuántos huevos más puso la gallina amarilla? Utiliza las regletas para hacer la resta.



$$\square - \square = \square$$

6. La segunda semana, Ricardo recogió en una tabla el número de huevos que puso cada gallina. Haz las sumas y después las gráficas con el número total de huevos que puso cada gallina.

Recuerda: puedes utilizar las regletas para hacer las sumas o garbanzos.

			
lunes	2	3	1
jueves	5	6	3
sábado	1	4	5
TOTAL			

	1	2	3	4	5	6	7	8	9	10	11	12	13	14	15	16
