

La hora y los relojes

Alumno: _____ Curso: _____ Fecha: _____

1 Une correctamente.

15:30

Las tres y media de la tarde

00:40

Las tres y media de la mañana

3:30


La una menos veinte de la noche

12:40


La una menos veinte de la tarde

2 Completa la hora indicada en los dos relojes.


• Tres y cuarto de la tarde




• Doce y diez de la noche



• Ocho menos veinte de la mañana



• Veinte horas y cuarenta minutos



3 ¿Cuánto tiempo ha durado la película?

Hora de comienzo

Hora de finalización



► Solución: _____

4 ⚙️ Salma se fue a su pueblo a las doce y cuarto de la mañana del viernes y volvió el domingo a las veintiuna horas. ¿Cuánto tiempo estuvo fuera de su casa?

► Solución: _____