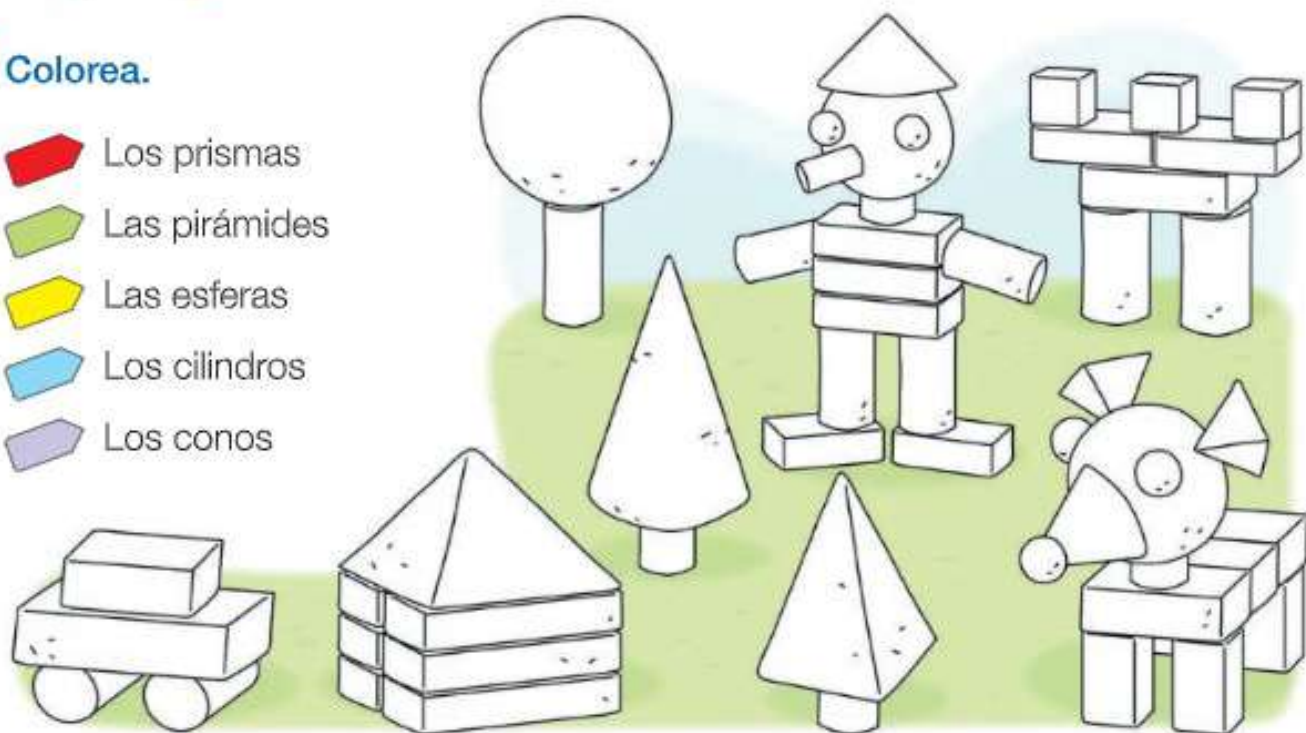


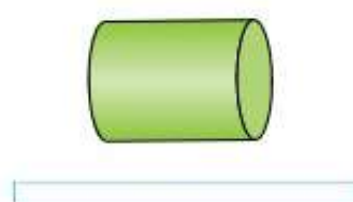
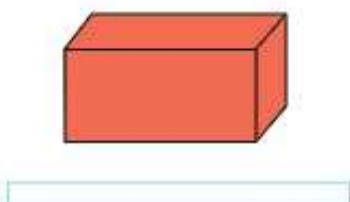
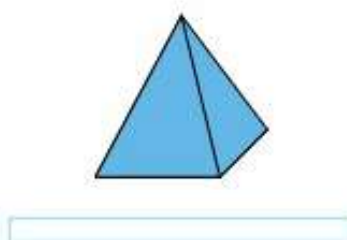

Cuerpos geométricos

1 Colorea.

-  Los prismas
-  Las pirámides
-  Las esferas
-  Los cilindros
-  Los conos

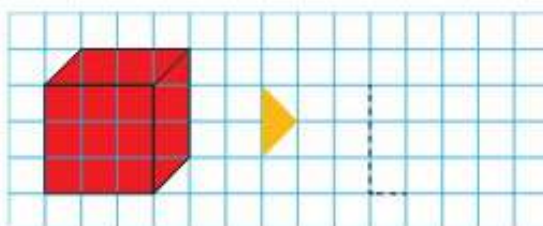


2 Escribe el nombre de cada cuerpo geométrico.



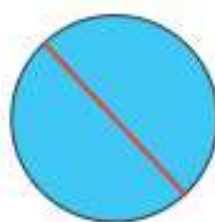
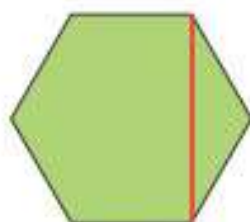
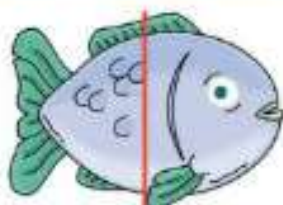

3 Copia este prisma.

¿Cómo se llama?

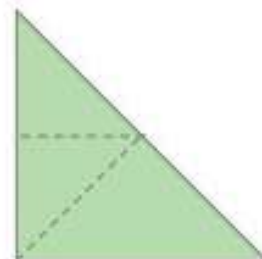
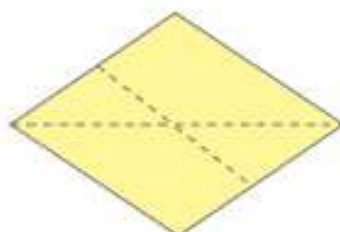
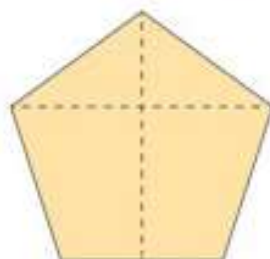


Simetría

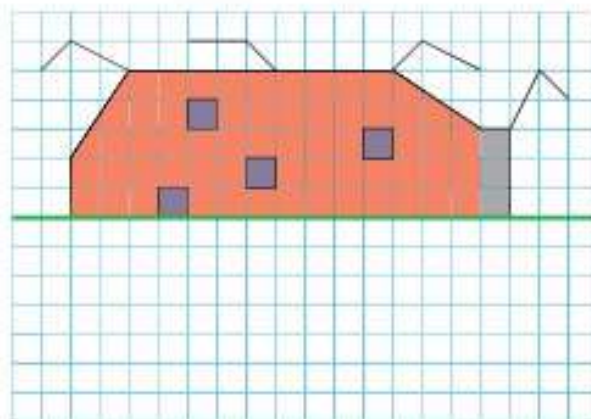
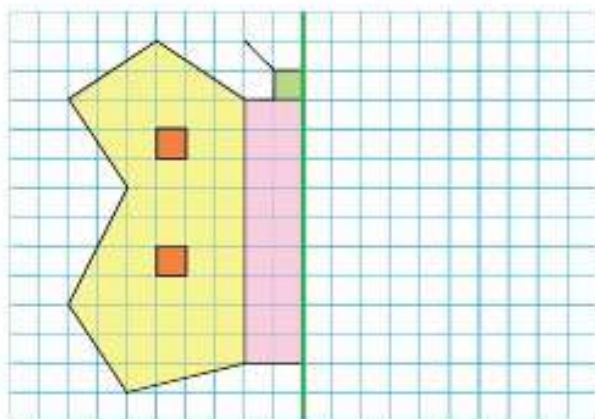
1 ¿Qué figuras son simétricas respecto a la línea roja? Rodéalas.



2 ¿Por qué línea puedes doblar cada figura para que las dos partes coincidan? Repásala de rojo.



3 Completa cada figura para que sea simétrica respecto a la línea verde.



Monedas y billetes

1 ¿Cuánto dinero hay? Observa y calcula.



▶ 1 euro y 1 céntimo





▶ _____



▶ _____

2 Colorea.

-  1,20 €
-  1,02 €
-  2,51 €
-  2,15 €

251 céntimos

102 céntimos

1 € y 20 céntimos



215 céntimos



1 € y 2 céntimos

120 céntimos

2 € y 15 céntimos



2 € y 51 céntimos