



Nombre:

Fecha:


1 ¿Cuántos hay?



= \_\_\_\_\_



= \_\_\_\_\_



= \_\_\_\_\_

2 Suma los números.

$3 + 6 = \underline{\quad}$

$13 + 6 = \underline{\quad}$

$10 + 20 = \underline{\quad}$

$7 + 2 = \underline{\quad}$

$11 + 7 = \underline{\quad}$

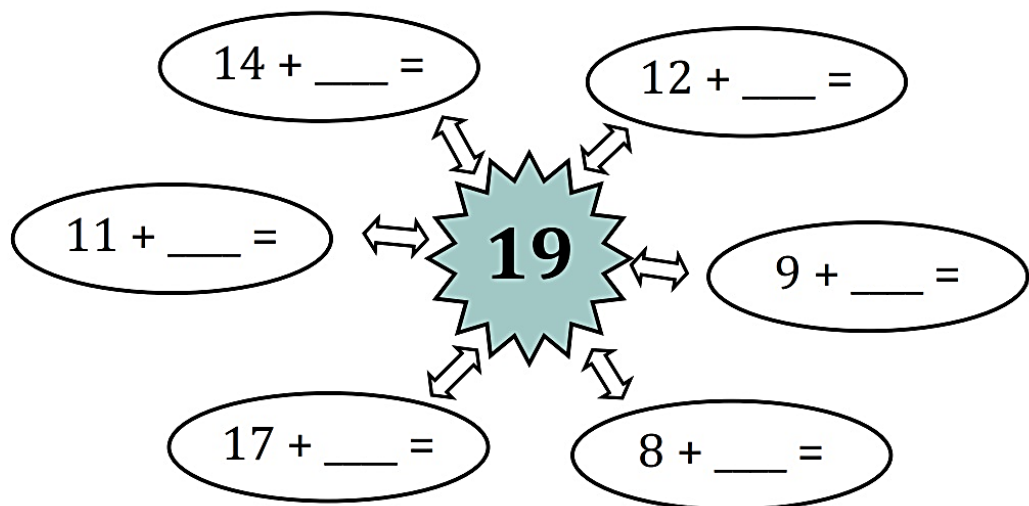
$30 + 20 = \underline{\quad}$

$5 + 3 = \underline{\quad}$

$14 + 6 = \underline{\quad}$

$40 + 30 = \underline{\quad}$

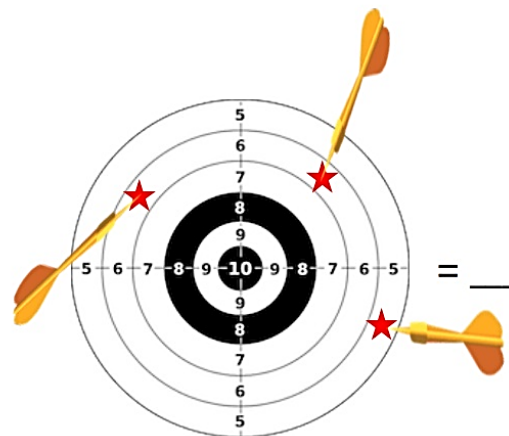
3 Completa para obtener 19.



4 ¿Cuántos puntos ha conseguido?



= \_\_\_\_\_



= \_\_\_\_\_



Marca con una cruz la casilla donde está la respuesta correcta

¿Qué número va después del octavo?

 Noveno Sexto Décimo Cuarto

¿Qué número va antes del quinto?

 Séptimo Octavo Tercero Cuarto

¿Qué número va después del quinto?

 Séptimo Sexto Décimo Cuarto

¿Qué número va después del noveno?

 Octavo Quinto Décimo Cuarto

¿Qué número va antes del octavo?

 Noveno Sexto Séptimo Cuarto

¿Qué número va después del cuarto?

 Quinto Segundo Tercero Octavo



En el gimnasio hay 26 aros rojos y 38 aros verdes. ¿Cuántos aros hay en total?

En el coro del colegio hay 84 niños y 118 niñas. ¿Cuántas personas forman en coro del colegio?

Tengo un jarrón con 63 margaritas. Se han marchitado 16. ¿Cuántas margaritas quedan en el jarrón?

Joan tiene 15 cromos, Andrea 12 y Manu 16. ¿Cuántos cromos tienen entre los tres?

Janira ha ido al campo y ha recogido 37 bellotas y 45 castañas. ¿Cuántos frutos secos ha recogido?

En una avión caben 235 pasajeros. Si han quedado sin ocupar 133. ¿Cuántos pasajeros hay en el avión?