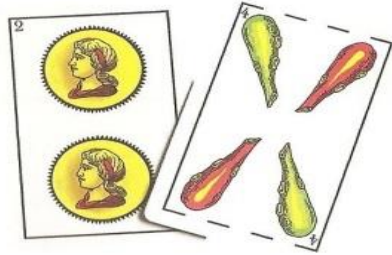
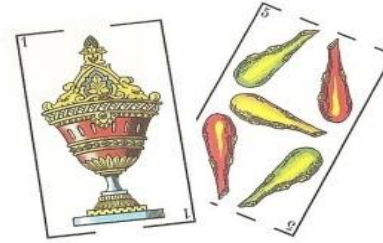


Jugar a las cartas es muy divertido. Con una sola baraja se puede jugar a un montón de juegos. ¿Tú has jugado alguna vez? ¿Conoces los palos de la baraja de la lámina? Escribe cuánto vale cada carta y realiza las sumas.


¿CUÁNTO SUMAN?




$$\begin{array}{c} \text{2} \\ \square \end{array} + \begin{array}{c} \text{4} \\ \square \end{array} = \square$$



$$\begin{array}{c} \text{1} \\ \square \end{array} + \begin{array}{c} \text{5} \\ \square \end{array} = \square$$

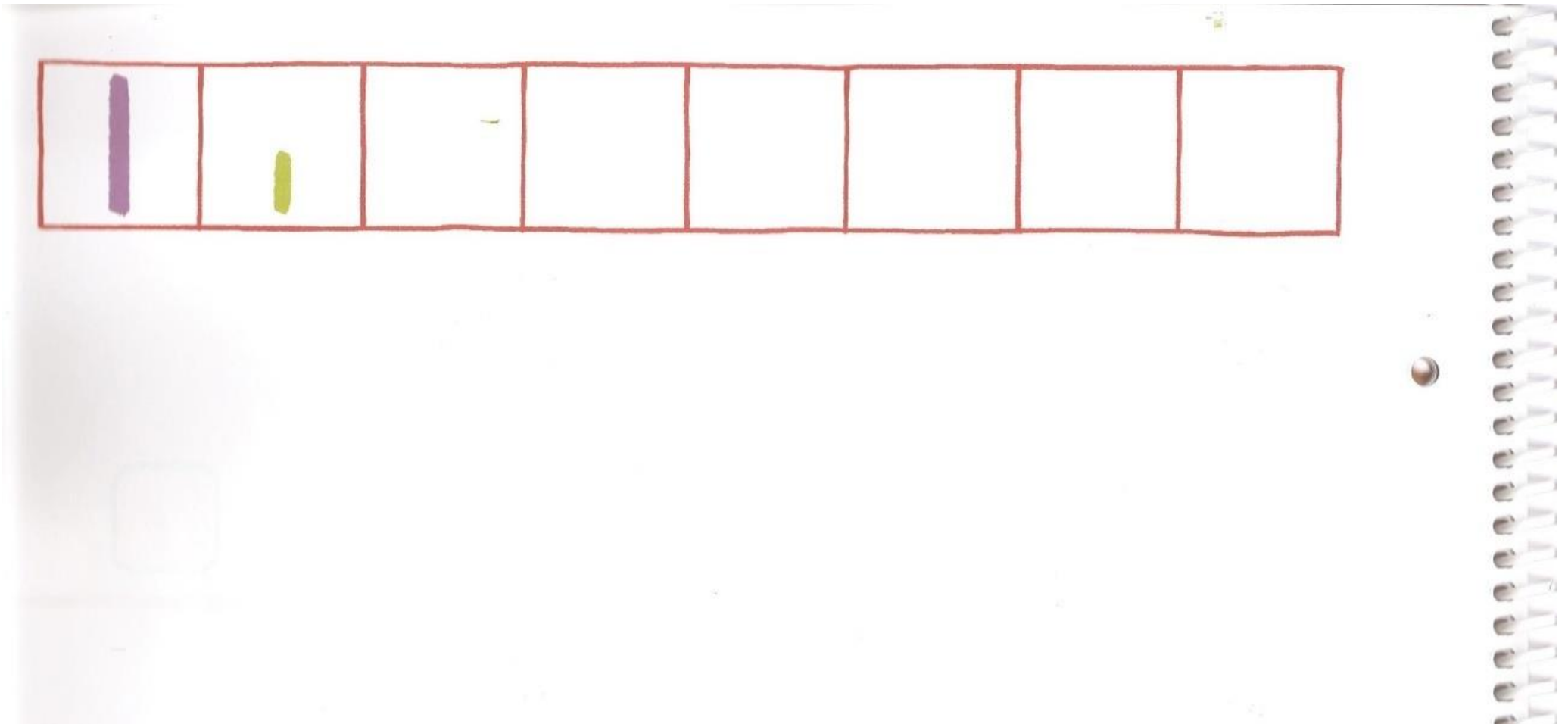


$$\begin{array}{c} \text{3} \\ \square \end{array} + \begin{array}{c} \text{3} \\ \square \end{array} = \square$$



$$\begin{array}{c} \text{4} \\ \square \end{array} + \begin{array}{c} \text{2} \\ \square \end{array} = \square$$

Después, continúa la serie dibujando (línea larga morada-línea corta verde).



Ahora, el [cuento de Alicia en el país de las Maravillas](#).

Por último, vamos a jugar y a aprender a la vez con [el juego de las bombillas](#).

Los niños de esta clase hoy van a pintar con pinceles. Colorea al mandilón de cada niño teniendo en cuenta el número de pinceles que tiene cada uno según te indica el código de colores que tienes en el recuadro de la izquierda.

¿CUÁNTOS TIENEN?

4	→	
5	→	
6	→	



ANUSA Matemáticas 2

41

Ahora, vamos a ver [el cuento La pintura Mágica](#). Por último, os dejo [el juego: De compras con el ogro](#), para aprender y divertirse a la vez.