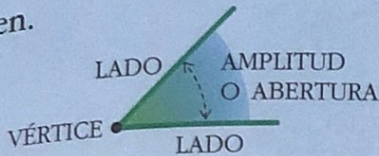


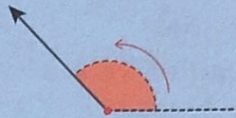
Los ángulos

Recuerda

Un ángulo es una parte del plano comprendida entre dos semirrectas con el mismo origen.




Un ángulo se puede asociar a un giro.




● Aplica y refuerza

1 De cada uno de estos ángulos, señala de azul los lados, y de rojo, los vértices.



2 Señala en la ilustración cuatro ángulos, igual que se ha hecho en el ejemplo.




3 Colorea el ángulo que gira la aguja grande entre las cuatro y las cuatro y diez.



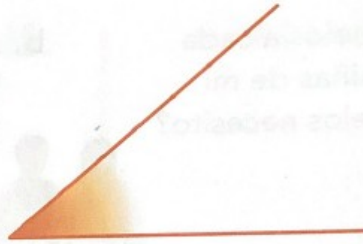
Tema 9 RECTAS Y ÁNGULOS

1. Escribe qué clase de ángulo es cada uno:




ángulo

.....



ángulo

.....



ángulo

.....

8. Dibuja en cada reloj la aguja que falta para formar el ángulo indicado:



ángulo recto



ángulo obtuso



ángulo agudo