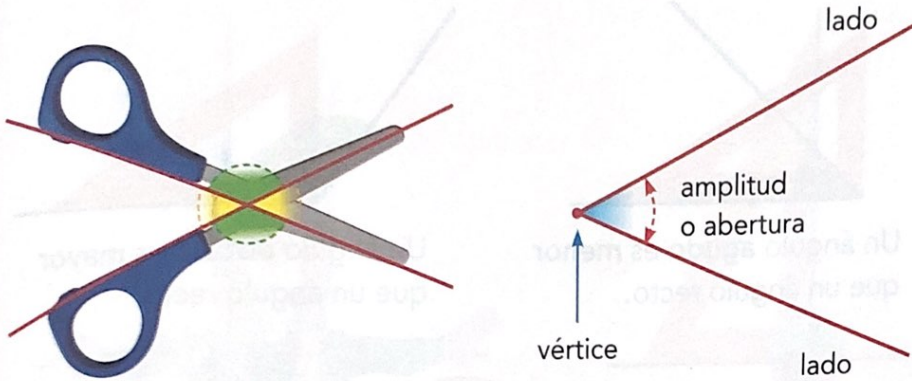


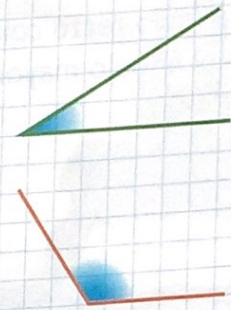
2. El ángulo: lados y vértice

Dos rectas secantes forman cuatro ángulos. Fíjate en las tijeras:



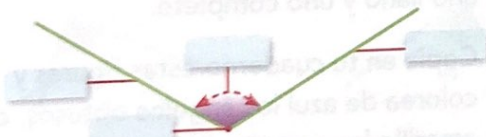
Recuerda

Hay ángulos más abiertos que otros:

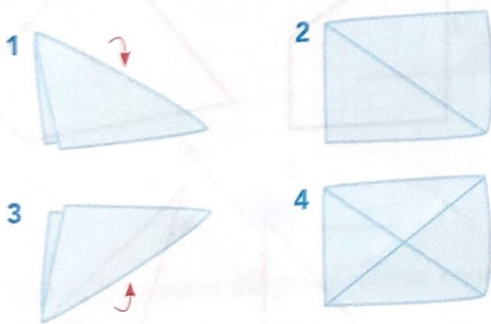


Los elementos de un ángulo son los lados y el vértice.

- 5 Copia este ángulo en tu cuaderno y escribe el nombre de cada elemento:



- 6 Dobra dos veces una hoja de papel tal como se indica:



- Señala los cuatro ángulos que se han formado con los pliegues y pinta los que sean iguales del mismo color.
- Señala con un punto rojo el vértice de estos ángulos.

- 7 Calca y recorta uno de los ángulos:



Ponlo encima del otro haciendo coincidir el vértice y uno de los lados. ¿Cuál de los dos ángulos es mayor?

- 8 Ordena los ángulos que determinan estos abanicos de menor a mayor amplitud:

