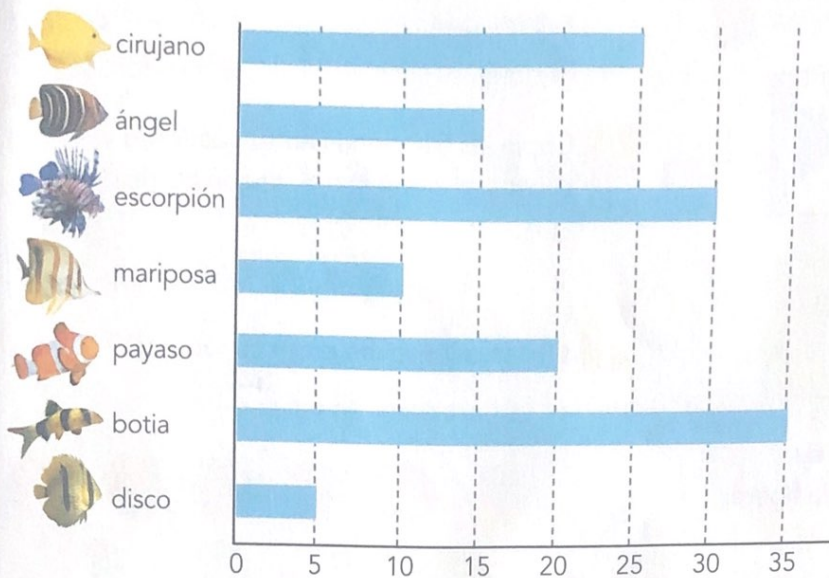


8. Interpretar gráficos de barras

En este gráfico se ha representado el número de peces tropicales que hay en un acuario:



Hay 10 ejemplares de peces mariposa.



24 Observa el gráfico anterior y contesta:

- ¿Cuántos peces ángel hay?
- ¿De qué especie hay 20 peces?
- ¿Cuántos peces cirujano hay más que peces payaso?

25 Indica en tu cuaderno el número de visitantes que corresponde a cada mes:



26.635

11.150

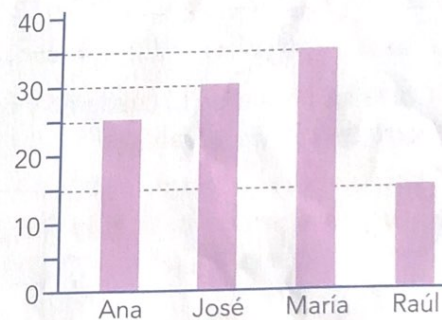
34.300

19.080

29.050

39.120

26 Cuatro amigos han estado jugando a los dardos y han obtenido las puntuaciones que figuran en este gráfico:



- ¿Cuántos puntos ha conseguido Raúl? ¿Y Ana?
- ¿Cuál es la diferencia de puntos entre María y Raúl?
- Ana y José formaban un equipo; María y Raúl, otro. ¿Qué equipo ha ganado?
- ¿Cuántos puntos le han faltado a Ana para tener los mismos que María?

Resuelve problemas

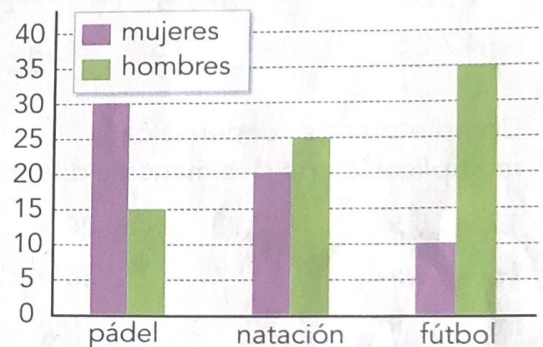
- 9** Un convoy de ayuda humanitaria ha de repartir 5.100 paquetes. Si ya ha repartido un tercio, ¿cuántos paquetes le quedan por repartir?
- 10** Un quinto de las flores de una floristería son rosas. Si hay 30 rosas, ¿cuántas flores tienen en total?
 Explica cómo lo has resuelto.
- 11** ¿Cuánto es un cuarto de 400 €? ¿Y tres cuartos? Ayúdate de la ilustración.



- 12** Un tercio de un pastel pesa 250 gramos. ¿Cuánto pesa el pastel entero?
- 13** Cinco amigos han recogido dinero, a partes iguales, para comprar un balón que vale 40 €.
- ¿Qué fracción del precio del balón ha de pagar cada uno?
 - ¿Cuántos euros ha de poner cada uno?
- 14** Tengo una cuerda de 40 m y la corto en ocho partes iguales. Tiño tres trozos de color rojo y el resto de color verde.
- ¿Qué fracción de la cuerda es ahora de color verde?
 - ¿Cuántos metros están teñidos de rojo?

Profundiza

- 15** Tiramos dos dados y anotamos la suma de los puntos obtenidos.
- ¿Cuál es el menor número que podemos obtener? ¿Y el mayor?
 - ¿Cuántas formas hay de conseguir un 8?
 - ¿Cuántas formas hay de conseguir un 12?
 - ¿Cuántas formas hay de conseguir un 5?
- Haz 20 tiradas y confecciona una tabla con los resultados.
- 16** Fíjate en el gráfico sobre las actividades en las que están inscritos los socios de un club deportivo y contesta las preguntas:



- ¿Cuántos socios hay apuntados a natación?
- ¿Cuántos hombres hay apuntados en total en las actividades del club? ¿Y mujeres?
- Si la cuota para practicar pádel es de 25 € al mes, ¿cuánto más se recauda por las cuotas de las mujeres que por las de los hombres?