



13. Escribe la pregunta y resuelve.

- Jorge tiene 55 céntimos y Ana tiene 28 céntimos más que Jorge.

¿.....?
?

Solución:

$$\begin{array}{r} 55 \\ + 28 \\ \hline \end{array}$$

620
 622
 624

- Bajaron 16 personas del autobús y todavía quedan 18.

¿.....?
?

Solución:

$$\begin{array}{r} 16 \\ + 18 \\ \hline \end{array}$$

632

- Javier hace una colección de 60 cromos. Le faltan 25 cromos para terminarla.

¿.....?
?

Solución:

$$\begin{array}{r} 60 \\ - 25 \\ \hline \end{array}$$

644


- Juan y Marta tienen 52 canicas entre los dos. Marta tiene 37.



¿.....?
?

Solución:

$$\begin{array}{r} 52 \\ - 37 \\ \hline \end{array}$$




14. Coloca y resta.


648 - 485



435 - 427




793 - 56




937 - 652




506 - 329



367 - 190



844 - 328



243 - 68



15. ¿Cuántos euros hay?



..... euros.



..... euros.



..... euros.



..... euros.