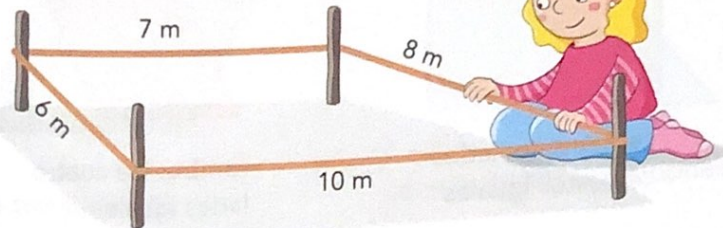


5. Perímetro de un polígono

Cristina ha construido un cuadrilátero con una cuerda y cuatro estacas. ¿Cuántos metros de cuerda ha utilizado en total?


He utilizado 31 m de cuerda.



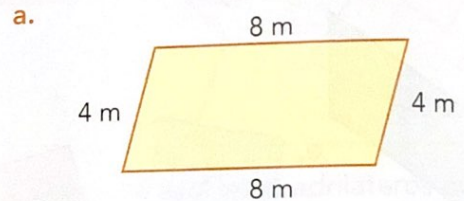
$$6 + 7 + 8 + 10 = 31$$

El perímetro de un polígono es la suma de la longitud de todos sus lados.

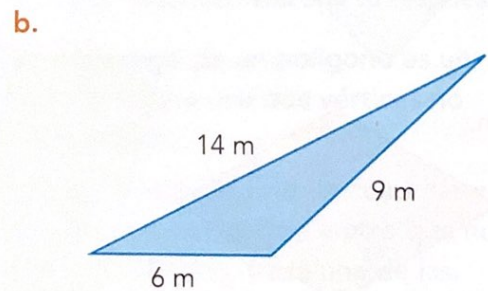
- 21** Cada cuadrado de la cuadrícula mide 1 cm de lado. Escribe en tu cuaderno el perímetro de cada figura:



- 22** Copia y calcula en tu cuaderno:



- suma de los lados:
... + ... + ... + ... = ...
- perímetro: ...



- suma de los lados:
... + ... + ... = ...
- perímetro: ...