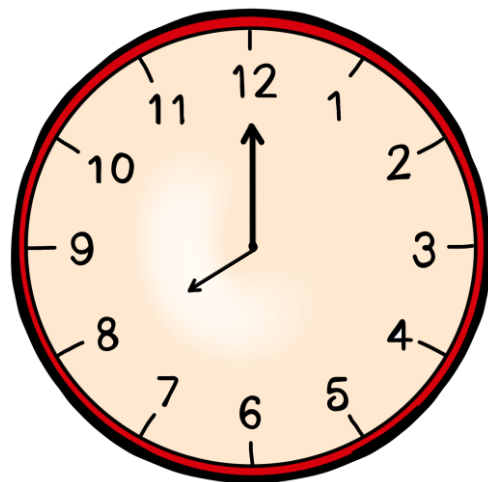


¿Qué hora marca el reloj?



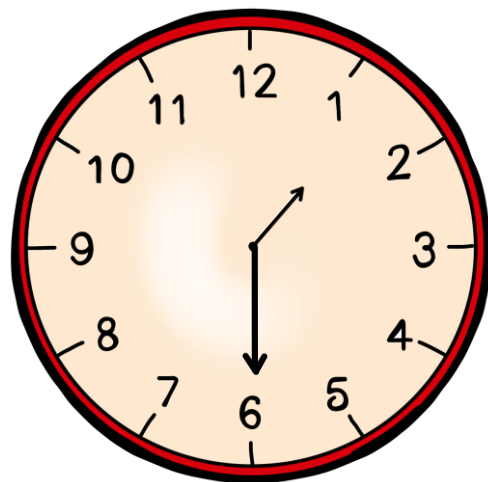
Las ocho y
media

Las ocho
menos
cuarto

Las ocho en
punto

Las ocho y
veinte

¿Qué hora marca el reloj?



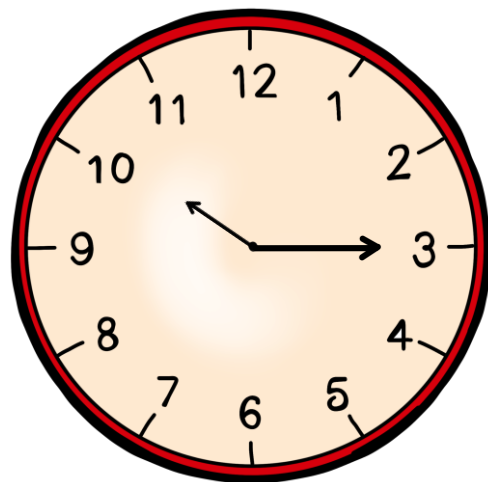
Las dos y
media

Las una en
punto

Las dos y
cuarto

Las una en
punto

¿Qué hora marca el reloj?



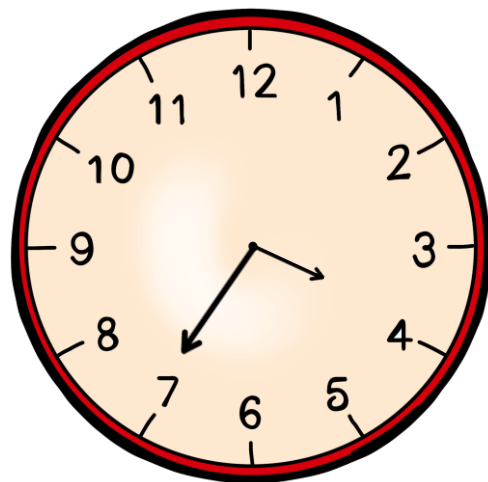
Las diez y
cuarto

Las once y
cuarto

Las diez y
veinte

Las once y
diez

¿Qué hora marca el reloj?



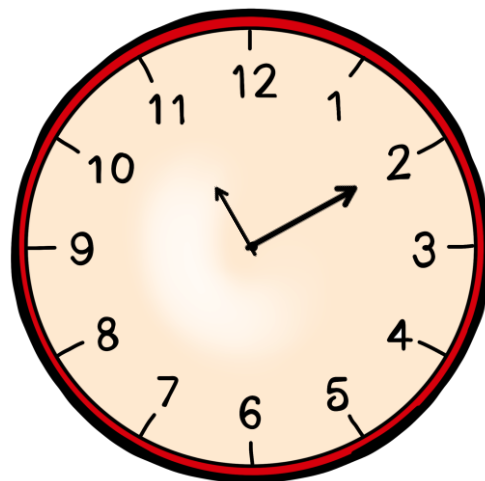
Las tres y
veinticinco

Las cuatro
y media

Las cuatro
menos
veinticinco

Las tres y
cuarto

¿Qué hora marca el reloj?



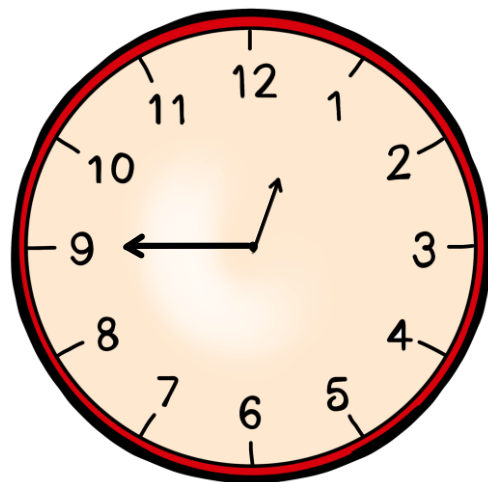
Las dos
menos
cinco

Las once y
diez

Las once en
punto

Las dos
menos
cuarto

¿Qué hora marca el reloj?



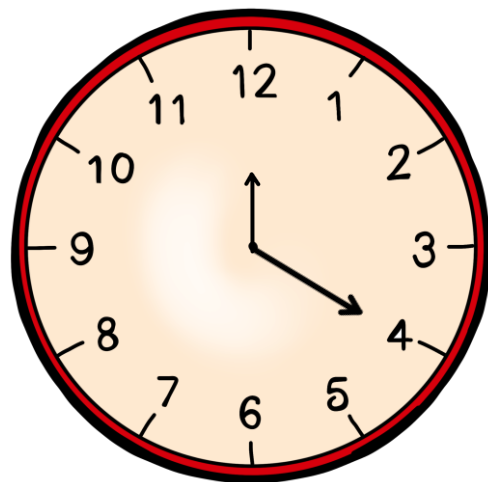
Las una
menos
cuarto

Las doce y
cuarto

Las una en
punto

Las doce
menos
cuarto

¿Qué hora marca el reloj?



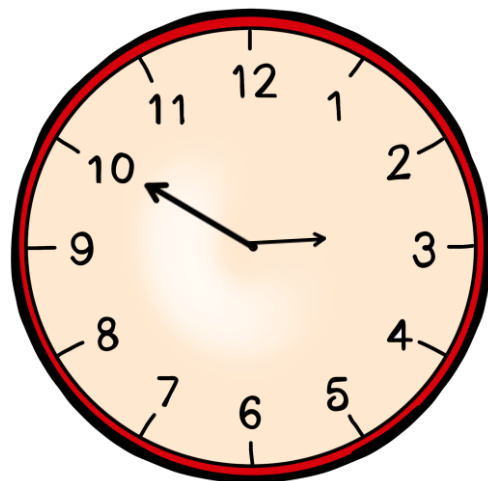
Las cuatro
en punto

Las doce y
cuarto

Las doce y
veinte

Las doce y
media

¿Qué hora marca el reloj?



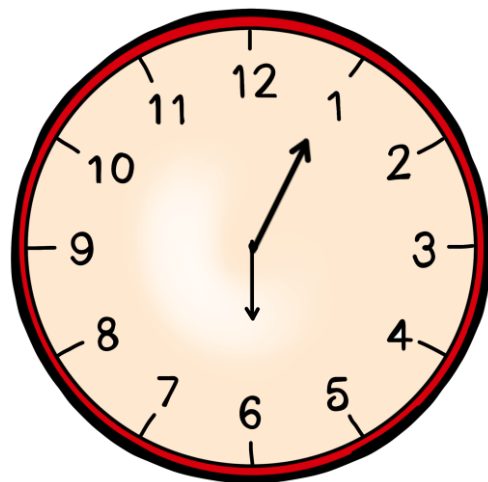
Las tres y
diez

Las tres
menos
cuarto

Las tres
menos
cinco

Las tres
menos diez

¿Qué hora marca el reloj?



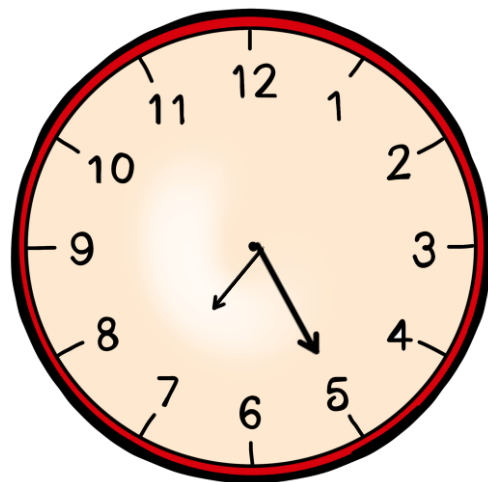
Las seis en
punto

Las una y
media

Las seis y
cinco

Las una y
cinco

¿Qué hora marca el reloj?



Las siete y
veinticinco

Las siete y
media

Las cinco
menos
veinte

Las cinco y
media