

Nombre:

Fecha:

1 *Calcula mentalmente.*

$7 + 1 = \underline{\quad}$

$4 + 4 = \underline{\quad}$

$9 + 4 = \underline{\quad}$

$9 + 9 = \underline{\quad}$

$5 + 6 = \underline{\quad}$

$3 + 4 = \underline{\quad}$

$5 + 3 = \underline{\quad}$

$1 + 9 = \underline{\quad}$

$8 + 6 = \underline{\quad}$

$7 + 3 = \underline{\quad}$

$7 + 5 = \underline{\quad}$

$8 + 2 = \underline{\quad}$

$2 + 5 = \underline{\quad}$

$6 + 2 = \underline{\quad}$

$5 + 9 = \underline{\quad}$

2 *Rodea las parejas que suman 10.*

$7 + 3$

$6 + 5$

$3 + 8$

$5 + 5$

$6 + 2$

$2 + 9$

$3 + 6$

$2 + 8$

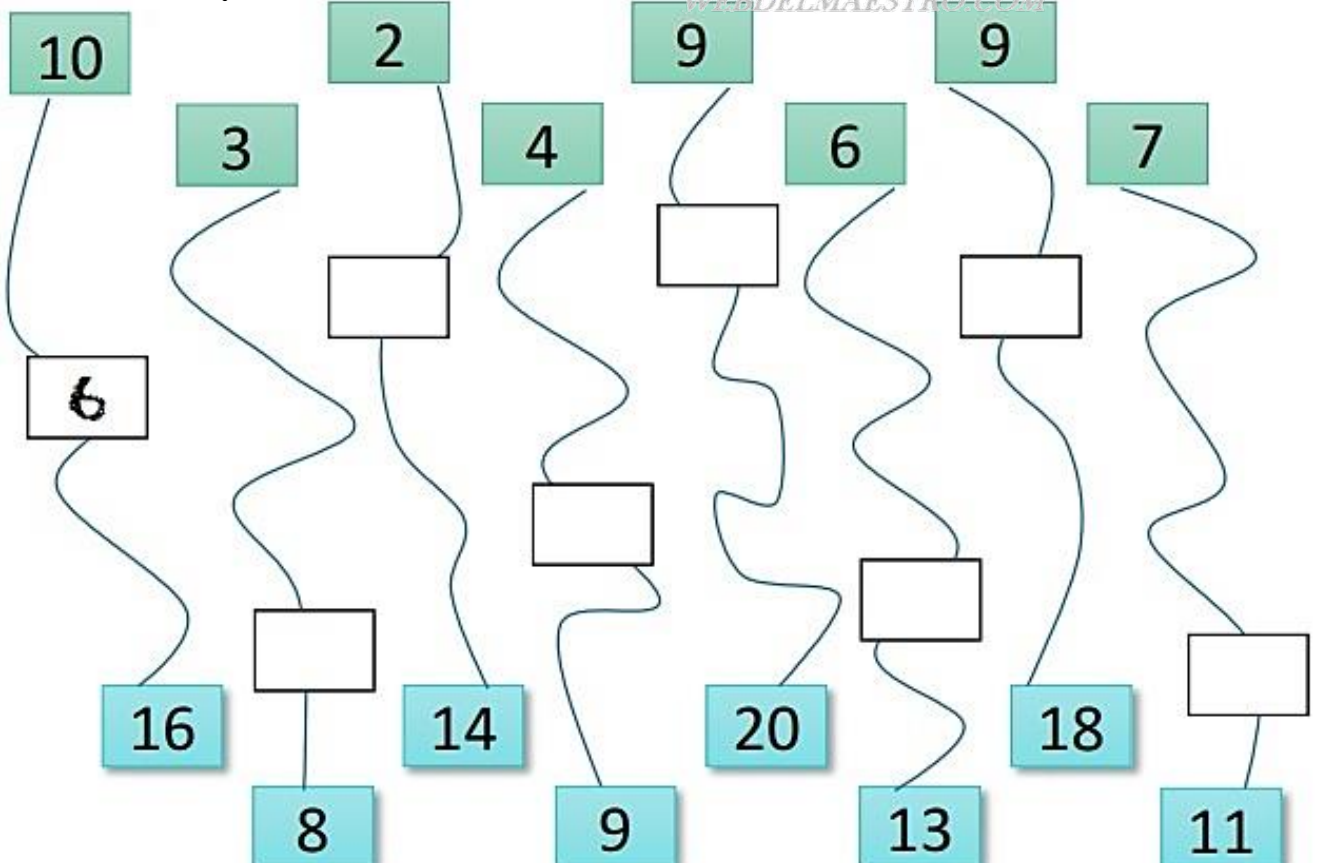
$9 + 1$

$7 + 3$

$8 + 2$

$4 + 6$

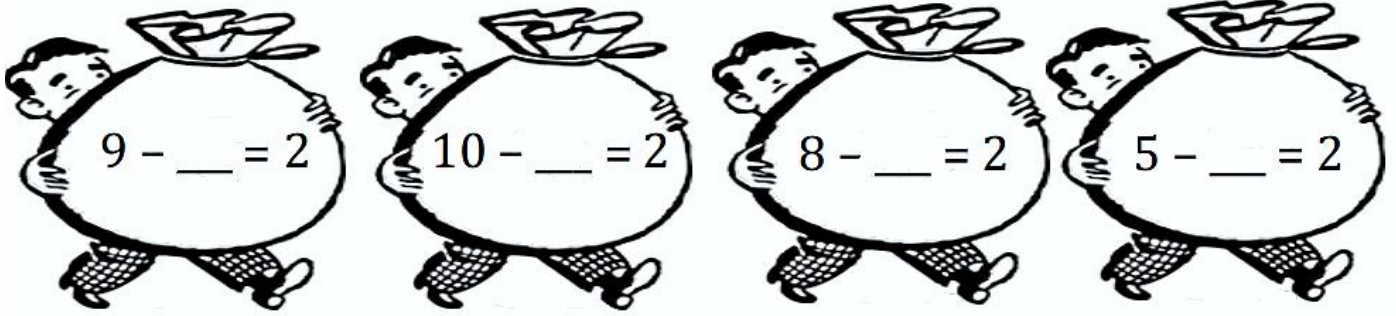
3 *¿Qué número falta en cada línea?*




Nombre:

Fecha:

1 Completa los números que faltan.





2 Haz en la pizarra tres cuentas de restar con resultado 10.



3 Cuánto te sobra si pagas con 10 céntimos?

10 -   = _____ cts.

10 -   = _____ cts.

10 -   = _____ cts.

10 -   = _____ cts.

