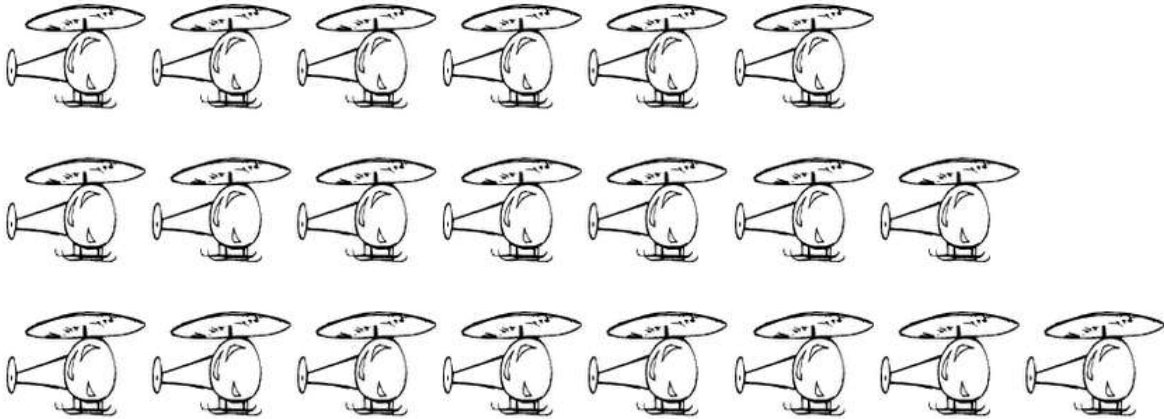



PAR o IMPAR

Rodea los objetos formando parejas, escribe la cantidad y pinta la casilla correspondiente.



NÚMERO _____

PAR	IMPAR
-----	-------



NÚMERO _____

PAR	IMPAR
-----	-------




NÚMERO _____

PAR	IMPAR
-----	-------



NÚMERO _____

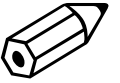
PAR	IMPAR
-----	-------



NÚMERO _____

PAR	IMPAR
-----	-------

Escribe en letra los siguientes números



274 _____

938 _____

620 _____

444 _____

406 _____

700 _____

Realiza la descomposición de los siguientes números

676	600 + 70 + 6	505	
491		737	
728		690	

Alejandro ha comprado un lápiz que cuesta 50 céntimos y una libreta que cuesta 75 céntimos. ¿Cuánto dinero se ha gastado?

Alba tiene 26 cromos y Chefren tiene 8 cromos menos que Alba. ¿Cuántos cromos tiene Chefren?

Calculo mental:

$570 + 13 + 2 = \underline{\quad}$

$333 + 30 + 3 = \underline{\quad}$

$895 - 50 = \underline{\quad}$

$486 - 400 = \underline{\quad}$

$820 + 46 + 3 = \underline{\quad}$

$685 + 10 + 2 = \underline{\quad}$

$629 - 10 = \underline{\quad}$

$693 - 50 = \underline{\quad}$