



# par impar

Completa las siguientes tablas con las indicaciones que se señalan en cada una



PAR ANTERIOR	
	14
	25
	36
	12
	29

PAR ENTRE		
24		28
32		36
21		23
29		31
64		68

PAR POSTERIOR	
19	
35	
26	
17	
14	

IMPAR ANTERIOR	
	9
	27
	30
	19
	28

IMPAR ENTRE		
28		30
44		46
71		75
47		51
16		18

IMPAR POSTERIOR	
99	
25	
18	
47	
19	

PAR ANTERIOR	
	99
	85
	38
	17
	49

PAR ANTERIOR IMPAR SIGUIENTE		
	17	
	46	
	82	
	35	
	40	

IMPAR POSTERIOR	
69	
15	
75	
67	
24	



Nombre:

Fecha:

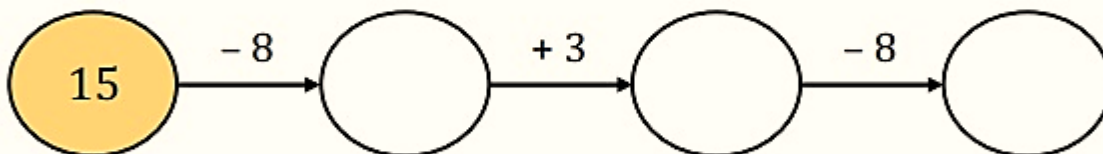
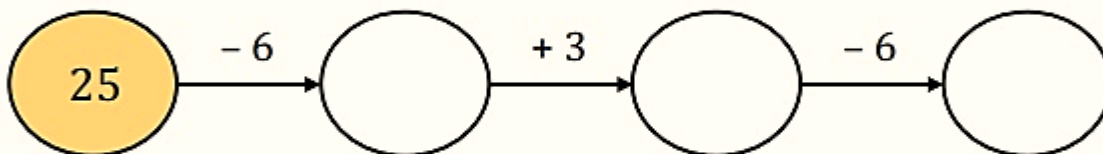
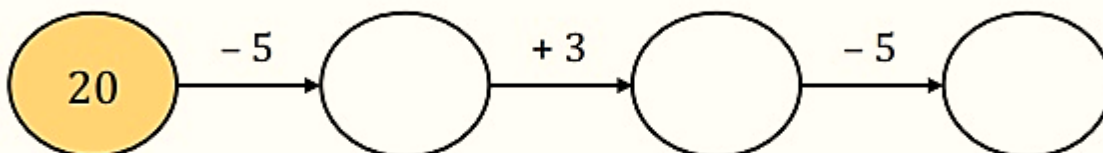
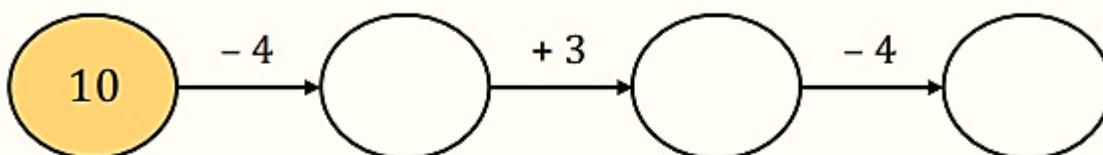
1 Realiza las restas.

$20 - 12 = \underline{\quad\quad}$      $20 - 17 = \underline{\quad\quad}$


$20 - 15 = \underline{\quad\quad}$      $20 - 14 = \underline{\quad\quad}$      $20 - 19 = \underline{\quad\quad}$

$20 - 11 = \underline{\quad\quad}$      $20 - 16 = \underline{\quad\quad}$      $20 - 13 = \underline{\quad\quad}$

2 Resuelve las operaciones.



3 Ordena los resultados de menor a mayor.



5				
---	--	--	--	--