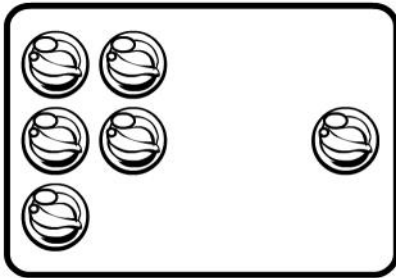


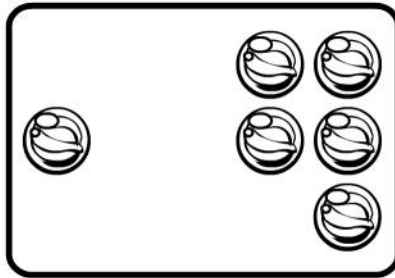
Mayor que, menor que, igual a

Observa y aprende.



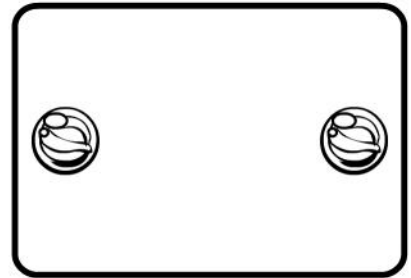
$$5 > 1$$

5 es mayor que 1



$$1 < 5$$

1 es menor que 5



$$1 = 1$$

1 es igual a 1

Escribe un número.

Mayor que

99	
----	--

150	
-----	--

73	
----	--

236	
-----	--

Menor que

288	
-----	--

104	
-----	--

3	
---	--

57	
----	--

Completa con $>$, $<$ o $=$.

$$76 \bigcirc 7$$

$$134 \bigcirc 134$$

$$7 \bigcirc 4$$

$$50 \bigcirc 23$$

$$45 \bigcirc 54$$

$$45 \bigcirc 28$$

$$36 \bigcirc 36$$

$$210 \bigcirc 120$$

$$62 \bigcirc 74$$

 Tacha los números mayores que 83.

123	204	37	58	90	82
75	184	211	69	4	20

 Tacha los números menores que 154.

25	236	155	153	183	254
47	36	145	68	46	200

 Ordena.

De menor a mayor

74 - 87 - 103 - 225 - 93

--	--	--	--	--

De mayor a menor

17 - 71 - 172 - 91 - 245

--	--	--	--	--

 Rodea así:

número mayor → azul

número menor → verde

6 - 15	28 - 14	39 - 37	28 - 82
--------	---------	---------	---------