

Nombre: _____

Curso: _____

$$\begin{array}{r} 703 \\ - 488 \\ \hline \end{array}$$

$$\begin{array}{r} 714 \\ - 266 \\ \hline \end{array}$$

$$\begin{array}{r} 728 \\ - 371 \\ \hline \end{array}$$

$$\begin{array}{r} 707 \\ - 354 \\ \hline \end{array}$$

$$\begin{array}{r} 553 \\ - 47 \\ \hline \end{array}$$

$$\begin{array}{r} 570 \\ - 136 \\ \hline \end{array}$$

$$\begin{array}{r} 618 \\ - 283 \\ \hline \end{array}$$

$$\begin{array}{r} 522 \\ - 465 \\ \hline \end{array}$$

$$\begin{array}{r} 729 \\ - 150 \\ \hline \end{array}$$

$$\begin{array}{r} 710 \\ - 398 \\ \hline \end{array}$$

$$\begin{array}{r} 974 \\ - 446 \\ \hline \end{array}$$

$$\begin{array}{r} 752 \\ - 319 \\ \hline \end{array}$$

$$\begin{array}{r} 643 \\ - 158 \\ \hline \end{array}$$

$$\begin{array}{r} 954 \\ - 28 \\ \hline \end{array}$$


$$\begin{array}{r} 501 \\ - 169 \\ \hline \end{array}$$

$$\begin{array}{r} 860 \\ - 448 \\ \hline \end{array}$$


¿Te ha parecido muy fácil?




3 Escribe la multiplicación que nos permite calcular el número de puntos en cada caso.




$$\dots \times \dots$$



$$\dots \times \dots$$



$$\dots \times \dots$$



$$\dots \times \dots$$

● Resuelve problemas

4 Si un peluche cuesta 3 €, coloca la etiqueta del precio de cada grupo.



3 €



5 ¿Qué peso señala cada báscula?

