


Escribe la decena más próxima a cada número.
Elige una de las dos.

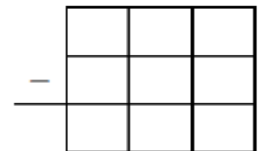
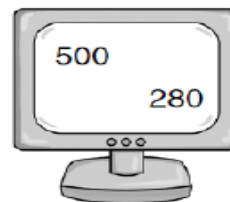
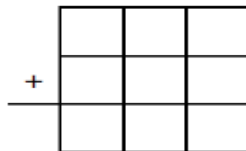

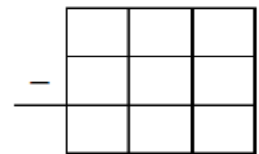

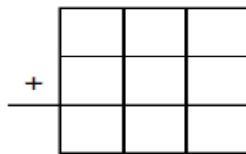
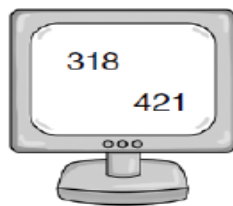
37 → 30 o 40
21 → 20 o 30

82 → 80 o 90
18 → 10 o 20


68 → 60 o 70
53 → 50 o 60

 Realiza las operaciones que se indican con los números que aparecen en los ordenadores.

Colorea las pantallas de los ordenadores según este código:
rojo- la operación da **409** **azul**- la operación da **220**
verde- la operación da **739** **amarillo**- la operación da **773**



PROBLEMILLA

 A Antonio le han regalado una caja con 50 bombones. Se puso a comer y cuando se dio cuenta en la caja solo quedaban 16. ¿Cuántos bombones se comió?

Pista: Tú lo que quieres saber es cuánto va de 16 a 50.

Datos	Operación	Respuesta