

1. Cuenta los lados y los vértices.




..... lados
..... vértices



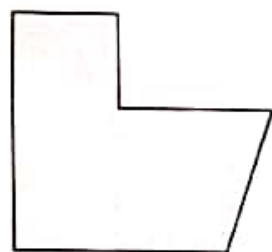
..... lados
..... vértices



..... lados
..... vértices



..... lados
..... vértices




..... lados
..... vértices



..... lados
..... vértices



..... lados
..... vértices



..... lados
..... vértices

2. Suma y escribe con letras el número.

$$800 + 30 + 2 = \dots\dots\dots$$

ochocientos treinta y dos

$$800 + 10 + 2 = \dots\dots\dots$$

.....

$$800 + 20 + 4 = \dots\dots\dots$$

.....

$$800 + 50 = \dots\dots\dots$$

.....

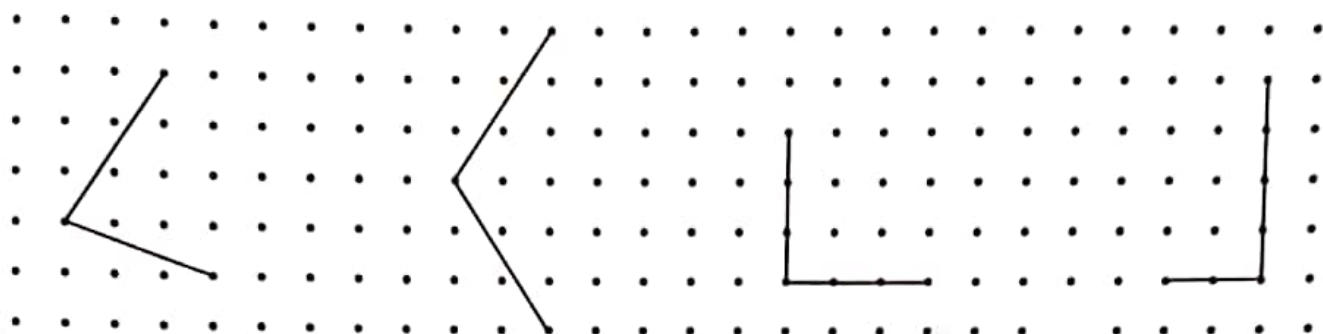
$$800 + 10 + 7 = \dots\dots\dots$$

.....

$$800 + 8 = \dots\dots\dots$$

.....

Completa el cuadrilátero indicado en cada caso.



triángulo

rombo

cuadrado

rectángulo

Suma y resta.

$$500 + 40 = \dots\dots\dots 100 + 30 = \dots\dots\dots 500 - 40 = \dots\dots\dots$$

$$300 + 60 = \dots\dots\dots 900 + 70 = \dots\dots\dots 300 - 60 = \dots\dots\dots$$

$$700 + 50 = \dots\dots\dots 200 + 80 = \dots\dots\dots 700 - 50 = \dots\dots\dots$$

$$800 + 10 = \dots\dots\dots 900 - 90 = \dots\dots\dots 800 - 10 = \dots\dots\dots$$

$$400 + 20 = \dots\dots\dots 400 - 70 = \dots\dots\dots 400 - 20 = \dots\dots\dots$$

$$600 + 80 = \dots\dots\dots 200 - 30 = \dots\dots\dots 600 - 80 = \dots\dots\dots$$

Continúa la serie: cuenta de 10 en 10.

