

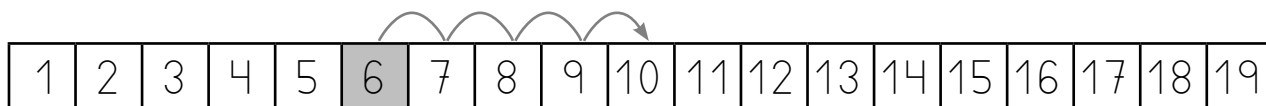
Nombre _____ Fecha _____

1 ¿Cuántos faltan? Cuenta, dibuja en la recta y completa.

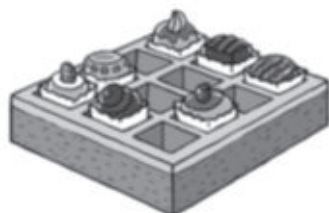


Hay huevos. ▶ $10 - 6$

Cuento desde hasta

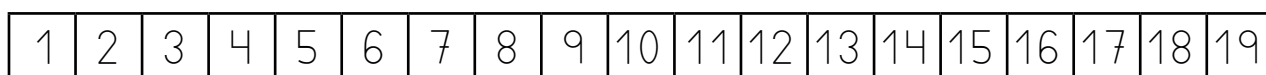


- = Faltan huevos.



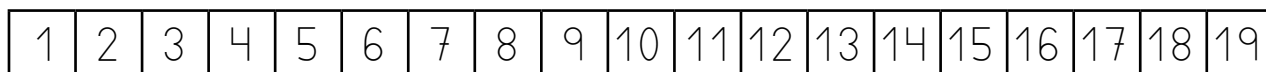
Hay pasteles. ▶ $12 - 7$

Cuento desde hasta .



- = Faltan pasteles.


2 Cuenta y calcula las restas.




$12 - 6 = \square$ $15 - 9 = \square$ $18 - 8 = \square$

Nombre _____ Fecha _____

1 Cuenta y completa.



▶ $30 + 4 = \square$



▶ $\square + \square = \square$



▶ $\square + \square = \square$



▶ $\square + \square = \square$



▶ $\square + \square = \square$



▶ $\square + \square = \square$



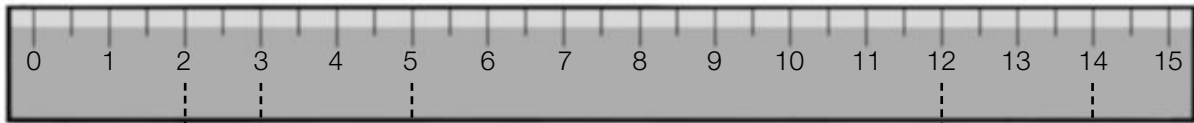
▶ $\square + \square = \square$



▶ $\square + \square = \square$

Nombre _____ Fecha _____

1 ¿Cuánto miden? Observa y escribe.

▶ centímetros▶ centímetros▶ centímetros▶ centímetros▶ centímetros

Nombre _____ Fecha _____

1 Lee, piensa si tienes que sumar o restar y resuelve.

- Ana tenía 7 galletas. Da 2 galletas a su hermano. ¿Cuántas galletas le quedan a Ana?

tenía ►

da ►

le quedan ►



Solución ►

Le quedan

- Luis tenía 8 pegatinas. Su amiga Paula le regala 3 pegatinas más. ¿Cuántas pegatinas tiene Luis al final?

tenía ►

le regalan ►

al final tiene ►

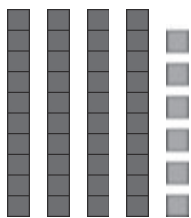


Solución ►

Al final tiene

Nombre _____ Fecha _____

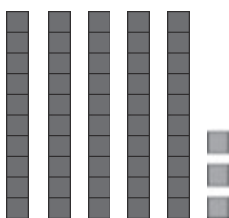
1 Cuenta, completa y escribe cómo se lee cada número.



$$\boxed{40} + \boxed{6} = \boxed{}$$

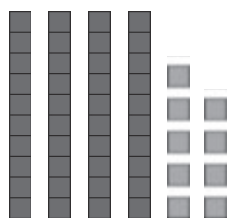
$\boxed{46}$ ►

cuarenta y seis



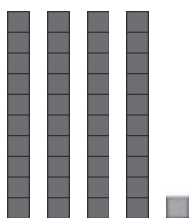
$$\boxed{} + \boxed{} = \boxed{}$$

$\boxed{}$ ►



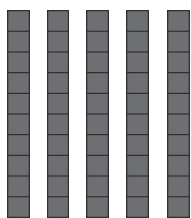
$$\boxed{} + \boxed{} = \boxed{}$$

$\boxed{}$ ►



$$\boxed{} + \boxed{} = \boxed{}$$

$\boxed{}$ ►



$$\boxed{} + \boxed{} = \boxed{}$$

$\boxed{}$ ►

Nombre _____ Fecha _____

1 Fíjate en cómo están colocados los números y suma.

D	U
12	
+	2
□	

D	U
24	
+	3
□	

D	U
25	
+	24
□	

D	U
47	
+	11
□	

2 Coloca los números y suma.

11 + 1

53 + 5

33 + 26

12 + 30

D U	D U	D U	D U
+	+	+	+

3 Calcula cuánto cuestan en total.



Operación

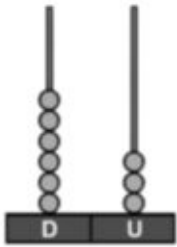
D U
+

Solución

Cuestan _____ euros.

Nombre _____ Fecha _____

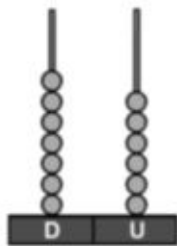
1 Cuenta y completa.



D	U
6	3

$$60 + 3 = \square$$

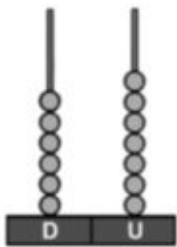
decenas y unidades



D	U

$$\square + \square = \square$$

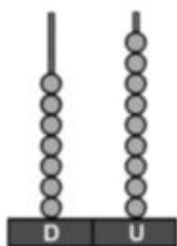
decenas y unidades



D	U

$$\square + \square = \square$$

decenas y unidades

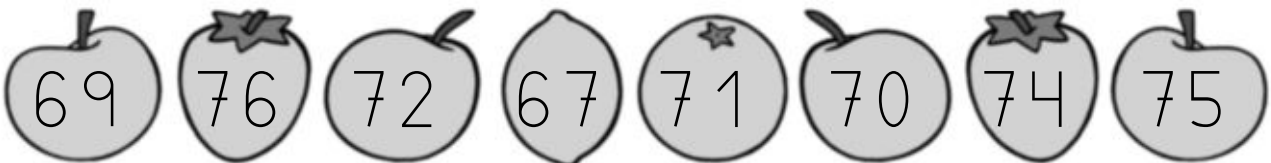


D	U

$$\square + \square = \square$$

decenas y unidades

2 Tacha los números y completa la serie.



	68					73			
--	----	--	--	--	--	----	--	--	--