

Nombre \_\_\_\_\_ Fecha \_\_\_\_\_


**1 Estima y marca con una X la respuesta correcta.**



- 2 litros
- 20 litros



- 5 litros
- 60 litros



- 6 litros
- 300 litros

**2 Observa las balanzas y escribe una frase con la palabra indicada.**

**MÁS**




Las manzanas  
\_\_\_\_\_

**MENOS**



Las fresas  
\_\_\_\_\_

**3 Escribe cada nombre donde corresponda.**



Pesan más de 1 kg




\_\_\_\_\_

Pesan menos de 1 kg

\_\_\_\_\_


Nombre \_\_\_\_\_ Fecha \_\_\_\_\_

**1** ¿Cuántas piezas tienen? Observa y calcula.

$$\begin{array}{r}
 \phantom{0} \\
 238 \\
 + 143 \\
 \hline
 \phantom{0}
 \end{array}$$


Tienen  piezas.



$$\begin{array}{r}
 \phantom{0} \\
 182 \\
 + 143 \\
 \hline
 \phantom{0}
 \end{array}$$


Tienen  piezas.

**2** ¿Cuántos ladrillos tienen? Observa y calcula.

$$\begin{array}{r}
 190 \\
 + 85 \\
 \hline
 \phantom{0}
 \end{array}$$

Tienen  ladrillos.



$$\begin{array}{r}
 209 \\
 + 85 \\
 \hline
 \phantom{0}
 \end{array}$$

Tienen  ladrillos.

Nombre \_\_\_\_\_ Fecha \_\_\_\_\_

## 1 Resta.

$\begin{array}{r} 453 \\ - 236 \\ \hline \end{array}$	$\begin{array}{r} 474 \\ - 345 \\ \hline \end{array}$	$\begin{array}{r} 341 \\ - 127 \\ \hline \end{array}$
$\begin{array}{r} 338 \\ - 165 \\ \hline \end{array}$	$\begin{array}{r} 416 \\ - 234 \\ \hline \end{array}$	$\begin{array}{r} 409 \\ - 265 \\ \hline \end{array}$
$\begin{array}{r} 437 \\ - 252 \\ \hline \end{array}$	$\begin{array}{r} 468 \\ - 329 \\ \hline \end{array}$	$\begin{array}{r} 372 \\ - 246 \\ \hline \end{array}$

## 2 Lee y completa.

En una carrera de sacos hay 470 participantes.

De ellos, 235 son chicas, y el resto, chicos.

¿Cuántos chicos hay?

$$\begin{array}{r} \phantom{0} \\ \phantom{0} \\ \hline \end{array}$$



Hay \_\_\_\_\_

Durante la carrera han sido eliminados 190 participantes.

¿Cuántos participantes han llegado a la meta?

$$\begin{array}{r} \phantom{0} \\ \phantom{0} \\ \hline \end{array}$$

Han llegado \_\_\_\_\_

Nombre \_\_\_\_\_ Fecha \_\_\_\_\_

## 1 Resta.

$\begin{array}{r} 544 \\ - 387 \\ \hline \end{array}$	$\begin{array}{r} 434 \\ - 236 \\ \hline \end{array}$	$\begin{array}{r} 352 \\ - 154 \\ \hline \end{array}$
$\begin{array}{r} 423 \\ - 364 \\ \hline \end{array}$	$\begin{array}{r} 541 \\ - 357 \\ \hline \end{array}$	$\begin{array}{r} 504 \\ - 236 \\ \hline \end{array}$
$\begin{array}{r} 530 \\ - 254 \\ \hline \end{array}$	$\begin{array}{r} 421 \\ - 165 \\ \hline \end{array}$	$\begin{array}{r} 557 \\ - 279 \\ \hline \end{array}$

## 2 Lee y completa.

En un polideportivo hay 585 socios. Les han dado camisetas a 396 socios. ¿Cuántas camisetas faltan?

$$\begin{array}{r} \phantom{0} \\ \phantom{0} \\ \hline \end{array}$$


Faltan \_\_\_\_\_

En una frutería había 442 manzanas.  
Han vendido 258 manzanas.  
¿Cuántas manzanas quedan?

$$\begin{array}{r} \phantom{0} \\ \phantom{0} \\ \hline \end{array}$$

Quedan \_\_\_\_\_