

# TAREFA SEMANAL DO 2 AO 5 DE MAIO

## MARTES

1. Dictado.

Estaba sentado en el banco de la avenida y me di cuenta de todas las cosas que estaban a mi alrededor: coches, bicicletas, señales de tráfico, contenedores de reciclaje, antenas wifi, placas solares y cables de electricidad.

2. Escribe las palabras contrarias de:

Ordenar:

Colocar:

Subir:

Blanco:

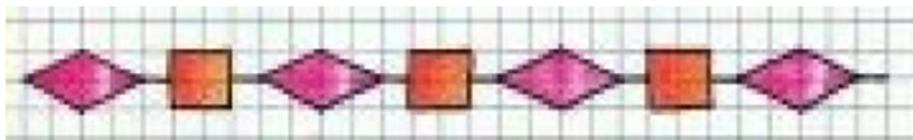
Visible:

Abrir:

## MÉRCORES

1. Carlos mercou 3 caixas de xelados. Cada caixa contén 7 xelados. Cantos xelados mercou?

2. Copia a cenefa respectando a cuadrícula como na imaxe:



## XOVES

1. Copia.

Para ir al colegio en la mochila llevo: dos libros, un estuche, la agenda, un cuaderno y dos mandarinas. Hoy vamos de excursión y tenemos que llevar una gorra, protector solar, una cantimplora con agua y la merienda.

2. Escribe la familia de:

Libro:

Pescado:

### VENRES

1. Cristina ten unha corda que mide 126 cm. Esta semana mercou outra que mide 185 cm. Se une as dúas corda, cantos cm ten a corda en total?
2. Escribe a táboa do 6 e a do 7.

# TAREFA SEMANAL DO 2 AO 5 DE MAIO

## MARTES

### 1. Dictado.

Estaba sentado en el banco de la avenida y me di cuenta de todas las cosas que estaban a mi alrededor: coches, bicicletas, señales de tráfico, contenedores de reciclaje, antenas wifi, placas solares y cables de electricidad.

### 2. Escribe las palabras contrarias de:

Ordenar:

Colocar:

Subir:

Blanco:

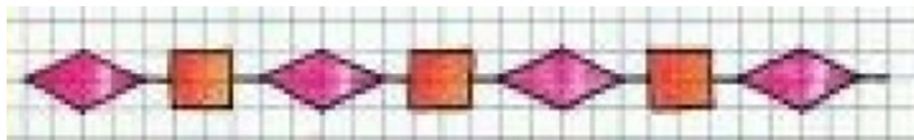
Visible:

Abrir:

## MÉRCORES

1. Carlos mercou 3 caixas de xelados. Cada caixa contén 7 xelados. Cantos xelados mercou?

2. Copia a cenefa respectando a cuadrícula como na imaxe:



## XOVES

### 1. Copia.

Para ir al colegio en la mochila llevo: dos libros, un estuche, la agenda, un cuaderno y dos mandarinas. Hoy vamos de excursión y tenemos que llevar una gorra, protector solar, una cantimplora con agua y la merienda.

2. Escribe la familia de:

Libro:

Pescado:

### VENRES

1. Cristina ten unha corda que mide 126 cm. Esta semana mercou outra que mide 185 cm. Se une as dúas corda, cantos cm ten a corda en total?
2. Escribe a táboa do 6 e a do 7.

# TAREFA SEMANAL DO 2 AO 5 DE MAIO

## MARTES

### 1. Dictado.

Estaba sentado en el banco de la avenida y me di cuenta de todas las cosas que estaban a mi alrededor: coches, bicicletas, señales de tráfico, contenedores de reciclaje, antenas wifi, placas solares y cables de electricidad.

### 2. Escribe las palabras contrarias de:

Ordenar:

Colocar:

Subir:

Blanco:

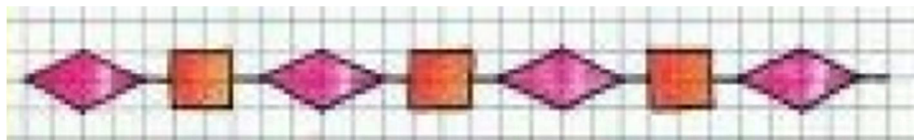
Visible:

Abrir:

## MÉRCORES

1. Carlos mercou 3 caixas de xelados. Cada caixa contén 7 xelados. Cantos xelados mercou?

2. Copia a cenefa respectando a cuadrícula como na imaxe:



## XOVES

### 1. Copia.

Para ir al colegio en la mochila llevo: dos libros, un estuche, la agenda, un cuaderno y dos mandarinas. Hoy vamos de excursión y tenemos que llevar una gorra, protector solar, una cantimplora con agua y la merienda.

2. Escribe la familia de:

Libro:

Pescado:

### VENRES

1. Cristina ten unha corda que mide 126 cm. Esta semana mercou outra que mide 185 cm. Se une as dúas corda, cantos cm ten a corda en total?
2. Escribe a táboa do 6 e a do 7.

# TAREFA SEMANAL DO 2 AO 5 DE MAIO

## MARTES

1. Dictado.

Estaba sentado en el banco de la avenida y me di cuenta de todas las cosas que estaban a mi alrededor: coches, bicicletas, señales de tráfico, contenedores de reciclaje, antenas wifi, placas solares y cables de electricidad.

2. Escribe las palabras contrarias de:

Ordenar:

Colocar:

Subir:

Blanco:

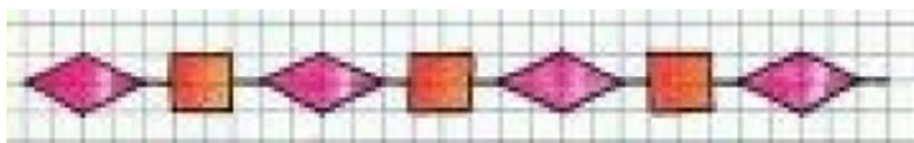
Visible:

Abrir:

## MÉRCORES

1. Carlos mercou 3 caixas de xelados. Cada caixa contén 7 xelados. Cantos xelados mercou?

2. Copia a cenefa respectando a cuadrícula como na imaxe:



## XOVES

1. Copia.

Para ir al colegio en la mochila llevo: dos libros, un estuche, la agenda, un cuaderno y dos mandarinas. Hoy vamos de excursión y tenemos que llevar una gorra, protector solar, una cantimplora con agua y la merienda.

2. Escribe la familia de:

Libro:

Pescado:

### VENRES

1. Cristina ten unha corda que mide 126 cm. Esta semana mercou outra que mide 185 cm. Se une as dúas corda, cantos cm ten a corda en total?
2. Escribe a táboa do 6 e a do 7.



# TAREFA SEMANAL DO 2 AO 5 DE MAIO

## MARTES

### 1. Dictado.

Estaba sentado en el banco de la avenida y me di cuenta de todas las cosas que estaban a mi alrededor: coches, bicicletas, señales de tráfico, contenedores de reciclaje, antenas wifi, placas solares y cables de electricidad.

### 2. Escribe las palabras contrarias de:

Ordenar:

Colocar:

Subir:

Blanco:

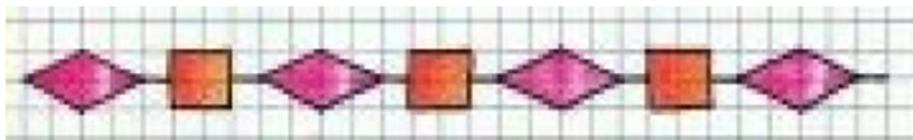
Visible:

Abrir:

## MÉRCORES

1. Carlos mercou 3 caixas de xelados. Cada caixa contén 7 xelados. Cantos xelados mercou?

2. Copia a cenefa respectando a cuadrícula como na imaxe:



## XOVES

### 1. Copia.

Para ir al colegio en la mochila llevo: dos libros, un estuche, la agenda, un cuaderno y dos mandarinas. Hoy vamos de excursión y tenemos que llevar una gorra, protector solar, una cantimplora con agua y la merienda.

2. Escribe la familia de:

Libro:

Pescado:

### VENRES

1. Cristina ten unha corda que mide 126 cm. Esta semana mercou outra que mide 185 cm. Se une as dúas corda, cantos cm ten a corda en total?
2. Escribe a táboa do 6 e a do 7.

# TAREFA SEMANAL DO 2 AO 5 DE MAIO

## MARTES

### 1. Dictado.

Estaba sentado en el banco de la avenida y me di cuenta de todas las cosas que estaban a mi alrededor: coches, bicicletas, señales de tráfico, contenedores de reciclaje, antenas wifi, placas solares y cables de electricidad.

### 2. Escribe las palabras contrarias de:

Ordenar:

Colocar:

Subir:

Blanco:

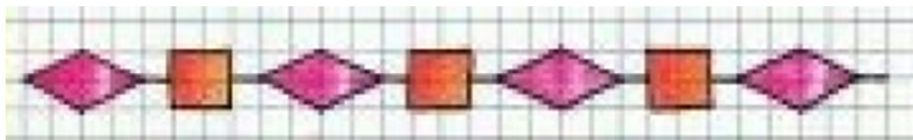
Visible:

Abrir:

## MÉRCORES

1. Carlos mercou 3 caixas de xelados. Cada caixa contén 7 xelados. Cantos xelados mercou?

2. Copia a cenefa respectando a cuadrícula como na imaxe:



## XOVES

### 1. Copia.

Para ir al colegio en la mochila llevo: dos libros, un estuche, la agenda, un cuaderno y dos mandarinas. Hoy vamos de excursión y tenemos que llevar una gorra, protector solar, una cantimplora con agua y la merienda.

2. Escribe la familia de:

Libro:

Pescado:

### VENRES

1. Cristina ten unha corda que mide 126 cm. Esta semana mercou outra que mide 185 cm. Se une as dúas corda, cantos cm ten a corda en total?
2. Escribe a táboa do 6 e a do 7.

# TAREFA SEMANAL DO 2 AO 5 DE MAIO

## MARTES

### 1. Dictado.

Estaba sentado en el banco de la avenida y me di cuenta de todas las cosas que estaban a mi alrededor: coches, bicicletas, señales de tráfico, contenedores de reciclaje, antenas wifi, placas solares y cables de electricidad.

### 2. Escribe las palabras contrarias de:

Ordenar:

Colocar:

Subir:

Blanco:

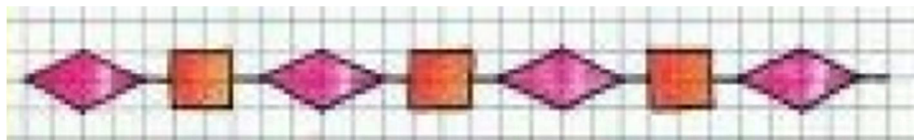
Visible:

Abrir:

## MÉRCORES

1. Carlos mercou 3 caixas de xelados. Cada caixa contén 7 xelados. Cantos xelados mercou?

2. Copia a cenefa respectando a cuadrícula como na imaxe:



## XOVES

### 1. Copia.

Para ir al colegio en la mochila llevo: dos libros, un estuche, la agenda, un cuaderno y dos mandarinas. Hoy vamos de excursión y tenemos que llevar una gorra, protector solar, una cantimplora con agua y la merienda.

2. Escribe la familia de:

Libro:

Pescado:

### VENRES

1. Cristina ten unha corda que mide 126 cm. Esta semana mercou outra que mide 185 cm. Se une as dúas corda, cantos cm ten a corda en total?
2. Escribe a táboa do 6 e a do 7.

# TAREFA SEMANAL DO 2 AO 5 DE MAIO

## MARTES

1. Dictado.

Estaba sentado en el banco de la avenida y me di cuenta de todas las cosas que estaban a mi alrededor: coches, bicicletas, señales de tráfico, contenedores de reciclaje, antenas wifi, placas solares y cables de electricidad.

2. Escribe las palabras contrarias de:

Ordenar:

Colocar:

Subir:

Blanco:

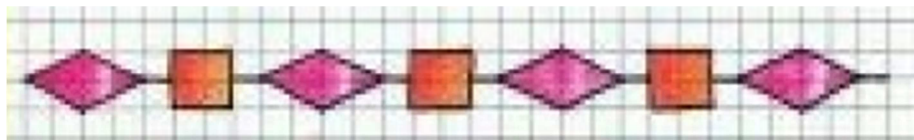
Visible:

Abrir:

## MÉRCORES

1. Carlos mercou 3 caixas de xelados. Cada caixa contén 7 xelados. Cantos xelados mercou?

2. Copia a cenefa respectando a cuadrícula como na imaxe:



## XOVES

1. Copia.

Para ir al colegio en la mochila llevo: dos libros, un estuche, la agenda, un cuaderno y dos mandarinas. Hoy vamos de excursión y tenemos que llevar una gorra, protector solar, una cantimplora con agua y la merienda.

2. Escribe la familia de:

Libro:

Pescado:

### VENRES

1. Cristina ten unha corda que mide 126 cm. Esta semana mercou outra que mide 185 cm. Se une as dúas corda, cantos cm ten a corda en total?
2. Escribe a táboa do 6 e a do 7.



# TAREFA SEMANAL DO 2 AO 5 DE MAIO

## MARTES

1. Dictado.

Estaba sentado en el banco de la avenida y me di cuenta de todas las cosas que estaban a mi alrededor: coches, bicicletas, señales de tráfico, contenedores de reciclaje, antenas wifi, placas solares y cables de electricidad.

2. Escribe las palabras contrarias de:

Ordenar:

Colocar:

Subir:

Blanco:

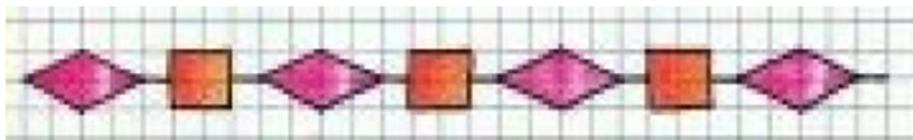
Visible:

Abrir:

## MÉRCORES

1. Carlos mercou 3 caixas de xelados. Cada caixa contém 7 xelados. Cantos xelados mercou?

2. Copia a cenefa respectando a quadrícula como na imaxe:



## XOVES

1. Copia.

Para ir al colegio en la mochila llevo: dos libros, un estuche, la agenda, un cuaderno y dos mandarinas. Hoy vamos de excursión y tenemos que llevar una gorra, protector solar, una cantimplora con agua y la merienda.

2. Escribe la familia de:

Libro:

Pescado:

### VENRES

1. Cristina ten unha corda que mide 126 cm. Esta semana mercou outra que mide 185 cm. Se une as dúas corda, cantos cm ten a corda en total?
2. Escribe a táboa do 6 e a do 7.

# TAREFA SEMANAL DO 2 AO 5 DE MAIO

## MARTES

1. Dictado.

Estaba sentado en el banco de la avenida y me di cuenta de todas las cosas que estaban a mi alrededor: coches, bicicletas, señales de tráfico, contenedores de reciclaje, antenas wifi, placas solares y cables de electricidad.

2. Escribe las palabras contrarias de:

Ordenar:

Colocar:

Subir:

Blanco:

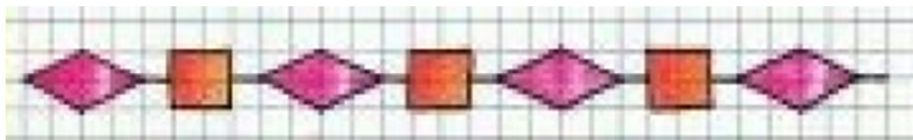
Visible:

Abrir:

## MÉRCORES

1. Carlos mercou 3 caixas de xelados. Cada caixa contém 7 xelados. Cantos xelados mercou?

2. Copia a cenefa respectando a quadrícula como na imaxe:



## XOVES

1. Cópia.

Para ir al colegio en la mochila llevo: dos libros, un estuche, la agenda, un cuaderno y dos mandarinas. Hoy vamos de excursión y tenemos que llevar una gorra, protector solar, una cantimplora con agua y la merienda.

2. Escribe la familia de:

Libro:

Pescado:

### VENRES

1. Cristina ten unha corda que mide 126 cm. Esta semana mercou outra que mide 185 cm. Se une as dúas corda, cantos cm ten a corda en total?
2. Escribe a táboa do 6 e a do 7.

# TAREFA SEMANAL DO 2 AO 5 DE MAIO

## MARTES

### 1. Dictado.

Estaba sentado en el banco de la avenida y me di cuenta de todas las cosas que estaban a mi alrededor: coches, bicicletas, señales de tráfico, contenedores de reciclaje, antenas wifi, placas solares y cables de electricidad.

### 2. Escribe las palabras contrarias de:

Ordenar:

Colocar:

Subir:

Blanco:

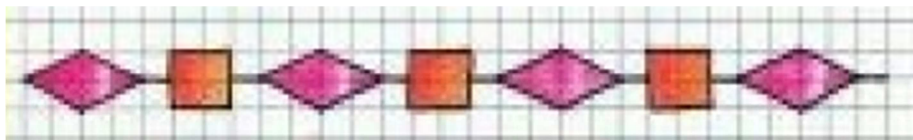
Visible:

Abrir:

## MÉRCORES

1. Carlos mercou 3 caixas de xelados. Cada caixa contén 7 xelados. Cantos xelados mercou?

2. Copia a cenefa respectando a cuadrícula como na imaxe:



## XOVES

### 1. Copia.

Para ir al colegio en la mochila llevo: dos libros, un estuche, la agenda, un cuaderno y dos mandarinas. Hoy vamos de excursión y tenemos que llevar una gorra, protector solar, una cantimplora con agua y la merienda.

2. Escribe la familia de:

Libro:

Pescado:

### VENRES

1. Cristina ten unha corda que mide 126 cm. Esta semana mercou outra que mide 185 cm. Se une as dúas corda, cantos cm ten a corda en total?
2. Escribe a táboa do 6 e a do 7.

# TAREFA SEMANAL DO 2 AO 5 DE MAIO

## MARTES

1. Dictado.

Estaba sentado en el banco de la avenida y me di cuenta de todas las cosas que estaban a mi alrededor: coches, bicicletas, señales de tráfico, contenedores de reciclaje, antenas wifi, placas solares y cables de electricidad.

2. Escribe las palabras contrarias de:

Ordenar:

Colocar:

Subir:

Blanco:

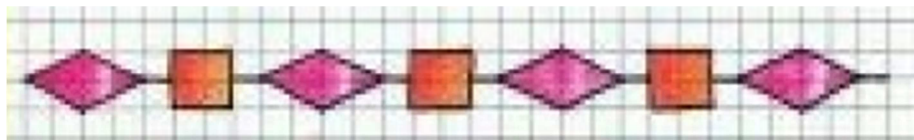
Visible:

Abrir:

## MÉRCORES

1. Carlos mercou 3 caixas de xelados. Cada caixa contén 7 xelados. Cantos xelados mercou?

2. Copia a cenefa respectando a cuadrícula como na imaxe:



## XOVES

1. Copia.

Para ir al colegio en la mochila llevo: dos libros, un estuche, la agenda, un cuaderno y dos mandarinas. Hoy vamos de excursión y tenemos que llevar una gorra, protector solar, una cantimplora con agua y la merienda.

2. Escribe la familia de:

Libro:

Pescado:

### VENRES

1. Cristina ten unha corda que mide 126 cm. Esta semana mercou outra que mide 185 cm. Se une as dúas corda, cantos cm ten a corda en total?
2. Escribe a táboa do 6 e a do 7.



# TAREFA SEMANAL DO 2 AO 5 DE MAIO

## MARTES

### 1. Dictado.

Estaba sentado en el banco de la avenida y me di cuenta de todas las cosas que estaban a mi alrededor: coches, bicicletas, señales de tráfico, contenedores de reciclaje, antenas wifi, placas solares y cables de electricidad.

### 2. Escribe las palabras contrarias de:

Ordenar:

Colocar:

Subir:

Blanco:

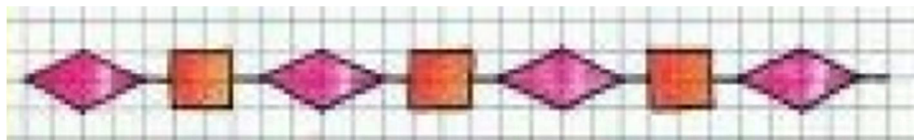
Visible:

Abrir:

## MÉRCORES

1. Carlos mercou 3 caixas de xelados. Cada caixa contén 7 xelados. Cantos xelados mercou?

2. Copia a cenefa respectando a cuadrícula como na imaxe:



## XOVES

### 1. Copia.

Para ir al colegio en la mochila llevo: dos libros, un estuche, la agenda, un cuaderno y dos mandarinas. Hoy vamos de excursión y tenemos que llevar una gorra, protector solar, una cantimplora con agua y la merienda.

2. Escribe la familia de:

Libro:

Pescado:

### VENRES

1. Cristina ten unha corda que mide 126 cm. Esta semana mercou outra que mide 185 cm. Se une as dúas corda, cantos cm ten a corda en total?
2. Escribe a táboa do 6 e a do 7.

# TAREFA SEMANAL DO 2 AO 5 DE MAIO

## MARTES

### 1. Dictado.

Estaba sentado en el banco de la avenida y me di cuenta de todas las cosas que estaban a mi alrededor: coches, bicicletas, señales de tráfico, contenedores de reciclaje, antenas wifi, placas solares y cables de electricidad.

### 2. Escribe las palabras contrarias de:

Ordenar:

Colocar:

Subir:

Blanco:

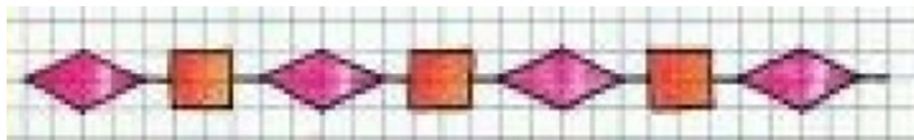
Visible:

Abrir:

## MÉRCORES

1. Carlos mercou 3 caixas de xelados. Cada caixa contén 7 xelados. Cantos xelados mercou?

2. Copia a cenefa respectando a cuadrícula como na imaxe:



## XOVES

### 1. Copia.

Para ir al colegio en la mochila llevo: dos libros, un estuche, la agenda, un cuaderno y dos mandarinas. Hoy vamos de excursión y tenemos que llevar una gorra, protector solar, una cantimplora con agua y la merienda.

2. Escribe la familia de:

Libro:

Pescado:

### VENRES

1. Cristina ten unha corda que mide 126 cm. Esta semana mercou outra que mide 185 cm. Se une as dúas corda, cantos cm ten a corda en total?
2. Escribe a táboa do 6 e a do 7.

# TAREFA SEMANAL DO 2 AO 5 DE MAIO

## MARTES

### 1. Dictado.

Estaba sentado en el banco de la avenida y me di cuenta de todas las cosas que estaban a mi alrededor: coches, bicicletas, señales de tráfico, contenedores de reciclaje, antenas wifi, placas solares y cables de electricidad.

### 2. Escribe las palabras contrarias de:

Ordenar:

Colocar:

Subir:

Blanco:

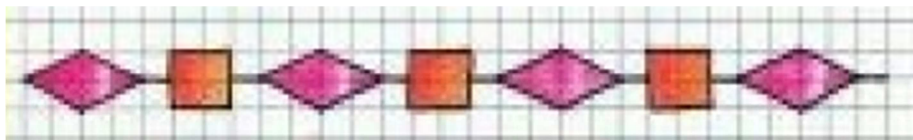
Visible:

Abrir:

## MÉRCORES

1. Carlos mercou 3 caixas de xelados. Cada caixa contén 7 xelados. Cantos xelados mercou?

2. Copia a cenefa respectando a cuadrícula como na imaxe:



## XOVES

### 1. Copia.

Para ir al colegio en la mochila llevo: dos libros, un estuche, la agenda, un cuaderno y dos mandarinas. Hoy vamos de excursión y tenemos que llevar una gorra, protector solar, una cantimplora con agua y la merienda.

2. Escribe la familia de:

Libro:

Pescado:

### VENRES

1. Cristina ten unha corda que mide 126 cm. Esta semana mercou outra que mide 185 cm. Se une as dúas corda, cantos cm ten a corda en total?
2. Escribe a táboa do 6 e a do 7.

# TAREFA SEMANAL DO 2 AO 5 DE MAIO

## MARTES

### 1. Dictado.

Estaba sentado en el banco de la avenida y me di cuenta de todas las cosas que estaban a mi alrededor: coches, bicicletas, señales de tráfico, contenedores de reciclaje, antenas wifi, placas solares y cables de electricidad.

### 2. Escribe las palabras contrarias de:

Ordenar:

Colocar:

Subir:

Blanco:

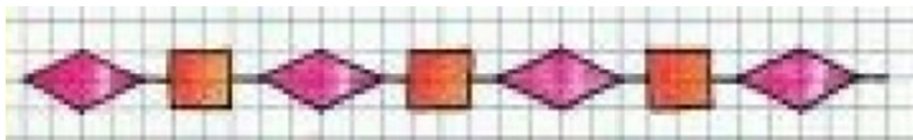
Visible:

Abrir:

## MÉRCORES

1. Carlos mercou 3 caixas de xelados. Cada caixa contén 7 xelados. Cantos xelados mercou?

2. Copia a cenefa respectando a cuadrícula como na imaxe:



## XOVES

### 1. Copia.

Para ir al colegio en la mochila llevo: dos libros, un estuche, la agenda, un cuaderno y dos mandarinas. Hoy vamos de excursión y tenemos que llevar una gorra, protector solar, una cantimplora con agua y la merienda.

2. Escribe la familia de:

Libro:

Pescado:

### VENRES

1. Cristina ten unha corda que mide 126 cm. Esta semana mercou outra que mide 185 cm. Se une as dúas corda, cantos cm ten a corda en total?
2. Escribe a táboa do 6 e a do 7.



# TAREFA SEMANAL DO 2 AO 5 DE MAIO

## MARTES

### 1. Dictado.

Estaba sentado en el banco de la avenida y me di cuenta de todas las cosas que estaban a mi alrededor: coches, bicicletas, señales de tráfico, contenedores de reciclaje, antenas wifi, placas solares y cables de electricidad.

### 2. Escribe las palabras contrarias de:

Ordenar:

Colocar:

Subir:

Blanco:

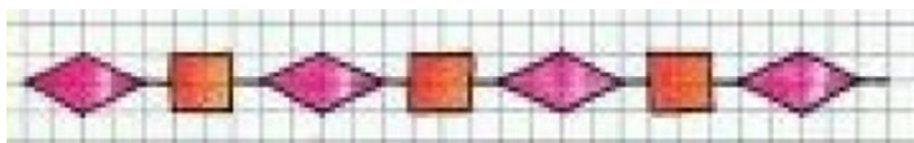
Visible:

Abrir:

## MÉRCORES

1. Carlos mercou 3 caixas de xelados. Cada caixa contén 7 xelados. Cantos xelados mercou?

2. Copia a cenefa respectando a cuadrícula como na imaxe:



## XOVES

### 1. Copia.

Para ir al colegio en la mochila llevo: dos libros, un estuche, la agenda, un cuaderno y dos mandarinas. Hoy vamos de excursión y tenemos que llevar una gorra, protector solar, una cantimplora con agua y la merienda.

2. Escribe la familia de:

Libro:

Pescado:

### VENRES

1. Cristina ten unha corda que mide 126 cm. Esta semana mercou outra que mide 185 cm. Se une as dúas corda, cantos cm ten a corda en total?
2. Escribe a táboa do 6 e a do 7.

# TAREFA SEMANAL DO 2 AO 5 DE MAIO

## MARTES

### 1. Dictado.

Estaba sentado en el banco de la avenida y me di cuenta de todas las cosas que estaban a mi alrededor: coches, bicicletas, señales de tráfico, contenedores de reciclaje, antenas wifi, placas solares y cables de electricidad.

### 2. Escribe las palabras contrarias de:

Ordenar:

Colocar:

Subir:

Blanco:

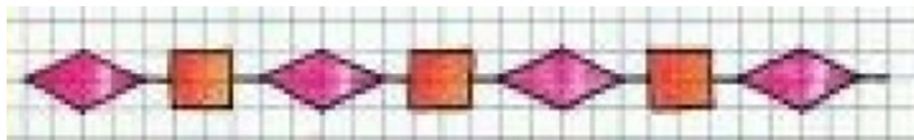
Visible:

Abrir:

## MÉRCORES

1. Carlos mercou 3 caixas de xelados. Cada caixa contén 7 xelados. Cantos xelados mercou?

2. Copia a cenefa respectando a cuadrícula como na imaxe:



## XOVES

### 1. Copia.

Para ir al colegio en la mochila llevo: dos libros, un estuche, la agenda, un cuaderno y dos mandarinas. Hoy vamos de excursión y tenemos que llevar una gorra, protector solar, una cantimplora con agua y la merienda.

2. Escribe la familia de:

Libro:

Pescado:

### VENRES

1. Cristina ten unha corda que mide 126 cm. Esta semana mercou outra que mide 185 cm. Se une as dúas corda, cantos cm ten a corda en total?
2. Escribe a táboa do 6 e a do 7.

# TAREFA SEMANAL DO 2 AO 5 DE MAIO

## MARTES

### 1. Dictado.

Estaba sentado en el banco de la avenida y me di cuenta de todas las cosas que estaban a mi alrededor: coches, bicicletas, señales de tráfico, contenedores de reciclaje, antenas wifi, placas solares y cables de electricidad.

### 2. Escribe las palabras contrarias de:

Ordenar:

Colocar:

Subir:

Blanco:

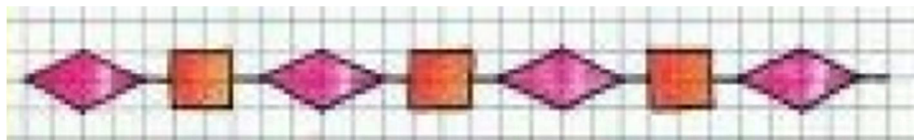
Visible:

Abrir:

## MÉRCORES

1. Carlos mercou 3 caixas de xelados. Cada caixa contén 7 xelados. Cantos xelados mercou?

2. Copia a cenefa respectando a cuadrícula como na imaxe:



## XOVES

### 1. Copia.

Para ir al colegio en la mochila llevo: dos libros, un estuche, la agenda, un cuaderno y dos mandarinas. Hoy vamos de excursión y tenemos que llevar una gorra, protector solar, una cantimplora con agua y la merienda.

2. Escribe la familia de:

Libro:

Pescado:

### VENRES

1. Cristina ten unha corda que mide 126 cm. Esta semana mercou outra que mide 185 cm. Se une as dúas corda, cantos cm ten a corda en total?
2. Escribe a táboa do 6 e a do 7.

# TAREFA SEMANAL DO 2 AO 5 DE MAIO

## MARTES

### 1. Dictado.

Estaba sentado en el banco de la avenida y me di cuenta de todas las cosas que estaban a mi alrededor: coches, bicicletas, señales de tráfico, contenedores de reciclaje, antenas wifi, placas solares y cables de electricidad.

### 2. Escribe las palabras contrarias de:

Ordenar:

Colocar:

Subir:

Blanco:

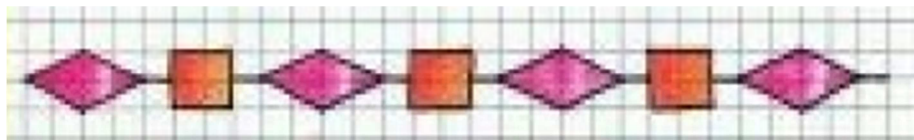
Visible:

Abrir:

## MÉRCORES

1. Carlos mercou 3 caixas de xelados. Cada caixa contén 7 xelados. Cantos xelados mercou?

2. Copia a cenefa respectando a cuadrícula como na imaxe:



## XOVES

### 1. Copia.

Para ir al colegio en la mochila llevo: dos libros, un estuche, la agenda, un cuaderno y dos mandarinas. Hoy vamos de excursión y tenemos que llevar una gorra, protector solar, una cantimplora con agua y la merienda.

2. Escribe la familia de:

Libro:

Pescado:

### VENRES

1. Cristina ten unha corda que mide 126 cm. Esta semana mercou outra que mide 185 cm. Se une as dúas corda, cantos cm ten a corda en total?
2. Escribe a táboa do 6 e a do 7.



# TAREFA SEMANAL DO 2 AO 5 DE MAIO

## MARTES

1. Dictado.

Estaba sentado en el banco de la avenida y me di cuenta de todas las cosas que estaban a mi alrededor: coches, bicicletas, señales de tráfico, contenedores de reciclaje, antenas wifi, placas solares y cables de electricidad.

2. Escribe las palabras contrarias de:

Ordenar:

Colocar:

Subir:

Blanco:

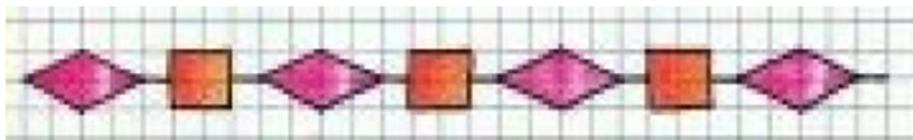
Visible:

Abrir:

## MÉRCORES

1. Carlos mercou 3 caixas de xelados. Cada caixa contém 7 xelados. Cantos xelados mercou?

2. Copia a cenefa respectando a quadrícula como na imaxe:



## XOVES

1. Copia.

Para ir al colegio en la mochila llevo: dos libros, un estuche, la agenda, un cuaderno y dos mandarinas. Hoy vamos de excursión y tenemos que llevar una gorra, protector solar, una cantimplora con agua y la merienda.

2. Escribe la familia de:

Libro:

Pescado:

### VENRES

1. Cristina ten unha corda que mide 126 cm. Esta semana mercou outra que mide 185 cm. Se une as dúas corda, cantos cm ten a corda en total?
2. Escribe a táboa do 6 e a do 7.

# TAREFA SEMANAL DO 2 AO 5 DE MAIO

## MARTES

### 1. Dictado.

Estaba sentado en el banco de la avenida y me di cuenta de todas las cosas que estaban a mi alrededor: coches, bicicletas, señales de tráfico, contenedores de reciclaje, antenas wifi, placas solares y cables de electricidad.

### 2. Escribe las palabras contrarias de:

Ordenar:

Colocar:

Subir:

Blanco:

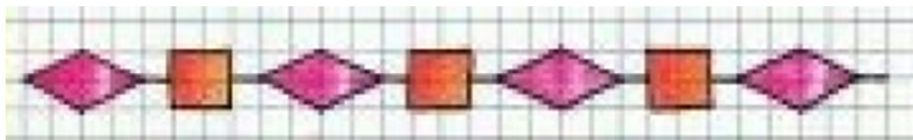
Visible:

Abrir:

## MÉRCORES

1. Carlos mercou 3 caixas de xelados. Cada caixa contén 7 xelados. Cantos xelados mercou?

2. Copia a cenefa respectando a cuadrícula como na imaxe:



## XOVES

### 1. Copia.

Para ir al colegio en la mochila llevo: dos libros, un estuche, la agenda, un cuaderno y dos mandarinas. Hoy vamos de excursión y tenemos que llevar una gorra, protector solar, una cantimplora con agua y la merienda.

2. Escribe la familia de:

Libro:

Pescado:

### VENRES

1. Cristina ten unha corda que mide 126 cm. Esta semana mercou outra que mide 185 cm. Se une as dúas corda, cantos cm ten a corda en total?
2. Escribe a táboa do 6 e a do 7.

# TAREFA SEMANAL DO 2 AO 5 DE MAIO

## MARTES

1. Dictado.

Estaba sentado en el banco de la avenida y me di cuenta de todas las cosas que estaban a mi alrededor: coches, bicicletas, señales de tráfico, contenedores de reciclaje, antenas wifi, placas solares y cables de electricidad.

2. Escribe las palabras contrarias de:

Ordenar:

Colocar:

Subir:

Blanco:

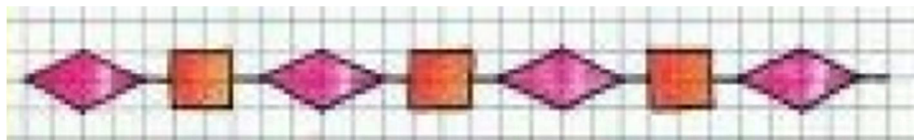
Visible:

Abrir:

## MÉRCORES

1. Carlos mercou 3 caixas de xelados. Cada caixa contén 7 xelados. Cantos xelados mercou?

2. Copia a cenefa respectando a cuadrícula como na imaxe:



## XOVES

1. Copia.

Para ir al colegio en la mochila llevo: dos libros, un estuche, la agenda, un cuaderno y dos mandarinas. Hoy vamos de excursión y tenemos que llevar una gorra, protector solar, una cantimplora con agua y la merienda.

2. Escribe la familia de:

Libro:

Pescado:

### VENRES

1. Cristina ten unha corda que mide 126 cm. Esta semana mercou outra que mide 185 cm. Se une as dúas corda, cantos cm ten a corda en total?
2. Escribe a táboa do 6 e a do 7.

# TAREFA SEMANAL DO 2 AO 5 DE MAIO

## MARTES

1. Dictado.

Estaba sentado en el banco de la avenida y me di cuenta de todas las cosas que estaban a mi alrededor: coches, bicicletas, señales de tráfico, contenedores de reciclaje, antenas wifi, placas solares y cables de electricidad.

2. Escribe las palabras contrarias de:

Ordenar:

Colocar:

Subir:

Blanco:

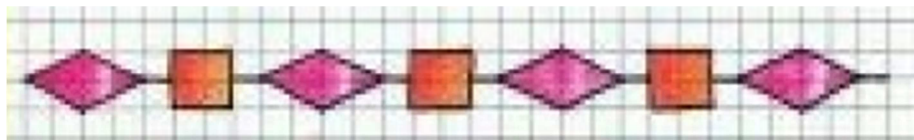
Visible:

Abrir:

## MÉRCORES

1. Carlos mercou 3 caixas de xelados. Cada caixa contén 7 xelados. Cantos xelados mercou?

2. Copia a cenefa respectando a cuadrícula como na imaxe:



## XOVES

1. Copia.

Para ir al colegio en la mochila llevo: dos libros, un estuche, la agenda, un cuaderno y dos mandarinas. Hoy vamos de excursión y tenemos que llevar una gorra, protector solar, una cantimplora con agua y la merienda.

2. Escribe la familia de:

Libro:

Pescado:

### VENRES

1. Cristina ten unha corda que mide 126 cm. Esta semana mercou outra que mide 185 cm. Se une as dúas corda, cantos cm ten a corda en total?
2. Escribe a táboa do 6 e a do 7.



# TAREFA SEMANAL DO 2 AO 5 DE MAIO

## MARTES

1. Dictado.

Estaba sentado en el banco de la avenida y me di cuenta de todas las cosas que estaban a mi alrededor: coches, bicicletas, señales de tráfico, contenedores de reciclaje, antenas wifi, placas solares y cables de electricidad.

2. Escribe las palabras contrarias de:

Ordenar:

Colocar:

Subir:

Blanco:

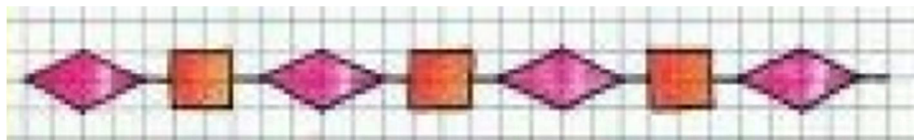
Visible:

Abrir:

## MÉRCORES

1. Carlos mercou 3 caixas de xelados. Cada caixa contén 7 xelados. Cantos xelados mercou?

2. Copia a cenefa respectando a cuadrícula como na imaxe:



## XOVES

1. Copia.

Para ir al colegio en la mochila llevo: dos libros, un estuche, la agenda, un cuaderno y dos mandarinas. Hoy vamos de excursión y tenemos que llevar una gorra, protector solar, una cantimplora con agua y la merienda.

2. Escribe la familia de:

Libro:

Pescado:

### VENRES

1. Cristina ten unha corda que mide 126 cm. Esta semana mercou outra que mide 185 cm. Se une as dúas corda, cantos cm ten a corda en total?
2. Escribe a táboa do 6 e a do 7.

# TAREFA SEMANAL DO 2 AO 5 DE MAIO

## MARTES

1. Dictado.

Estaba sentado en el banco de la avenida y me di cuenta de todas las cosas que estaban a mi alrededor: coches, bicicletas, señales de tráfico, contenedores de reciclaje, antenas wifi, placas solares y cables de electricidad.

2. Escribe las palabras contrarias de:

Ordenar:

Colocar:

Subir:

Blanco:

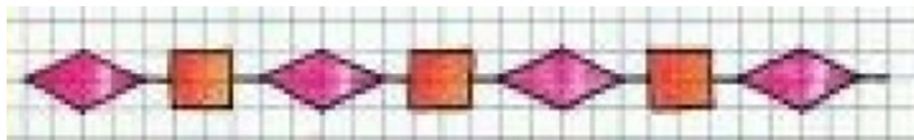
Visible:

Abrir:

## MÉRCORES

1. Carlos mercou 3 caixas de xelados. Cada caixa contén 7 xelados. Cantos xelados mercou?

2. Copia a cenefa respectando a cuadrícula como na imaxe:



## XOVES

1. Copia.

Para ir al colegio en la mochila llevo: dos libros, un estuche, la agenda, un cuaderno y dos mandarinas. Hoy vamos de excursión y tenemos que llevar una gorra, protector solar, una cantimplora con agua y la merienda.

2. Escribe la familia de:

Libro:

Pescado:

### VENRES

1. Cristina ten unha corda que mide 126 cm. Esta semana mercou outra que mide 185 cm. Se une as dúas corda, cantos cm ten a corda en total?
2. Escribe a táboa do 6 e a do 7.