

Nome \_\_\_\_\_

Data \_\_\_\_\_

**REPASA ESTA INFORMACIÓN.**

Os seres humanos captamos información sobre o que sucede ao noso arredor mediante a función de relación. Grazas a ela tamén podemos comunicarnos con outras persoas.

Na función de relación interveñen os órganos dos sentidos, o sistema nervioso e o aparello locomotor.

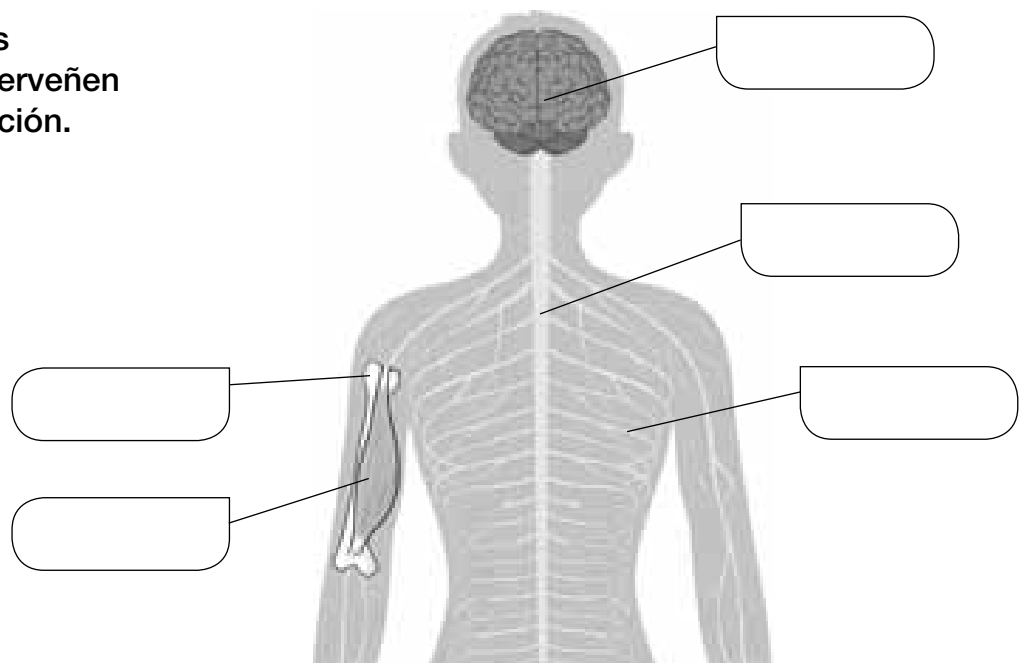
O sistema nervioso está formado polo encéfalo, os nervios e a medula espiñal.

O aparello locomotor está composto polos ósos e os músculos.

**1 Completa as seguintes oracións:**

- A función de \_\_\_\_\_ permítenos obter información do exterior.
- Na función de relación interveñen o aparello \_\_\_\_\_ e o sistema \_\_\_\_\_.
- O sistema nervioso está formado polo \_\_\_\_\_, os \_\_\_\_\_ e a \_\_\_\_\_.
- O conxunto de todos os ósos do corpo é o \_\_\_\_\_.

**2 Pon os nomes dos elementos que interveñen na función de relación.**



Nome \_\_\_\_\_

Data \_\_\_\_\_

**REPASA ESTA INFORMACIÓN.**

As persoas temos cinco sentidos: a vista, o oído, o olfacto, o gusto e o tacto. Grazas a eles podemos captar información do contorno e responder a ela.

Os ollos, os oídos, a pel, a boca e o nariz son as partes do noso corpo responsables de captar toda esta información. Todos eles constitúen os órganos dos sentidos.

**1 Relaciona cada elemento co órgano ao que pertence.**

- |              |           |                       |
|--------------|-----------|-----------------------|
| retina •     | • pel •   | • caracol             |
| tímpano •    | • ollo •  | • receptores do tacto |
| pupila •     | • nariz • | • cristalino          |
| pituitaria • | • oído •  | • papilas             |
| amarela      | • boca •  |                       |

**2 Completa as oracións.**

- Os \_\_\_\_\_ captan a luz mediante a retina e mandan a información ao cerebro a través do \_\_\_\_\_ óptico.
- O \_\_\_\_\_ permítenos coñecer características dos obxectos a través da pel.
- O \_\_\_\_\_ permítenos captar os olores mediante o \_\_\_\_\_, grazas á \_\_\_\_\_ amarela.

**3 Escribe unha oración coas seguintes palabras.**

interpreta – nervios – órganos dos sentidos – información – cerebro

---



---

Nome \_\_\_\_\_

Data \_\_\_\_\_


**REPASA ESTA INFORMACIÓN.**

Como calquera outra parte do noso corpo, os órganos dos sentidos necesitan que os coidemos. Para isto debemos acostumarnos a ter uns hábitos saudables que nos axuden a conservar a súa saúde.


**1 Escribe todos os hábitos relacionados co coidado dos órganos dos sentidos relacionados con cada fotografía.**



A. \_\_\_\_\_  
\_\_\_\_\_  
\_\_\_\_\_



B. \_\_\_\_\_  
\_\_\_\_\_  
\_\_\_\_\_



C. \_\_\_\_\_  
\_\_\_\_\_  
\_\_\_\_\_

**2 Explica a que se dedican un oftalmólogo e un otorrino.**

\_\_\_\_\_  
\_\_\_\_\_  
\_\_\_\_\_